

**地 理**( 解答番号 

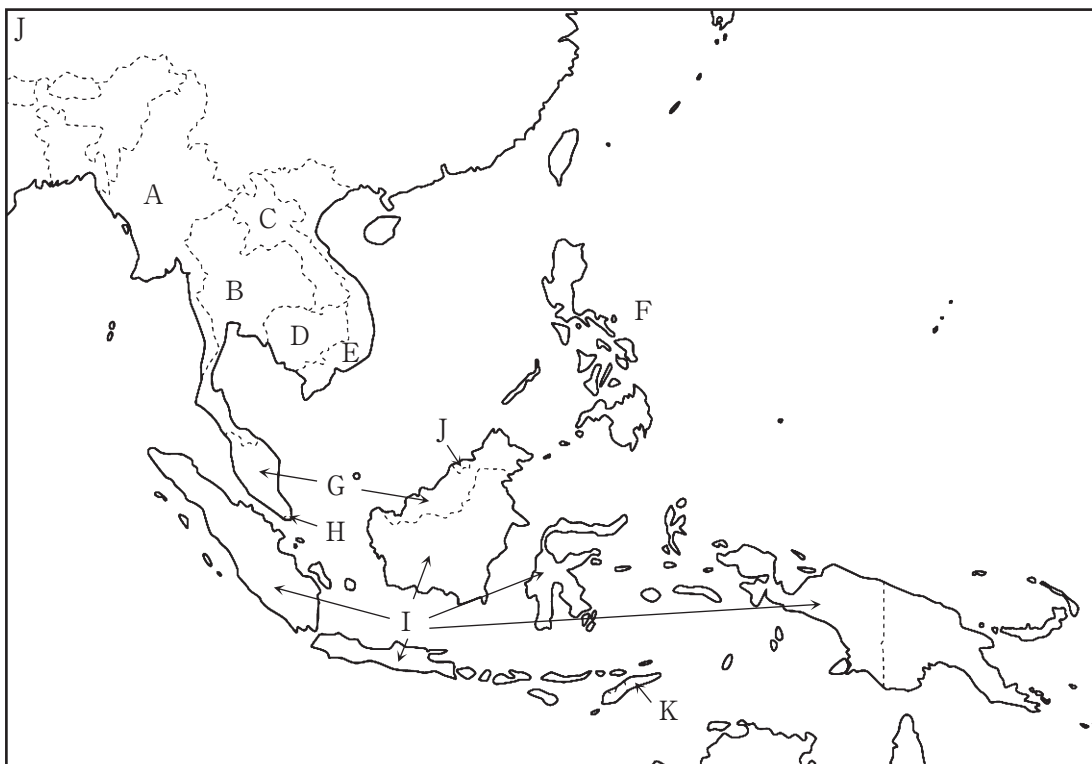
1
---

 ~ 

40
----

 )

I 次の東南アジアの地図と文を読み、下の問い（問1～13）に答えよ。



東南アジアは、多民族が暮らす地域である。もともと、マレー半島や島嶼部には（ア）系の人々が、インドシナ半島にはミャンマー系やタイ系、（イ）系の人々が居住していた。6世紀から13世紀にかけて、インド文明が東南アジアの広い範囲に影響を与えたため、現在はインドシナ半島ではおもに（ウ）が信仰されている。また、海洋交易の要衝であった東南アジアでは、13世紀に西アジアからやってきた商人により（エ）がもたらされ、おもに島嶼部で広まっていった。大航海時代になるとポルトガルやスペイン、オランダなどが進出し、植民地化を進

めていった。その影響もあって、今も（ オ ）では9割がキリスト教徒となっている。

産業革命後の19世紀に入ると、イギリスやフランス、アメリカ合衆国も植民地政策に加わり、（ カ ）を除く東南アジア全域が欧米諸国の植民地になっていった。植民地時代に入ると、商人や労働者として中国系の人々が移住し、さらに東南アジアの農業経営の特徴である（ キ ）の労働者としてインド系の人々が移住し、ますます多民族が暮らす地域となっていった。（ ク ）と呼ばれる中国系の人々は経済的にも豊かな人が多く、（ ケ ）ではマレー系の人々との経済格差を縮めるために（ コ ）政策が行われた。一方、こうしたマレー系住民優先の政策と対立した（ サ ）は、連邦を離脱し独立することとなった。

東南アジアの気候の特徴は、モンスーンと呼ばれる季節風の影響を強く受けることである。11月から4月にかけては北東から風が吹き込み、5月から10月にかけては南西から風が吹いてくる。そのため、雨が多く降る雨季と雨が少ない乾季を繰り返す（ シ ）が広がる。一方、赤道に近いマレー半島南部や島嶼部では、1年を通して雨が多く、（ ス ）になっている。

このように雨が多い地域であるので、（ セ ）が発達した。伝統的には土地生産性が低く自給用として消費することが多かったが、1960年代以降の「緑の革命」によって生産性が向上し、商業用の生産も増加していった。東南アジアにおける農業の特徴のもう一つに、植民地時代の（ キ ）から始まる大規模な商品作物の栽培がある。植民地支配から独立を果たした後も、（ ソ ）や（ タ ）、（ チ ）などの単一作物を栽培、販売する国際的なアグリビジネスの参入が見られる。こうした大規模な農場経営は、一方で熱帯林の伐採や生態系の破壊などの環境問題も引き起こしている。

このような農業中心のモノカルチャー経済から脱却すべく、第二次世界大戦後は工業化による経済発展を目指した。輸入に依存していた工業製品を国内で生産する（ ツ ）から始め、徐々に外資も取り入れながら（ テ ）の工業化が進められた。こうした工業化にいち早く成功したのが（ ト ）である。工業化によって経済成長を遂げた東南アジアの国々は、先進的に経済発展を成功させたタイ、インドネシア、フィリピン、マレーシア、シンガポールによって（ ナ ）を結成し、相

互協力の体制を構築した。その後、( ナ ) は加盟国を増やし、経済格差を縮小すべく、メコン川流域の国々を中心とした「大メコン圏」やシンガポール、マレーシア、インドネシアで構成する「成長のトライアングル」のような国を越えた経済圏をつくり出す構想も動いており、東南アジアという地域全体で経済活性化を目指している。

問1 ( ア ) ( イ ) に当てはまる組合せとして最も適当なものを、次の①～

④のうちから一つ選びマークせよ。 1

- ① ア：タガログ イ：インド                      ② ア：マレー イ：インド  
③ ア：マレー イ：クメール                      ④ ア：マレー イ：タガログ

問2 ( ウ ) ( エ ) に当てはまる組合せとして最も適当なものを、次の①～

④のうちから一つ選びマークせよ。 2

- ① ウ：ヒンドゥー教 エ：イスラーム  
② ウ：ヒンドゥー教 エ：キリスト教  
③ ウ：仏教 エ：イスラーム  
④ ウ：仏教 エ：ヒンドゥー教

問3 ( オ ) ( カ ) に当てはまる国を地図中から選び、その組合せとして最も適当なものを、次の①～④のうちから一つ選びマークせよ。 3

- ① オ：F国 カ：B国                      ② オ：F国 カ：D国  
③ オ：G国 カ：A国                      ④ オ：H国 カ：A国

問4 ( キ ) に当てはまる最も適当なものを、次の①～④のうちから一つ選びマークせよ。 4

- ① 混合農業                                      ② 集約的稲作農業  
③ プランテーション農業                      ④ 焼畑農業

問5 ( ク ) に当てはまる最も適当なものを、次の①～④のうちから一つ選びマークせよ。 5

- ① 印 僑                      ② 越 僑                      ③ 華 僑                      ④ 和 僑

問6 ( ケ ) ( サ ) に当てはまる国の組合せとして最も適当なものを、次の①～④のうちから一つ選びマークせよ。 6

- ① ケ：G国 サ：H国                      ② ケ：G国 サ：J国  
③ ケ：I国 サ：H国                      ④ ケ：I国 サ：J国

問7 ( コ ) に当てはまる最も適当なものを、次の①～④のうちから一つ選びマークせよ。 7

- ① ドイモイ                      ② トランスミグラシ  
③ ブミプトラ                      ④ ルック・イースト

問8 ( シ ) ( ス ) に当てはまる気候（ケッペンの気候区分）として組合せとして最も適当なものを、次の①～④のうちから一つ選びマークせよ。

8

- ① シ：サバナ気候      ス：温暖湿潤気候  
② シ：サバナ気候      ス：熱帯雨林気候  
③ シ：ステップ気候      ス：温暖湿潤気候  
④ シ：ステップ気候      ス：熱帯雨林気候

問9 ( セ ) に当てはまる最も適当なものを、次の①～④のうちから一つ選びマークせよ。 9

- ① 稲作農業                      ② 混合農業                      ③ 三圃式農業                      ④ 焼畑農業



問10 ( ソ ) ～ ( チ ) に当てはまらない作物として最も適切なものを，次の①～④のうちから一つ選びマークせよ。

10

- ① 油やし                      ② ココやし                      ③ バナナ                      ④ ユーカリ

問11 ( ツ ) ( テ ) に当てはまる組合せとして最も適切なものを，次の①～④のうちから一つ選びマークせよ。

11

- ① ツ：加工組立型    テ：輸入代替型  
② ツ：内需拡大型    テ：輸出指向型  
③ ツ：内需拡大型    テ：輸入代替型  
④ ツ：輸入代替型    テ：輸出指向型

問12 ( ト ) に当てはまる国として最も適切なものを，次の①～④のうちから一つ選びマークせよ。

12

- ① B 国                      ② G 国                      ③ H 国                      ④ I 国

問13 ( ナ ) に当てはまる最も適切なものを，次の①～④のうちから一つ選びマークせよ。

13

- ① APEC                      ② ASEAN                      ③ BRICS                      ④ NIEs

## II



図 1





図 2

最上川は山形・福島県境の西吾妻山を源流として、日本海に注ぐ一級河川である。  
江戸時代には<sup>a</sup>北前船などの海運と最上川舟運が連絡し、<sup>b</sup>流域内では紅花や青苧<sup>あおそ</sup>などの商品作物の輸送のみならず、<sup>c</sup>工芸品の発達・工芸品製作の発展も促した。明治時代には<sup>d</sup>奥羽本線が開通し、舟運から鉄道へと輸送がシフトしていった。現代では奥羽本線を新幹線車両が直通できるように改良し、1992年には山形新幹線が開業するなど鉄道も変化している。

問1 下線部 a によって形成された沖積平野として最も適当なものを、次の①～④のうちから一つ選びマークせよ。 14

- ① 秋田平野      ② 庄内平野      ③ 仙台平野      ④ 能代平野

問2 下線部 b として適当でないものを、次の①～④のうちから一つ選びマークせよ。 15

- ① 阿賀野川      ② 阿武隈川      ③ 雄物川      ④ 米代川

問3 下線部 c に関連して、北前船の寄港地と河川の組合せとして適当でないものを、次の①～④のうちから一つ選びマークせよ。 16

- ① 鳥取    -    千代川      ② 富山    -    神通川  
③ 新潟    -    信濃川      ④ 広島    -    高梁川

問4 下線部 d について流域内でつくられたものとして適当でないものを、次の①～④のうちから一つ選びマークせよ。 17

- ① 酒田獅子頭      ② 天童将棋駒      ③ 南部鉄器      ④ 山形仏壇

問5 下線部eについて図1から読み取れることを述べた文として最も適切なものを、次の①～④のうちから一つ選びマークせよ。 18

- ① 茶の産地であり、茶畑の間を通っている。
- ② 傾斜地を切り開いた標高の高い地域を通っている。
- ③ 主要道に沿って敷設され、集落の間を結んでいる。
- ④ 米澤市の市街地から少し離れた場所に駅がつくられている。

問6 図1中の中央付近に見られる密集地の説明として最も適切なものを、次の①～④のうちから一つ選びマークせよ。 19

- ① 碁盤目状に道路・水路がつくられ、家屋が塊状になる条里集落
- ② 神社への参詣人を迎え入れる中で発展した門前町
- ③ 中央に共有地を持ち、周囲に家屋が立ち並ぶ環状の農業集落
- ④ 中世から近世にかけて当時の領主によってつくられた城下町

問7 図2の縮尺として最も適切なものを、次の①～④のうちから一つ選びマークせよ。 20

- ① 5千分の1
- ② 1万分の1
- ③ 2万5千分の1
- ④ 5万分の1

問8 図2中の「よねざわ」駅から市役所までを測ると4.6cmある。実際の距離として最も適切なものを、次の①～④のうちから一つ選びマークせよ。

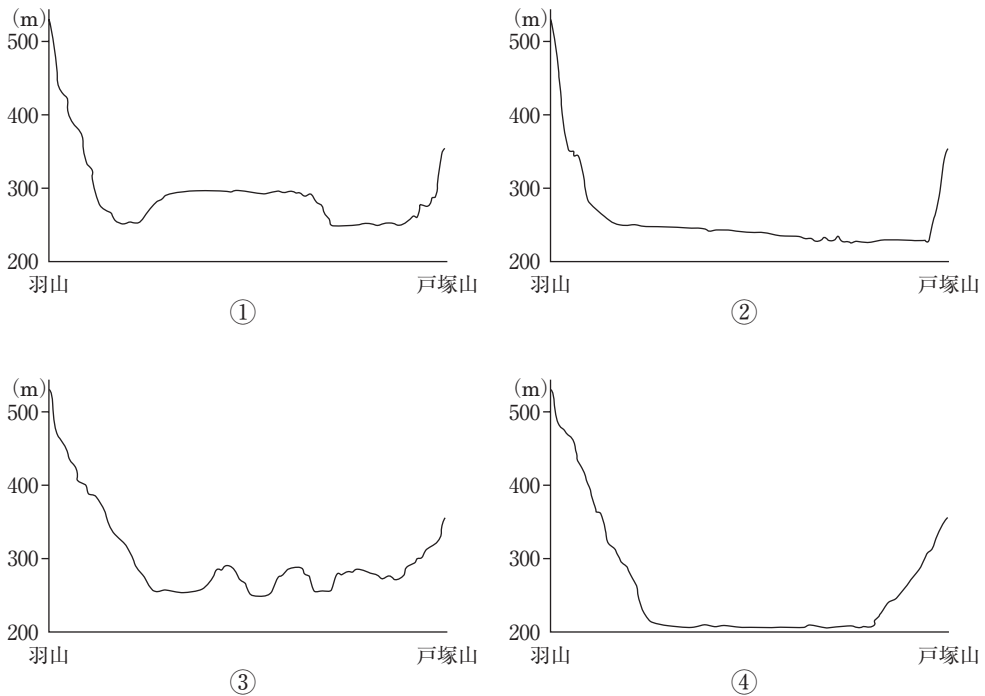
- 21
- ① 約1.2km
  - ② 約2.3km
  - ③ 約4.6km
  - ④ 約6.9km

問9 図2中に見られない地図記号として最も適切なものを、次の①～④のうちから一つ選びマークせよ。 22

- ① 史跡・名勝・天然記念物
- ② 電波塔
- ③ 保健所
- ④ 老人ホーム

問10 図2中の羽山（三角点534.1）－戸塚山（三角点356.6）間における地形断面図として最も適当なものを、次の①～④のうちから一つ選びマークせよ。

23



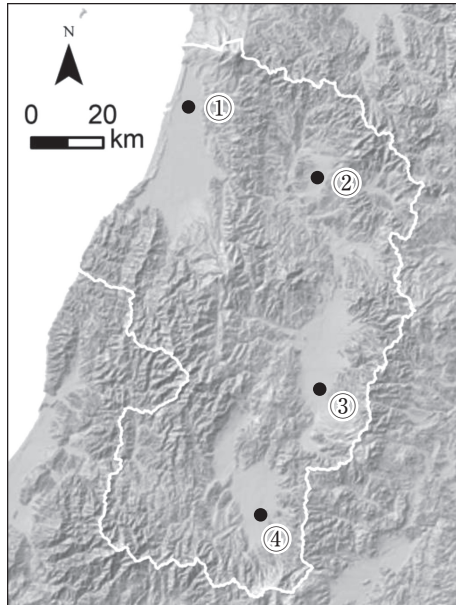
問11 図1・2から読み取れる変化について述べた文として適当でないものを、次の①～④のうちから一つ選びマークせよ。

24

- ① JR線が市街地を囲むように敷設され、3駅が新設された。
- ② 館山から市街地の北側にかけて国道121号が整備された。
- ③ 羽黒川左岸に食肉センター、最上川右岸に浄水管理センターができた。
- ④ 市街地の南側に山形大学、最上川沿いに短期大学ができた。



問12 図1・2の位置として最も適当なものを、次の図中の①～④のうちから一つ  
選びマークせよ。 25



問13 図1・2の中央部は北緯37度55分に位置する。ほぼ同緯度にある都市として  
最も適当なものを、次の①～④のうちから一つ選びマークせよ。 26

- ① シアトル      ② ヘルシンキ      ③ リスボン      ④ ロンドン

Ⅲ 以下の文A～Cを読み、それぞれの問い（問1～14）に答えよ。

A コンピューターやインターネットなど情報通信技術（ICT）の発達によって、私たちの生活様式は大きく変化しつつある。インターネットは、軍事用に開発されたネットワークを起源とし、後に研究用、さらに商用利用に拡大されたもので、1990年代後半から急速に世界に普及した。大陸間には光ファイバーケーブルが敷設され、大容量の情報を高速かつ安定的に送受信することができるようになった。近年ではスマートフォンやタブレットなどのモバイル機器も普及し、いつでもどこでも世界中の様々な情報を入手して、相互にやりとりすることができるようになった。さらに、インターネットを利用して商品の購入やチケットの予約などを行う電子商取引が飛躍的に増加している。こうした情報化の進展とともに多くの国では知識・サービス生産部門の占める比率が拡大している。情報化の進展によって知識や情報の価値が高まり、知識産業と呼ばれる巨大企業が世界を舞台に事業を展開している。

一方、先進国に比べ発展途上国の通信インフラ整備は全般に遅れており、また同じ国の中でも富裕層と貧困層では得られる情報や利用できる ICT に差が生じるといった（ア）が問題となっている。

問1 （ア）に当てはまる最も適当なものを、次の①～④のうちから一つ選びマークせよ。

27

- |                    |             |
|--------------------|-------------|
| ① デジタルデトックス        | ② デジタルデバインド |
| ③ デジタルトランスフォーメーション | ④ デジタル難民    |



問2 下線部 a に関連して、次の表 1 中のあ～うは韓国・中国・日本のいずれかに  
 おけるインターネット利用者率（2021年，％）を示したものである。あ～うに  
 該当する国の組合せとして最も適当なものを，下の①～⑥のうちから一つ選び  
 マークせよ。

28

表 1

国 名	インターネット利用者率
あ	97.6
い	82.9
う	73.1

（『地理データファイル 2024年度版』による）

	①	②	③	④	⑤	⑥
あ	韓 国	韓 国	中 国	中 国	日 本	日 本
い	中 国	日 本	韓 国	日 本	韓 国	中 国
う	日 本	中 国	日 本	韓 国	中 国	韓 国

問3 下線部bに関連して、次の表2は、スマートフォン・タブレットの出荷台数上位企業の所属国・地域と世界シェア（2021年，％）を示したものである。  
X・Yに該当する国の組合せとして最も適当なものを、下の①～⑥のうちから一つ選びマークせよ。

29

表2

スマートフォン	シェア	タブレット	シェア
え社（ X ）	20.0	お社（アメリカ合衆国）	34.3
お社（アメリカ合衆国）	17.3	え社（ X ）	18.2
か社（ Y ）	14.0	き社（ Y ）	10.5

（『データブック オブ・ザ・ワールド 2024年版』による）

- ① X：韓国 Y：台湾
- ② X：韓国 Y：中国
- ③ X：台湾 Y：韓国
- ④ X：台湾 Y：中国
- ⑤ X：中国 Y：韓国
- ⑥ X：中国 Y：台湾

問4 下線部cが社会に与えた影響として最も適当なものを、次の①～④のうちから一つ選びマークせよ。

30

- ① コンビニエンスストアの店舗数を大幅に減少させることになった。
- ② 地元で生産されたものを地元で消費する地産地消を増加させた。
- ③ 地方都市や農村地域の急激な過疎化をもたらした。
- ④ ビッグデータの利用により企業の販売戦略に変化をもたらした。

問5 下線部dに関連して、かつてシリコンアイランドと呼ばれ半導体メーカーが集積してきた日本の地域に、近年では台湾の世界的な半導体メーカーが相次いで工場を建設している。このメーカーが工場を建設している都道府県として最も適当なものを、次の①～④のうちから一つ選びマークせよ。

31

- ① 沖縄県
- ② 熊本県
- ③ 徳島県
- ④ 北海道

B 交通機関の高速化によって人間が移動できる範囲が拡大し、人々の暮らし方や働き方は大きく変化してきた。なかでも航空交通の発達は、地域間の（イ）を急速に縮小させた。かつて東京から船で十数日かかっていた（ウ）は、今では航空機を利用して約9時間で行けるようになっている。船舶は、速度の面では他の交通機関に劣るものの大量輸送に適しているため、現在でも貿易などで重要な役割を果たしている。国際河川<sup>e</sup>がある地域では、内陸部でも船舶による輸送が利用されている。陸上交通としては、産業革命以降に各地で鉄道網が整備され、さらにその後は（エ）によって自動車<sup>f</sup>が主役となっていった。

問6 (イ) に当てはまる最も適切なものを、次の①～④のうちから一つ選びマークせよ。

- ① 感覺距離      ② 經濟距離      ③ 時間距離      ④ 絕對距離

問7 (ウ)に当てはまる最も適切なものを、次の①～④のうちから一つ選びマークせよ。

33

- ① サンフランシスコ                      ② 台 北
- ③ バンコク                                  ④ リオデジャネイロ

問8 (エ)に当てはまる最も適切なものを、次の①～④のうちから一つ選びマークせよ。

34

- ① グローバリゼーション                      ② トランスポートーション  
③ モータリゼーション                      ④ モーダルシフト

問9 下線部eに該当する最も適当なものを、次の①～④のうちから一つ選びマークせよ。

- ① セーヌ川      ② 長 江      ③ ドナウ川      ④ ミシシッピ川

問10 下線部 f に関連して，次の表 3 はアメリカ合衆国・インド・中国・日本の自動車保有台数（2021年，万台）を示したものである。く～さのうち日本に該当するものとして最も適当なものを，下の①～④のうちから一つ選びマークせよ。

36

表 3

国 名	自動車保有台数	うち商用車
く	29,419	5,180
け	29,288	17,792
こ	7,845	1,629
さ	7,445	3,364

（『データブック オブ・ザ・ワールド 2024年版』による）

- ① く                      ② け                      ③ こ                      ④ さ

C 世界的な経済発展がもたらす生活水準の向上や余暇時間の増加によって、観光目的によるグローバルな移動が増加している。世界各国の観光国際収支を見ると、観光収入はアメリカ合衆国やヨーロッパ諸国で多く、観光支出も経済規模の大きい<sup>g</sup>アメリカ合衆国や労働時間の短いヨーロッパの国々で多くなっている。また、急速に経済発展した中国の観光支出も近年多くなっている。

日本でも所得の上昇とともに海外旅行が普及し、1980年代以降は円高も影響して大きく増加した。一方、<sup>h</sup>日本を訪れる外国人観光客は、ビザ発給の緩和や円安などの影響もあり<sup>i</sup>2012年頃から大幅に増加し、2010年代の終わり頃には3,000万人を超えるまでになっている。

問11 下線部 g に関連して、観光資源とその所在国の組合せとして最も適切なものを、次の①～④のうちから一つ選びマークせよ。 37

- ① ウェストミンスター宮殿：オランダ
- ② コロッセオ：ギリシャ
- ③ サグラダファミリア：イタリア
- ④ ヨセミテ国立公園：アメリカ合衆国

問12 下線部 h に関連して、国外への出国日本人数（2019年）として最も適切なものを、次の①～④のうちから一つ選びマークせよ。 38

- ① 約500万人
- ② 約1,000万人
- ③ 約2,000万人
- ④ 約3,000万人

問13 下線部 i に関連して、日本を訪れる外国人の旅行者数（2019年）が最多となった国・地域として最も適切なものを、次の①～④のうちから一つ選びマークせよ。 39

- ① アメリカ合衆国
- ② 韓国
- ③ 台湾
- ④ 中国

問14 観光・保養に関して述べた文として最も適当なものを，次の①～④のうちから一つ選びマークせよ。

40

- ① 経済的負担の少ない旅を楽しむエコツーリズムが注目されている。
- ② 農村の住民が都市環境について学ぶグリーンツーリズムが普及しつつある。
- ③ 発展途上国では観光客の急増によるオーバーツーリズムが期待されている。
- ④ 避暑地や避寒地に長期間滞在するバカンスが古くからさかんな国がある。

# 日 本 史

( 解答番号  ~  )

I 次の A・B の史料を読み、下の問い（問 1～10）に答えよ。

A そのさいふ<sup>(割符)</sup>、いまたかへ<sup>(替)</sup>のほさせ給候はす候ハ、この月のひんこ<sup>(備後)</sup>のふかつ<sup>(深津)</sup>のいち<sup>(市)</sup>へ<sup>(a)</sup>、人を給候て、ようとう<sup>(用途)</sup>の□はん<sup>(帳)</sup>ほと、うけとらせ給候て、つ□せ給候へ<sup>(c)</sup>く候、  
(d)『厳島神社蔵反故裏経紙背文書』

B 一、銭をえらふ事<sup>(撰)</sup>

段銭<sup>(往古)</sup>の事ハ、わうこの例たる上ハ、えらふへき事、もちろんたりといへとも、  
(e)地下の仁ゆうめんの儀として、百文に永楽・宣徳の間<sup>(二十)</sup>廿文あてくハへて収納すべきなり。  
(f)

一、り銭<sup>(利)</sup>ならびにはいはい銭<sup>(売買)</sup>の事

上下大小をいはす、ゑいらく・せん<sup>(永楽)</sup>とく<sup>(宣徳)</sup>においてハ、えらふへからす。さかひ<sup>(g)</sup>銭<sup>(洪武)</sup>とこうふ銭<sup>(省免)</sup>（略）、うちひらめ<sup>(打平)</sup>、この三いろ<sup>(色)</sup>をはえらふへし。但しかくの如く相定めらるゝとて、永楽・せん<sup>(三十)</sup>とくはかり用へからす。百文の内ニ、ゑいらく・宣徳を卅文くハへてつかふへし、  
(h)『大内氏掟書』

問 1 下線部(a)の説明として最も適当なものはどれか。次の①～④のうち一つをマークせよ。

- ① 遠隔地商人の間で用いられた為替手形的一种
- ② 契約の遵守を神仏に誓う文書
- ③ 土地の所有にかかわる証文
- ④ 時宗において極楽へ往生することの証として配られた札

問2 下線部(b)に該当する地域を含む現在の県名として最も適当なものはどれか。

次の①～④のうち一つをマークせよ。 2

- ① 山口県                      ② 広島県                      ③ 新潟県                      ④ 香川県

問3 下線部(c)に関連して、室町時代の市の説明として誤りを含んでいるものはどれか。次の①～④のうち一つをマークせよ。 3

- ① 地方でも市日の回数が増えてゆき、六斎市が一般化した。  
② 年貢の銭納に必要な貨幣の獲得のため、地方の市場で作物が売却された。  
③ 大都市では、特定の商品だけをあつかう専門の市場が生まれた。  
④ 大都市では土倉が成立し、市における販売権を独占した。

問4 下線部(d)を一門の氏神とした氏族として最も適当なものはどれか。次の①～④のうち一つをマークせよ。 4

- ① 藤原氏                      ② 源氏                      ③ 紀氏                      ④ 平氏

問5 下線部(e)についての文として最も適当なものはどれか。次の①～④のうち一つをマークせよ。 5

- ① 家屋の棟数によって課せられた。  
② 本来は室町幕府によって課税されていたが、やがて朝廷が徴収を代行するようになった。  
③ 毎年課される恒常的な税であった。  
④ 天皇の即位や内裏の造営など国家的行事の際に課される臨時の税であった。

問6 下線部(f)はどれにあてはまるか。次の①～④のうち最も適当なものを一つマークせよ。 6

- ① 宋銭                      ② 明銭                      ③ 本朝十二銭                      ④ 私鑄銭



問7 下線部(g)に関連して、戦国時代の堺についての文として適当でないものはどれか。次の①～④のうち一つをマークせよ。 7

- ① 海外の宣教師にも存在が知られていた。
- ② 会合衆の合議により運営された。
- ③ 浄土真宗の寺院を中心とした寺内町であった。
- ④ 堺の商人であった武野紹鷗は茶人として活躍した。

問8 同じく下線部(g)に関連して、堺では早くから鉄砲が造られたが、1543年に最初に日本に鉄砲が伝来した場所はどこか。次の①～④のうち最も適当なものを一つマークせよ。 8

- ① 堺                      ② 種子島                      ③ 長崎                      ④ 国友

問9 下線部(h)が1523年に貿易をめぐる争った相手として最も適当なものはどれか。次の①～④のうち一つをマークせよ。 9

- ① 山名氏                      ② 細川氏                      ③ 畠山氏                      ④ 宗氏

問10 史料Bからわかる内容として最も適当なものはどれか。次の①～④のうち一つをマークせよ。 10

- ① 撰銭を行うことは無条件に禁じられた。
- ② 価値の低下した銭であっても、良質の銭との混入率を定めて流通させるよう定められた。
- ③ 永楽通宝・宣徳通宝は最も価値の高い銭とみなされていた。
- ④ 「さかひ銭」「こうふ銭」「うちひらめ」の3種類は、特に選別して積極的に使用するものとされた。

Ⅱ 次の文を読み、下の問い（問1～10）に答えよ。

11代将軍  の半世紀におよぶ長い治世のもと、文化年間・文政年間を中心に、天保の改革の頃までの時期の文化を化政文化と呼ぶ。<sup>(a)</sup>

化政文化では、江戸をはじめとする三都の繁栄を背景として、民衆を基盤とする町人文化が最盛期を迎えた。化政文化は、都市の繁栄、商人や身分をこえた文人ら<sup>(b)</sup>の全国的な交流、出版・教育の普及、交通網の発達などによって、様々な情報と<sup>(c)</sup>ともに全国各地に伝えられた。<sup>(d)</sup><sup>(e)</sup>

文学では、滑稽さや笑いとともに、庶民の生活をいきいきと描いた絵入りの滑稽本が盛んになり、式亭三馬や十返舎一九が現れた。また、恋愛ものを扱った人情本も庶民に受け入れられたが、代表的作家である  は、天保の改革で処罰された。これらに対し、文章を主とする小説で歴史や伝説を題材にした読本では、江戸の  による『南総里見八犬伝』が評判を得た。

俳諧は民間にも広くいきわたり、各地で俳人を生んだ。その中で、信濃の百姓であった  は、村々に生きる民衆の生活をよんだ多数の作品を残した。和歌では越後の禅僧であった  が、暮らしに素材を求める独自の作品をつくった。

問1 空欄  に入れる人名として最も適当なものはどれか。次の①～④のうち一つをマークせよ。

- ① 徳川家治      ② 徳川家斉      ③ 徳川家定      ④ 徳川家慶

問2 空欄  に入れる人名として最も適当なものはどれか。次の①～④のうち一つをマークせよ。

- ① 山東京伝      ② 上田秋成      ③ 恋川春町      ④ 為永春水

問3 空欄  に入れる人名として最も適当なものはどれか。次の①～④のうち一つをマークせよ。

- ① 西山宗因      ② 鶴屋南北      ③ 曲亭馬琴      ④ 塙保己一

問4 空欄 4 に入れる人名として最も適当なものはどれか。次の①～④のうち一つをマークせよ。 14

- ① 大田南畝      ② 与謝蕪村      ③ 鈴木牧之      ④ 小林一茶

問5 空欄 5 に入れる僧名として最も適当なものはどれか。次の①～④のうち一つをマークせよ。 15

- ① 隠元隆琦      ② 沢庵      ③ 契沖      ④ 良寛

問6 下線部(a)に起きたできごととして最も適当なものはどれか。次の①～④のうち一つをマークせよ。 16

- ① モリソン号事件      ② フェートン号事件  
③ シーボルト事件      ④ ラクスマンの根室来航

問7 下線部(b)でおこなわれた政策として最も適当なものはどれか。次の①～④のうち一つをマークせよ。 17

- ① 上げ米の実施      ② 株仲間の解散  
③ 旧里帰農令の発令      ④ 公事方御定書の制定

問8 下線部(c)に関連して、浮世草子である『日本永代蔵』の著者として最も適当なものはどれか。次の①～④のうち一つをマークせよ。 18

- ① 近松門左衛門      ② 富永仲基  
③ 井原西鶴      ④ 太宰春台

問9 下線部(d)に関連して、17世紀後半に京都で古義堂を開いて儒学を教えた人物として最も適当なものはどれか。次の①～④のうち一つをマークせよ。

19

- ① 伊藤仁斎      ② 大槻玄沢      ③ 本居宣長      ④ 荻生徂徠

問10 下線部(e)に関連して、中山道の関所として最も適当なものはどれか。次の

①～④のうち一つをマークせよ。

20

① 碓 氷

② 小 仏

③ 新 居

④ 箱 根

Ⅲ 次の文を読み、下の問い（問 1～10）に答えよ。

明治政府は発足とともに朝鮮に国交樹立を求めた。しかし清を宗主国とし、当時鎖国政策をとっていた朝鮮は、日本の交渉態度を不満として正式の交渉には応じなかった。右大臣  を大使とする使節団が欧米に赴いている間、留守政府首脳の中に征韓論をとるものがあったが、帰国した大久保利通らの強い反対にあって挫折した。そのうち1875年の  を機に日本は朝鮮にせまり、1876年に日朝修好条規を結んで朝鮮を開国させた。

征韓論が否決されると、留守政府首脳の中の征韓派参議<sup>(a)</sup>はいっせいに辞職した。かれらは1874年から、不平士族の支持を背景に政府批判を始めた。

征韓派の中でも板垣退助や  らは、イギリス帰りの知識人の力を借りて作成した  を左院に提出し、政府官僚の専断の弊害を批判して天下の公論にもとづく政治をおこなうための議会の設立を求めた。これが自由民権運動の口火となった。

一方、保守的な士族の中には、新政府樹立に功を上げながらも、急激な改革の中で旧来の特権を失っていくことに対する不満を持つ者もあらわれた。そのため、 による  などの反乱も起きた。しかし1877年の西郷隆盛を首領とした西南戦争を最後に、不平士族による反乱はおさまった。

板垣退助は1874年、郷里の土佐に帰って同志を集めて  をおこし、翌年これを中心に民権派の全国組織を目指して  を大阪に設立した。

この民権派の運動に対して政府側も、時間をかけて立憲制に移行すべきことを決め、1875年1月に大阪会議を開いて対策を協議し、4月に漸次立憲政体樹立の詔を<sup>(b)</sup>出した。その一方で政府は1875年6月、 や  <sup>(c)</sup>を制定して、民権派の運動をきびしく取り締まった。

問 1 空欄  に入れる人名として最も適当なものはどれか。次の①～④のうち一つをマークせよ。

- ① 岩倉具視      ② 三条実美      ③ 近衛文麿      ④ 西園寺公望



問7 空欄   に入れる語句の組み合わせとして最も適当なものはどれか。次の①～④のうち一つをマークせよ。

- ① オ＝保安条例      カ＝讒謗律
- ② オ＝集会条例      カ＝保安条例
- ③ オ＝讒謗律      カ＝新聞紙条例
- ④ オ＝新聞紙条例      カ＝集会条例

問8 下線部(a)として最も適当なものはどれか。次の①～④のうち一つをマークせよ。

- ① 福地源一郎      ② 副島種臣      ③ 植木枝盛      ④ 片岡健吉

問9 下線部(b)に参加した人物として最も適当なものはどれか。次の①～④のうち一つをマークせよ。

- ① 木戸孝允      ② 福沢諭吉      ③ 前島密      ④ 黒田清隆

問10 下線部(c)によって設立された組織として適当でないものはどれか。次の①～④のうち一つをマークせよ。

- ① 元老院      ② 大審院      ③ 地方官会議      ④ 枢密院

Ⅳ 次の年表を見て、下の問い（問 1～10）に答えよ。

1945年	8月	ポツダム宣言受諾,	ア	内閣成立		
	10月	GHQ がいわゆる人権指令を発令				
		(a)				
		ア	内閣総辞職,	イ	内閣成立	
		マッカーサーが	イ	首相に	五大改革	を指示
		(b)				
1946年	4月	戦後初の総選挙が実施されて	1	が第一党となる		
	5月	第1次吉田茂内閣成立				
	11月	日本国憲法公布				
1947年	4月	総選挙が実施されて	2	が第一党となる		
	5月	ウ	内閣成立			
		この年に刑法と民法が改正される				
		(c)				
(d)	1948年	2月	ウ	内閣総辞職		
		3月	エ	内閣成立		
		10月	エ	内閣総辞職, 第2次吉田茂内閣成立		
		(e)				

問 1 空欄 1 に入れる政党名として最も適当なものはどれか。次の①～④のうち一つをマークせよ。 31

- ① 日本自由党      ② 日本進歩党      ③ 日本民主党      ④ 自由民主党

問 2 空欄 2 に入れる政党名として最も適当なものはどれか。次の①～④のうち一つをマークせよ。 32

- ① 日本協同党      ② 国民協同党      ③ 日本社会党      ④ 日本共産党



問3 空欄 

ア
---

イ
---

ウ
---

エ
---

 に入れる人名の組み合わせとして最も適当なものはどれか。次の①～④のうち一つをマークせよ。

33

- |            |          |       |       |
|------------|----------|-------|-------|
| ① ア＝東久邇宮稔彦 | イ＝幣原喜重郎  | ウ＝片山哲 | エ＝芦田均 |
| ② ア＝東久邇宮稔彦 | イ＝幣原喜重郎  | ウ＝芦田均 | エ＝片山哲 |
| ③ ア＝幣原喜重郎  | イ＝東久邇宮稔彦 | ウ＝片山哲 | エ＝芦田均 |
| ④ ア＝幣原喜重郎  | イ＝東久邇宮稔彦 | ウ＝芦田均 | エ＝片山哲 |

問4 下線部(a)の内容として適当でないものはどれか。次の①～④のうち一つをマークせよ。 

34
----

- |             |            |
|-------------|------------|
| ① 政治犯の釈放    | ② 治安維持法の廃止 |
| ③ 特別高等警察の廃止 | ④ 国家神道の解体  |

問5 下線部(b)を受けて実施された政策についての文として誤りを含んでいるものはどれか。次の①～④のうち一つをマークせよ。 

35
----

- ① 満20歳以上の成人男女に選挙権を与えた。
- ② 各産業部門の巨大企業300社以上を分割した。
- ③ 不在地主の全貸付地，および在村地主の貸付地のうち一定面積をこえる分を国が強制的に買い上げて小作人に売り渡した。
- ④ 労働者の団結権・団体交渉権・争議権を保障した。

問6 下線部(c)の内容として適当でないものはどれか。次の①～④のうち一つをマークせよ。 

36
----

- ① 戸主制度が廃止された。
- ② 財産の均分相続が定められた。
- ③ 性別を問わず姦通罪の成立が認められた。
- ④ 大逆罪が廃止された。

問7 下線部(d)より前に起きたできごととして最も適当なものはどれか。次の①～

④のうち一つをマークせよ。 37

- ① 傾斜生産方式の閣議決定
- ② 1ドルを360円とする単一為替レートの設定
- ③ シャウプの勧告にもとづく税制改革
- ④ レッド＝パージの実施

問8 下線部(e)のきっかけとなったできごととして最も適当なものはどれか。次の

①～④のうち一つをマークせよ。 38

- ① 昭和電工事件
- ② 松川事件
- ③ 造船疑獄事件
- ④ 血のメーデー事件

問9 年表に記された時期に発表された文学作品と著者の組み合わせとして最も適当なものはどれか。次の①～④のうち一つをマークせよ。 39

- ① 『斜陽』——太宰治
- ② 『麦と兵隊』——火野葦平
- ③ 『点と線』——松本清張
- ④ 『大菩薩峠』——中里介山

問10 年表に記された時期の日本社会の様子を説明した文として最も適当なものはどれか。次の①～④のうち一つをマークせよ。 40

- ① 新聞や放送に対する検閲が完全に撤廃された。
- ② トーキーと呼ばれた有声映画の制作や上映が始まった。
- ③ 「リンゴの唄」が流行した。
- ④ テレビの本放送が始まった。

(解答番号 1 ~ 40)

A 17世紀のヨーロッパでは、自然界の研究が急速に進んだ。ニュートンは<sup>1</sup>  
a を著し、b は気体の体積と圧力の関係を明らかにした。自然科学の知識は商工業の育成や軍隊の整備にも応用されるようになり、専門的な科学者が活動する<sup>3</sup>  
c <sup>4</sup>などが各国で創設された。こうした一連の変化を科学革命と呼ぶ。

1

- ① 『单子論』                      ② 『新オルガヌム』  
③ 『プリンキピア』                ④ 『ミクログラフィア』

2

- ① ハーヴェー      ② ファラデー      ③ ボイル      ④ ラプラス

3

- ① アカデミー      ② カタコンベ      ③ マドラサ      ④ ムセイオン

問4 下線部1に関連して、17世紀の出来事ではないものはどれか、次の①～④から一つ選んで、マークせよ。 4

- ① ウェストファリア条約が結ばれた。
- ② オランダがニューアムステルダムを中心とする植民地を建設した。
- ③ サン＝バルテルミの虐殺がおこった。
- ④ レンブラントが「夜警」を制作した。

問5 下線部2に関連して、ヨーロッパにおける自然界の研究について述べた以下の文（ア）、（イ）の正誤の組み合わせとして正しいものはどれか、次の①～④から一つ選んで、マークせよ。 5

- （ア） ケプラーは、惑星の運行法則を発見した。
- （イ） ロジャー＝ベーコンは、観察・実験による経験を重視した。

- |               |               |
|---------------|---------------|
| ① （ア）－正 （イ）－正 | ② （ア）－正 （イ）－誤 |
| ③ （ア）－誤 （イ）－正 | ④ （ア）－誤 （イ）－誤 |

問6 下線部3に関連して、西ヨーロッパの中世都市の多くは商工業によって成長した経済共同体であった。中世の北イタリアでは、大商人や貴族が主導して、領主である司教権力を倒して自治都市がつくられたが、この自治都市はなんと呼ばれたか、最も適するものを次の①～④から一つ選んで、マークせよ。

6

- |       |        |        |       |
|-------|--------|--------|-------|
| ① ウルス | ② ゲットー | ③ コムーネ | ④ ミール |
|-------|--------|--------|-------|

問7 下線部4に関連して、歴史上のさまざまな軍隊に関わる説明として正しいものはどれか、最も適するものを次の①～④から一つ選んで、マークせよ。

7

- ① 第一次世界大戦でイギリスとフランスは植民地の現地人を兵士として動員することはなかった。
- ② 三十年戦争で傭兵隊長ヴァレンシュタインが皇帝軍を率いた。
- ③ 第3回十字軍がコンスタンティノープルを奪ってラテン帝国をたてた。
- ④ プロイセン公国はマルタ騎士団領をもとに成立した。

B 科学革命の結果、ヨーロッパ人の自然観には根本的な変革がもたらされた。これを思想面で保証したのが、『方法序説』を著した d であった。

5 d の哲学により、近世以降のヨーロッパ思想の柱の1つとなる考え方が確立された。この考え方に対置される姿勢を確立したのが、『統治二論（市民政府二論）』を著して e を正当化したロックである。『永遠平和のために』<sup>6</sup>などを著した f は両者の立場を統合しようと試み、観念論哲学への道を開いた。

問8 d に最も適する語を次の①～④から一つ選んで、マークせよ。

8

- ① スピノザ
- ② デカルト
- ③ パスカル
- ④ フランシス＝ベーコン

問9 e に最も適する語を次の①～④から一つ選んで、マークせよ。

9

- ① 女性参政権
- ② 王政復古
- ③ ピューリタン革命
- ④ 名誉革命

問10 f に最も適する語を次の①～④から一つ選んで、マークせよ。

10

- |       |          |
|-------|----------|
| ① カント | ② グロティウス |
| ③ コント | ④ ボダン    |

問11 下線部 5 について説明した以下の文 (ア), (イ) の正誤の組み合わせとして正しいものはどれか, 次の①～④から一つ選んで、マークせよ。 11

(ア) 全能の神から生まれつき与えられた人間の理性が明晰に正しいと認めるものであれば、すべて真実とみなしてよいと考えた。

(イ) 人間の思考では、生後に獲得される知識と経験が決定的な役割を果たし、思考の正確さも絶対的なものではなく確実性の違いにすぎないと考えた。

- |               |               |
|---------------|---------------|
| ① (ア)－正 (イ)－正 | ② (ア)－正 (イ)－誤 |
| ③ (ア)－誤 (イ)－正 | ④ (ア)－誤 (イ)－誤 |

問12 下線部 6 に関連して、第一次世界大戦の交戦国に対する「平和に関する布告」が出されたのはいつか、最も適するものを次の①～④から一つ選んで、マークせよ。 12

- |         |         |         |         |
|---------|---------|---------|---------|
| ① 1915年 | ② 1916年 | ③ 1917年 | ④ 1918年 |
|---------|---------|---------|---------|

C <sup>7</sup>18世紀には、啓蒙思想<sup>8</sup>がとくにフランスでさかんになった。その集大成が、  
ディドロらが編纂した g <sup>9</sup>であった。また、この頃に東欧・北欧<sup>10</sup>で勢力を  
広げた諸国では、啓蒙思想の影響を受けた君主がさまざまな改革をおこなった。  
『哲学書簡』を著した h は、こうした君主のうち、プロイセンの君主  
i やロシアの君主 j などと一時親交を結んだ。

問13 g に最も適する語を次の①～④から一つ選んで、マークせよ。

13

- |            |            |
|------------|------------|
| ① 『古今図書集成』 | ② 『四庫全書』   |
| ③ 『百科全書』   | ④ 『ローマ法大全』 |

問14 h に最も適する語を次の①～④から一つ選んで、マークせよ。

14

- |          |        |
|----------|--------|
| ① ヴォルテール | ② ケネー  |
| ③ ダランベール | ④ テュルゴ |

問15 i に最も適する語を次の①～④から一つ選んで、マークせよ。

15

- |              |                     |
|--------------|---------------------|
| ① ヴィルヘルム 1 世 | ② ヴィルヘルム 2 世        |
| ③ フリードリヒ 2 世 | ④ フリードリヒ＝ヴィルヘルム 1 世 |

問16 j に最も適する語を次の①～④から一つ選んで、マークせよ。

16

- |               |             |
|---------------|-------------|
| ① アレクサンドル 1 世 | ② イヴァン 4 世  |
| ③ エカチェリーナ 2 世 | ④ ピョートル 1 世 |

問17 下線部 7 に関連して、18世紀におこった出来事はどれか、最も適するものを次の①～④から一つ選んで、マークせよ。 17

- ① アメリカ独立宣言が発表された。
- ② カルロヴィッツ条約が結ばれた。
- ③ ステンカ＝ラージンが反乱をおこした。
- ④ ライン同盟が結成された。

問18 下線部8に関連して、啓蒙思想やその思想家について説明した以下の文  
(ア)、(イ)の正誤の組み合わせとして正しいものはどれか、次の①～④から  
一つ選んで、マークせよ。 18

(ア) ルソーは、直接民主政を説く一方、女性を家庭的で男性に従属すべき者  
として描いた。

(イ) ヨーロッパで出版業が発達したことを背景に、文字・図像を通じて啓蒙  
思想が広められた。

- |               |               |
|---------------|---------------|
| ① (ア)－正 (イ)－正 | ② (ア)－正 (イ)－誤 |
| ③ (ア)－誤 (イ)－正 | ④ (ア)－誤 (イ)－誤 |

問19 下線部9に関連して、フランスのナポレオン3世が現地の内戦に乗じて出兵  
して当時のオーストリア皇帝の弟を皇帝にすえた国はどこか、最も適するもの  
を次の①～④から一つ選んで、マークせよ。 19

- |          |        |
|----------|--------|
| ① アルゼンチン | ② ハイチ  |
| ③ ベネズエラ  | ④ メキシコ |

問20 下線部10に関連して、東西冷戦下の1975年にアルバニアを除く全ヨーロッパ  
諸国とアメリカ合衆国、カナダの首脳が参加した全欧安全保障協力会議  
(CSCE)が開催された場所はどこか、最も適するものを次の①～④から一つ  
選んで、マークせよ。 20

- |           |         |
|-----------|---------|
| ① ストックホルム | ② プラハ   |
| ③ ヘルシンキ   | ④ ワルシャワ |



Ⅱ 次の文A、Bを読んで、下の問い（問1～20）に答えよ。

A 1976年<sup>1</sup>、中国の初代国家主席であり、プロレタリア文化大革命を発動した a（1893～1976）が死去した。aの後継者となった b（1921～2008）は、プロレタリア文化大革命の終了を宣告し、「c」を再び提起した。

この後 b が失脚すると、代わって実権を握った d（1904～97）を中心とする指導部は、「c」を推進し、経済改革を実施した。この改革により、かつて大躍進運動<sup>2</sup>のもとで組織された e は解体され、ほぼ消滅した。また、対外開放政策も実施した。一連の改革によって経済成長<sup>3</sup>が続く一方で、共産党の一党独裁<sup>4</sup>に対する不満が高まった。この結果、<sup>5</sup>多くの学生や市民が天安門広場に集結して民主化を求めたが、武力によって弾圧された。

問1 a に最も適する語を次の①～⑧から一つ選んで、マークせよ。

21

- |       |       |       |
|-------|-------|-------|
| ① 江 青 | ② 劉少奇 | ③ 毛沢東 |
| ④ 周恩来 | ⑤ 華国鋒 | ⑥ 趙紫陽 |
| ⑦ 林 彪 | ⑧ 鄧小平 |       |

問2 b に最も適する語を次の①～⑧から一つ選んで、マークせよ。

22

- |       |       |       |
|-------|-------|-------|
| ① 江 青 | ② 劉少奇 | ③ 毛沢東 |
| ④ 周恩来 | ⑤ 華国鋒 | ⑥ 趙紫陽 |
| ⑦ 林 彪 | ⑧ 鄧小平 |       |

問3 c に最も適する語を次の①～④から一つ選んで、マークせよ。

23

- |          |         |
|----------|---------|
| ① 三つの代表  | ② 文化政治  |
| ③ 四つの現代化 | ④ 偉大な社会 |

問4 d に最も適する語を次の①～⑧から一つ選んで、マークせよ。

24

- |       |       |       |
|-------|-------|-------|
| ① 江 青 | ② 劉少奇 | ③ 毛沢東 |
| ④ 周恩来 | ⑤ 華国鋒 | ⑥ 趙紫陽 |
| ⑦ 林 彪 | ⑧ 鄧小平 |       |

問5 e に最も適する語を次の①～④から一つ選んで、マークせよ。

25

- |        |         |       |        |
|--------|---------|-------|--------|
| ① 人民公社 | ② 軍産複合体 | ③ 義勇軍 | ④ 郷鎮企業 |
|--------|---------|-------|--------|

問6 下線部1について、この年におこった出来事はどれか、最も適するものを次の①～④から一つ選んで、マークせよ。 26

- ① 金日成が死去し、金正日が後継者となった。
- ② ベトナム社会主義共和国が成立した。
- ③ フルシチョフがスターリン批判をおこなった。
- ④ 中華人民共和国の国連代表権が承認された。

問7 下線部2について述べた文として正しいものはどれか、最も適するものを次の①～④から一つ選んで、マークせよ。 27

- ① この運動は、権力を掌握した「四人組」が主導した。
- ② この運動の結果、農業生産が急減するなどして多くの餓死者を出した。
- ③ この運動は、第1次五カ年計画のプロジェクトの一つとして始まった。
- ④ この運動が始まると、全国で若い世代を中心とする紅衛兵が組織された。

問8 下線部3に関連して、韓国で「漢江の奇跡」と呼ばれる高い経済成長を実現した朴正熙について述べた文として誤っているものはどれか、次の①～④から一つ選んで、マークせよ。 28

- ① クーデタにより権力を掌握し大統領となった。
- ② 大統領在任中に、日韓基本条約に調印した。
- ③ 光州で発生した民主化運動を激しく弾圧した。
- ④ その娘も大統領となった。

問9 下線部4に関連して、台湾ではかつて国民党の一党独裁がおこなわれていた。台湾の政治について述べた文として正しいものはどれか、最も適するものを次の①～④から一つ選んで、マークせよ。 29

- ① 陳水扁は、直接選挙によるはじめての総統となった。
- ② 蔣介石は、総統在任中に戒嚴令を解除した。
- ③ 蔡英文は、女性としてはじめての総統となった。
- ④ 李登輝は、国民党以外ではじめての総統となった。

問10 下線部5に関連して、この事件の発生と最も近い時期の出来事はどれか、最も適するものを次の①～④から一つ選んで、マークせよ。 30

- ① サダム＝フセイン政権下のイラクがクウェートに侵攻し、同国を占領した。
- ② 南アフリカ共和国では、マンデラが大統領に当選した。
- ③ エチオピアで軍部のクーデタがおき、皇帝ハイレ＝セラシエが退位した。
- ④ アメリカの攻撃により、アフガニスタンのターリバーン政権が倒れた。

B f の通貨暴落をきっかけとしてアジア通貨危機がおこったのと同じ年、中国の経済改革を推進した d <sup>6</sup> が死去した。その路線は後継者である g に受け継がれた。 g のもとで経済は急速に成長し、2001年、中国は h に加盟した。 g の後継者となった i のもとでも経済は成長を続け、 j で万博が開催された2010年、中国の GDP は世界第 k 位となった。だが、この間には貧富の差や環境汚染などの問題が顕在化した。 i の後継者となった l <sup>7</sup> は、対外的に強硬な政策をうちだした。また、国内では、一国二制度を適用していた地域に対して、<sup>8</sup> 自治 <sup>9</sup> と民主的権利を抑制する法律を施行した。<sup>10</sup>

問11 f に最も適する語を次の①～④から一つ選んで、マークせよ。

31

- |          |          |
|----------|----------|
| ① マレーシア  | ② インドネシア |
| ③ シンガポール | ④ タ イ    |

問12 g , i , l の組み合わせとして最も適するものを次の①～⑥から一つ選んで、マークせよ。 32

- |           |         |         |
|-----------|---------|---------|
| ① g - 胡錦濤 | i - 江沢民 | l - 習近平 |
| ② g - 胡錦濤 | i - 習近平 | l - 江沢民 |
| ③ g - 江沢民 | i - 胡錦濤 | l - 習近平 |
| ④ g - 江沢民 | i - 習近平 | l - 胡錦濤 |
| ⑤ g - 習近平 | i - 胡錦濤 | l - 江沢民 |
| ⑥ g - 習近平 | i - 江沢民 | l - 胡錦濤 |

問13 h に最も適する語を次の①～④から一つ選んで、マークせよ。

33

- |        |         |       |       |
|--------|---------|-------|-------|
| ① GATT | ② ASEAN | ③ WTO | ④ WHO |
|--------|---------|-------|-------|



問19 下線部9に関連して、パレスチナ暫定自治協定が締結された際のパレスチナ解放機構の議長はだれか、最も適するものを次の①～④から一つ選んで、マークせよ。 39

- |            |         |
|------------|---------|
| ① サーリーフ    | ② ラビン   |
| ③ ビン=ラーディン | ④ アラファト |

問20 下線部10に関連して、「アラブの春」とよばれる民主化運動は、ある国でおこった反政府デモがきっかけとなって周辺諸国に広がった。その国はどこか、最も適するものを次の①～④から一つ選んで、マークせよ。 40

- |       |          |
|-------|----------|
| ① シリア | ② チュニジア  |
| ③ イラン | ④ アルジェリア |

# 政治・経済

( 解答番号  ~  )

## I 次の文章を読み、下の問いに答えよ。

日本国憲法は、人身の自由について、奴隷的拘束・苦役からの自由を保障するほか、刑事手続上の諸権利について詳細な規定を設けている。その筆頭が、第31条<sup>Ⓐ</sup>である。

犯罪の発生を受けて警察などの捜査機関が犯罪の捜査を始めると、犯罪を行ったと疑われる者（被疑者）は捜査の対象となるが、先ず、捜査機関の活動<sup>Ⓑ</sup>を裁判官がチェックするかたちで被疑者の人権保障が図られている。

被疑者であっても、裁判<sup>Ⓒ</sup>を経ずに処罰されることはなく、裁判を受ける権利が保障されている。また、被疑者・被告人には黙秘権その他の権利<sup>Ⓓ</sup>が与えられている。

被告人は、有罪判決が確定するまで無罪と推定され<sup>Ⓔ</sup>、裁判所は、「疑わしきは被告人の利益に」<sup>Ⓕ</sup>の原則に従って判断する。

裁判所の判決に不服があれば、上級の裁判所に上訴<sup>Ⓖ</sup>を行うことができる。それにもかかわらず有罪判決が確定すると原則、被告人には刑罰<sup>Ⓗ</sup>が執行されることとなるが、再審<sup>Ⓖ</sup>が認められることもある。

問1 下線部Ⓐの第31条に関連して、以下の(1)～(3)に答えよ。

(1) 第31条の規定内容として最も適当なものを、次の①～④のうちから一つ選びマークせよ。

- |          |            |
|----------|------------|
| ① 裁判官の独立 | ② 法定手続きの保障 |
| ③ 司法権の独立 | ④ 法治主義     |

(2) 罪刑法定主義に関する記述として最も適当なものを、次の①～④のうちから一つ選びマークせよ。

- ① どのような刑罰が科されるかだけを法律で明確に定める。
- ② 一切の法律・命令・規則・処分などは憲法に違反してはならない。
- ③ どのような行為が犯罪となるか、その犯罪に対してどのような刑罰が科されるかを法律で明確に定める。
- ④ 裁判官は憲法と法律以外の何ものにも拘束されず裁判を行う。

(3) 遡及処罰の禁止と一事不再理・二重処罰の禁止について定める第39条に関する記述として適当でないものを、次の①～④のうちから一つ選びマークせよ。

- ① 実行のときに適法であった行為であっても、後に法律で定めさえすればこれを処罰することができる。
- ② 同一の事件について重ねて処罰することは許されない。
- ③ 一度判決が確定した事件について、再び刑事上の責任を問題とすることは許されない。
- ④ この規定により、国家は恣意的に国民を罰することができなくなる。

問2 下線部⑥の捜査機関の活動に関連して、その制約に関する記述として最も適当なものを、次の①～④のうちから一つ選びマークせよ。

- ① 被疑者やその所持品などについての搜索・押収には原則、裁判官の令状が必要である。
- ② 現行犯を逮捕する場合でも、事後に裁判官の令状が必要である。
- ③ 電話などの電気通信の傍受を行うことは許されない。
- ④ 勾留中の被疑者を拘置所ではなく、警察の留置場に留置することは許されない。



問3 下線部㉔の裁判に関する記述として最も適当なものを、次の①～④のうちから一つ選びマークせよ。 5

- ① 裁判員が参加する裁判は、すべての刑事事件に及ぶ。
- ② 裁判所が裁判官全員一致で、公の秩序又は善良の風俗を害するおそれがあると判断した場合、判決を含め、裁判を非公開にしなければならない。
- ③ 被告人には公開の法廷で裁判を受ける権利が保障されている。
- ④ 犯罪の被害者や遺族が法廷で意見陳述を行うことは認められていない。

問4 下線部㉕の黙秘権その他の権利に関連して、黙秘権のほか、現に被疑者・被告人である者に固有の権利として最も適当なものを、次の①～④のうちから一つ選びマークせよ。 6

- ① 刑事補償請求権
- ② 証人審問権
- ③ 請願権
- ④ 不逮捕特権

問5 下線部㉖に関する記述として最も適当なものを、次の①～④のうちから一つ選びマークせよ。 7

- ① 被告人が犯罪を行ったことを証明しなければならないのは裁判官である。
- ② 被告人は有罪とならないよう、自ら潔白であることを証明しなければならない。
- ③ 有罪とすることに疑いの余地があれば被告人は無罪となる。
- ④ 被告人が犯罪を行ったことを自白すれば、それ以外に証拠がなくとも有罪判決を出すことができる。

問6 下線部㉑の上訴に関連して、審級制度（三審制）に関する記述として適当でないものを、次の①～④のうちから一つ選びマークせよ。 8

- ① 第一審が裁判員制度の対象となった事件は、上訴しても裁判員制度の対象となる。
- ② 刑事裁判において第一審判決に対して上訴を行うことを原則、控訴という。
- ③ 刑事裁判において第二審判決に対して上訴を行うことを原則、上告という。
- ④ 刑事裁判において上告審裁判所は最高裁判所である。

問7 下線部㉒の刑罰に関連して、死刑に関する記述として最も適当なものを、次の①～④のうちから一つ選びマークせよ。 9

- ① 死刑廃止が求められる理由の一つに冤罪の可能性の問題がある。
- ② 最高裁判所は1948年、死刑制度を違憲と判断した。
- ③ 死刑制度を廃止した国は存在しない。
- ④ 日本は、2023年時点で、国連の死刑廃止条約を批准している。

問8 下線部㉓の再審に関する記述として最も適当なものを、次の①～④のうちから一つ選びマークせよ。 10

- ① 上訴を行ったが有罪判決が覆らなかった場合、請求があれば、裁判所は再審を開始しなければならない。
- ② 再審を行った結果、無罪となった事件はない。
- ③ 有罪判決が確定した後でも再審が認められるのは、無罪となるような新たな証拠が出てきた場合などに限られる。
- ④ 再審の結果を待たずに、刑の執行を停止した例はない。

## Ⅱ 次の文章を読み、下の問いに答えよ。

第二次世界大戦後、日本国憲法第 11 条によって、労働者には争議権<sup>(a)</sup>をはじめとする労働三権が保障され、さらに労働三法などの法律<sup>(b)</sup>が整備された。その後労働組合により毎年 12 に行われる賃上げ闘争は、12 闘として定着した。これらの労働運動をリードしてきた総評や同盟などの全国的中央組織（13）は、1989年、連合や全労連などに再編成された。

ただし、近年では、日本の労働組合の組織率<sup>(c)</sup>が低下するとともに、雇用・賃金形態が多様化し、非正規雇用者の割合も増加するなかで、労働問題のみならず働き方<sup>(d)</sup>そのもののあり方<sup>(e)</sup>が問われるようになっている。また、働き手不足の日本において外国人労働者の受け入れ<sup>(f)</sup>のあり方も検討する必要がある。<sup>(g)</sup>

問1 文中の 11 ～ 13 に入れるのに最も適当なものを、次の①～④のうちからそれぞれ一つ選びマークせよ。

- |    |               |              |      |      |
|----|---------------|--------------|------|------|
| 11 | ① 18          | ② 28         | ③ 38 | ④ 48 |
| 12 | ① 春           | ② 夏          | ③ 秋  | ④ 冬  |
| 13 | ① 第一インターナショナル | ② ユニオン・ショップ  |      |      |
|    | ③ ナショナルセンター   | ④ ナショナル・トラスト |      |      |

問2 下線部④の争議に関連して、使用者による作業所閉鎖を意味する用語として最も適当なものを、次の①～④のうちから一つ選びマークせよ。 14

- |          |           |
|----------|-----------|
| ① ストライキ  | ② ピケッティング |
| ③ ロックアウト | ④ サボタージュ  |

問3 下線部⑥の法律に関連して、日本で労働争議の予防や解決を図るため、斡旋・調停・仲裁などの手段を設けている法律として最も適当なものを、次の①～④のうちから一つ選びマークせよ。 15

- |         |           |
|---------|-----------|
| ① 労働契約法 | ② 労働基準法   |
| ③ 労働審判法 | ④ 労働関係調整法 |

問4 下線部㉔の労働組合の組織率に関して述べた以下の文(ア)と(イ)の正誤の組み合わせとして最も適当なものを、次の①～④のうちから一つ選びマークせよ。

16

(ア) 1970年代の日本の推定組織率は、50%を上回っていた。

(イ) 2010年代以降の日本の推定組織率は、20%を下回っている。

① (ア)－正 (イ)－正

② (ア)－正 (イ)－誤

③ (ア)－誤 (イ)－正

④ (ア)－誤 (イ)－誤

問5 下線部㉕の賃金に関する記述として最も適当なものを、次の①～④のうちから一つ選びマークせよ。

17

① 日本の労働基準法には、男女同一賃金の原則についての規定はない。

② 日本では、1959年に最低賃金法が制定された。

③ 日本では、2023年時点で、地域別の最低賃金は定められていない。

④ 一人当たりの賃金は減るものの、労働時間を減らして雇用を増やし、仕事を分かち合う働き方を、コージェネレーションという。

問6 下線部㉖の非正規雇用者に関する記述として最も適当なものを、次の①～④のうちから一つ選びマークせよ。

18

① 2021年時点で、日本の非正規雇用者の人数は2,000万人を上回っている。

② 2021年時点で、日本の派遣労働者の人数は、パート・アルバイト労働者の人数を上回っている。

③ 2023年時点で、日本の労働者派遣法は、対象業務を専門職に限定している。

④ 2023年時点で、日本では、パートタイム労働を対象にした法律が制定されたことはない。

問7 下線部①の働き方に関連して、働きがいのある人間らしい仕事を意味する用語として最も適当なものを、次の①～④のうちから一つ選びマークせよ。

19

- |            |              |
|------------|--------------|
| ① ワークショップ  | ② ディーセント・ワーク |
| ③ ユニラテラリズム | ④ フレキシキュリティ  |

問8 下線部②の外国人労働者の受け入れをめぐる日本の状況に関する記述として最も適当なものを、次の①～④のうちから一つ選びマークせよ。

20

- ① 2019年、技能実習生制度が廃止された。
- ② 2021年時点で、日本における外国人労働者の数は150万人を上回っている。
- ③ 2021年時点で、日本における外国人労働者の産業別内訳で最も多い割合を占めるのは、宿泊業・飲食サービス業である。
- ④ 2023年時点で、EPA（経済連携協定）に基づいた介護・看護分野での外国人労働者の受け入れは、実施されていない。

### Ⅲ 次の文章を読み、下の問いに答えよ。

日本では、戦後、農業就業者数は減少傾向にあり、2020年には全就業者に占める割合は約  % となった。また、販売農家<sup>①</sup>のなかでも主業農家と準主業農家が減少した。

主食であるコメについては、食糧管理制度に基づき政府が農家から買い上げたため生産が増えたが、食生活の変化で大量の余剰米が発生し、 年から減反政策をとった。その後、1995年の新食糧法施行で、コメの価格と流通<sup>②</sup>に関しては原則的に自由化され、市場原理<sup>③</sup>にゆだねられることになった。

しかし、日本の農業は規模が零細であり、労働生産性の低さもあって、国際競争力は弱く、食料自給率<sup>④</sup>は、カロリーベースで2019年には  % と低い水準にある。農業の再生には産業としての農業の活性化が必要であり、生産・加工・販売を一体化して事業を行う  次産業化をめざすなど工夫が求められる。

問1 文中の  ～  に入れるのに最も適当なものを、次の①～④のうちからそれぞれ一つ選びマークせよ。

<input type="text" value="21"/>	① 3	② 13	③ 23	④ 33
<input type="text" value="22"/>	① 1970	② 1975	③ 1980	④ 1985
<input type="text" value="23"/>	① 18	② 28	③ 38	④ 48
<input type="text" value="24"/>	① 2	② 4	③ 6	④ 8

問2 下線部①の販売農家に関する記述として最も適当なものを、次の①～④のうちから一つ選びマークせよ。

- ① 2015年時点で販売農家は自給的農家より多い。
- ② 2015年時点で販売農家の中で副業的農家が最も少ない。
- ③ 準主業農家は、65歳未満で年間60日以上農業に従事する者がいない農家をいう。
- ④ 主業農家は、65歳未満で年間60日以上農業に従事する者がおり、農外所得が農業所得より多い農家をいう。

問3 下線部⑥の1995年に内閣総理大臣であった人物として最も適当なものを、次の①～④のうちから一つ選びマークせよ。 26

- ① 村山富市      ② 宮沢喜一      ③ 橋本龍太郎      ④ 小渕恵三

問4 下線部⑨の流通に関連して、食品の生産から販売までの記録を保管し、その情報を追跡できるようにする制度として最も適当なものを、次の①～④のうちから一つ選びマークせよ。 27

- ① トレーサビリティ      ② セーフティネット  
③ ブロックチェーン      ④ サプライチェーン

問5 下線部④の市場原理に関して述べた以下の文(ア)と(イ)の正誤の組み合わせとして最も適当なものを、次の①～④のうちから一つ選びマークせよ。 28

(ア) 超過需要があるとき価格は上昇する。

(イ) 豊作のとき供給曲線は左へ移動し、均衡価格は下落する。

- ① (ア)－正 (イ)－正      ② (ア)－正 (イ)－誤  
③ (ア)－誤 (イ)－正      ④ (ア)－誤 (イ)－誤

問6 下線部⑤の食料自給率に関連して、次の(1)と(2)に答えよ。

(1) 2019年時点でのカロリーベースの食料自給率が高い順に以下のA～Cの国を並べたものとして最も適当なものを、次の①～⑥のうちから一つ選びマークせよ。 29

A ドイツ      B イギリス      C フランス

- ① A → B → C      ② A → C → B  
③ B → A → C      ④ B → C → A  
⑤ C → A → B      ⑥ C → B → A

(2) 2019年時点での日本の重量ベースの品目別食料自給率で、自給率が高い順に以下のA～Cの品目を並べたものとして最も適当なものを、次の①～⑥のうちから一つ選びマークせよ。

30

A 野 菜

B 果 実

C 肉 類

① A → B → C

② A → C → B

③ B → A → C

④ B → C → A

⑤ C → A → B

⑥ C → B → A



#### Ⅳ 次の文章を読み、下の問いに答えよ。

経済発展と大気汚染や水質汚濁などの環境問題は密接に関係している。経済が貧しい状態から所得水準が上昇し始めたとき、発展の初期には環境よりも経済成長が優先されるため、環境汚染が深刻化する。日本でも高度経済成長期に公害問題が深刻化した。やがて経済が豊かになってくると、環境に対する意識が高まり、環境保護のための様々な取り組みが行われることで、環境汚染が改善していく。このような所得水準と環境汚染との関係は「環境クズネッツ曲線」と呼ばれる。

問1 下線部①の経済発展に関連して、ODA に関する記述として最も適切なものを、次の①～④のうちから一つ選びマークせよ。 31

- ① 贈与とは、無償資金協力と国際機関への出資・拠出を合わせたものである。
- ② 2019～20年平均で見た日本の ODA の贈与比率は約40%であった。
- ③ 2022年における日本の ODA の対 GNI 比は1.39%であった。
- ④ 2020年の二国間援助の分野別配分において、アメリカの ODA は経済インフラの割合が最も大きく、日本の ODA は社会インフラの割合が最も大きかった。

問2 下線部②の大気汚染に関連して、日本の四大公害の訴訟に関する記述として最も適切なものを、次の①～④のうちから一つ選びマークせよ。 32

- ① 水俣病では、工場廃液中のカドミウムで汚染された魚介類を食べた住民が中毒になったとして賠償を請求した。
- ② 新潟水俣病では、被告企業の共同不法行為が認定された。
- ③ イタイイタイ病の訴訟の判決では、疫学的因果関係の証明があれば賠償請求できるとした。
- ④ 四日市ぜんそくの訴訟の被告は、昭和四日市石油やチッソなど6社であった。

問3 下線部㉓の環境問題に関連して、地球環境問題への取り組みに関する記述として最も適当なものを、次の①～④のうちから一つ選びマークせよ。 33

- ① モントリオール議定書は、オゾン層を破壊する物質を規制している。
- ② ハーグ条約は、絶滅の恐れのある野生動植物の国際取引を制限している。
- ③ リスボン条約は、有害廃棄物の国境を越える移動および処分を規制している。
- ④ ウィーン条約は、生物の生息環境の保全と遺伝資源の持続可能な利用を規定している。

問4 下線部㉔の貧しい状態に関連して、発展途上国への支援に関する記述として最も適当なものを、次の①～④のうちから一つ選びマークせよ。 34

- ① 2023年に、新型コロナウイルスのワクチンを発展途上国に優先的に無料で届けるための COVAX ファシリティが設立された。
- ② IDA は、発展途上国の企業に融資を行っている。
- ③ バングラデシュのグラミン銀行は、無担保・低利子で少額の融資を行っている。
- ④ 先進国の企業が、発展途上国に対して工業製品を公正な価格で輸出することをフェアトレードという。

問5 下線部㉕の所得水準に関連して、GDP や国民所得に関する記述として最も適当なものを、次の①～④のうちから一つ選びマークせよ。 35

- ① GDP は固定資本減耗や中間生産物を含む。
- ② GDP は国内にいる外国人の所得を含まない。
- ③ 日本の GDP 統計は、IMF で合意された国民経済計算の国際基準である 2008SNA に基づいている。
- ④ 2021年の日本の分配国民所得に占める雇用者報酬の割合は73.7%であった。

問6 下線部⑥の日本の賃金に関する記述として最も適当なものを、次の①～④のうちから一つ選びマークせよ。 36

- ① 労働基準法は、賃金は毎月1回以上、一定の期日を定めて支払わなければならないと規定している。
- ② 2020年時点で、男性を100としたときの女性の賃金比率は92.6であった。
- ③ 購買力平価で見ると、2022年における日本の製造業全労働者の賃金水準は、ドイツよりも高い。
- ④ 2000年以降、最低賃金が引き上げられてきたため、実質賃金指数も上昇傾向にある。

問7 下線部⑦の高度経済成長期に関する記述として最も適当なものを、次の①～④のうちから一つ選びマークせよ。 37

- ① 1960年に池田勇人内閣は、20年間で国民所得を2倍にするという「国民所得倍增計画」を打ち出した。
- ② 1965年の不況から、赤字国債が毎年発行されるようになった。
- ③ 1968年に、日本のGNPが資本主義国で第2位となった。
- ④ 1960年代半ばまでは、景気拡大が続くと輸出が増えて外貨準備が減るため、金融引き締めにより景気を抑制していた。

問8 下線部⑧の公害問題に関連して、日本の公害問題への対応に関する記述として最も適当なものを、次の①～④のうちから一つ選びマークせよ。 38

- ① 1968年のいわゆる「公害国会」では、公害関連の14の法律が制定・改正された。
- ② 1971年に公害行政を一元化するために、環境省が設置された。
- ③ 1987年に公害健康被害補償法が改正され、大気汚染による公害病患者の新規認定は打ち切られた。
- ④ 2009年に水俣病被害者救済特別措置法が制定され、救済の対象が広げられたため、未認定の患者による裁判は行われなくなった。

問9 下線部①の環境保護に関連して、パリ協定に関する記述として最も適切なものを、次の①～④のうちから一つ選びマークせよ。 39

- ① 世界全体の平均気温の上昇を産業革命以前に比べて2℃よりも十分低く保つとともに、1.5℃に抑えるように努力すること、という目標が定められた。
- ② すべての締約国が温室効果ガス排出の削減目標を自主的に定めるとともに、目標達成を義務づけられた。
- ③ 日本は2030年度の温室効果ガスの排出を2013年度の水準から6%削減することを目標としている。
- ④ 市場メカニズムを取り入れた制度である排出量取引やクリーン開発メカニズムが初めて導入された。

問10 下線部①の環境クズネツ曲線とクズネツに関する記述として最も適切なものを、次の①～④のうちから一つ選びマークせよ。 40

- ① イギリスの経済学者である。
- ② 所得水準と絶対的貧困の逆U字型の関係をクズネツ曲線という。
- ③ ドイツの二酸化炭素排出量は、環境クズネツ曲線が示すようには減少していない。
- ④ 建設投資の変動によって生じる約20年の景気循環をクズネツの波という。

# 数 学

(解答番号  $^1 \square \sim ^{55} \square$ )

## 解答上の注意

- 1) 問題の文中の  $^1 \square$ ,  $^2 \square$  などの一つ一つには、特に指示のない限り、それぞれ 0 から 9 までの数字が一つ入る。  $\square$  の左上の数字は「解答番号」である。
- 2) 2 個並んだ  $\square \square$  は 2 桁(けた)の正の整数を表す。3 個以上並んだ場合も同様である。
- 3)  $\square$  の前に「-」がついている場合は負の整数を表す。例えば、 $-\square$  は 1 桁の負の整数を表し、 $-\square\square$  は 2 桁の負の整数を表す。
- 4)  $\frac{\square}{\square}$ ,  $\frac{\square}{\square\square}$ ,  $-\frac{\square}{\square}$  などは分数を表す。分数形で解答する場合は、既約分数(それ以上約分できない分数)で答えること。
- 5) 根号を含む形で解答する場合は、根号の中に現れる自然数が最小となる形で答えること。例えば、 $\square\sqrt{\square}$  に  $4\sqrt{2}$  と答えるところを、 $2\sqrt{8}$  のように答えてはならない。
- 6) 選択肢から一つを選んで、番号を答える場合もある。

I 3 次関数  $f(x) = x^3 - 6x^2 + 3x + 10$  を考える。座標平面上の曲線  $y = f(x)$  と  $x$  軸との交点の  $x$  座標を、小さい順に  $\alpha, \beta, \gamma$  とする。

(1)  $\alpha = -\overset{1}{\square}, \beta = \overset{2}{\square}, \gamma = \overset{3}{\square}$  である。

(2) 関数  $f(x)$  は  $x = \overset{4}{\square} - \sqrt{\overset{5}{\square}}$  で極大値  $\overset{6}{\square} \sqrt{\overset{7}{\square}}$  をとる。

(3) 曲線  $y = f(x)$  と  $x$  軸で囲まれた 2 つの部分の面積の和は  $\frac{\overset{8}{\square} \overset{9}{\square}}{\overset{10}{\square}}$  である。

(4)  $s, t$  は  $\alpha \leq s < t \leq \gamma$  を満たす実数とする。曲線  $y = f(x)$  上の点  $(s, f(s)), (t, f(t))$  における曲線の接線をそれぞれ  $\ell_1, \ell_2$  とし、 $\ell_1, \ell_2$  の傾きをそれぞれ  $k_1, k_2$  とする。

(i)  $k_1 = k_2$  となるような整数の組  $(s, t)$  は全部で  $\overset{11}{\square}$  個あり、そのうち  $k_1$  の値が最大となるのは  $k_1 = \overset{12}{\square} \overset{13}{\square}$  のときである。

(ii) 2 つの直線  $\ell_1, \ell_2$  が直交し、かつ  $k_1 > 0$  とする。このとき、 $k_1 - k_2$  の値が最小となるような  $s$  の値は

$$s = \overset{14}{\square} - \frac{\overset{15}{\square}}{\overset{16}{\square}} \sqrt{\overset{17}{\square} \overset{18}{\square}}$$

である。

(計 算 用 紙)

II 座標平面上に 2 点  $A(-1, 1)$ ,  $B(3, 4)$  がある。線分  $AB$  を  $1:2$  に内分する点を  $P$  とし、線分  $AB$  を  $1:2$  に外分する点を  $Q$  とする。また、2 点  $A, B$  を直径の両端とする円を  $C$  とし、2 点  $P, Q$  を直径の両端とする円を  $D$  とする。 $C, D$  の中心をそれぞれ  $E, F$  とする。

(1) 線分  $AB$  の長さは  $^{19}\square$ , 点  $P$  の  $y$  座標は  $^{20}\square$ , 点  $Q$  の  $x$  座標は  $^{21}\square$  である。また、円  $C$  の面積は円  $D$  の面積の  $\frac{^{22}\square}{^{23}\square^{24}\square}$  倍である。

(2) 点  $R$  は  $y$  座標が負であり、かつ  $\triangle RPF$  と  $\triangle RQF$  が合同となるような円  $D$  上の点とする。このとき、 $\triangle RPF$  の面積は  $\frac{^{25}\square^{26}\square}{^{27}\square}$  である。また、点  $R$  の  $y$  座標は  $-\frac{^{28}\square}{^{29}\square}$  である。

(3) 2 つの円  $C, D$  の共有点を  $x$  座標の小さい順に  $S, T$  とする。このとき、 $S$  の  $y$  座標は  $\frac{^{30}\square^{31}\square}{^{32}\square}$  であり、 $T$  の  $x$  座標は  $^{33}\square$  である。また、四角形  $ESFT$  の面積は  $\frac{^{34}\square^{35}\square}{^{36}\square}$  である。



(計 算 用 紙)

III  $n$  は正の整数とする。 $(x+5)^n$  の展開式における  $x^r$  ( $0 \leq r \leq n$ ) の項の係数を  $c_r$  とする。

(1)  $n = 2$  のとき,  $c_1 = \overset{37}{\square} \overset{38}{\square}$  である。

(2)  $n = 3$  のとき,  $c_2 = \overset{39}{\square} \overset{40}{\square}$  である。

(3)  $n = 4$  のとき,  $\frac{c_2}{c_3} = \frac{\overset{41}{\square} \overset{42}{\square}}{\overset{43}{\square}}$  である。

(4)  $n = 6$  のとき,  $\frac{c_3}{c_4} = \frac{\overset{44}{\square} \overset{45}{\square}}{\overset{46}{\square}}$  である。

(5)  $n = 12$  のとき,  $\frac{c_1}{c_2} = \frac{\overset{47}{\square} \overset{48}{\square}}{\overset{49}{\square} \overset{50}{\square}}$  である。

(6)  $n = 113$  とする。このとき,  $c_{r+1} - c_r < 0$  ( $0 \leq r \leq 112$ ) を満たす  $r$  はちょうど  $\overset{51}{\square} \overset{52}{\square}$  個存在する。

(7)  $n = 2025$  とする。このとき,  $c_r$  の値が最大となるような  $r$  の値は  $r = \overset{53}{\square} \overset{54}{\square} \overset{55}{\square}$  である。

(計 算 用 紙)