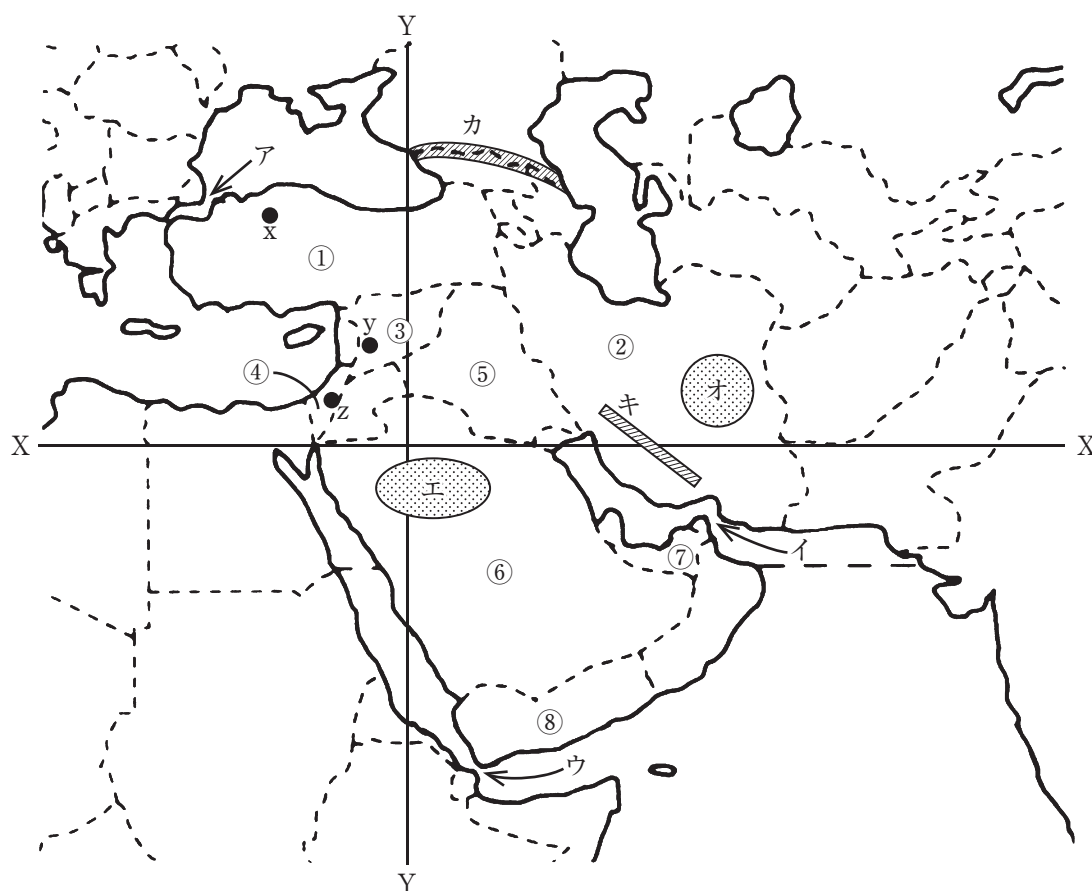


**地 理**( 解答番号  ~  )

I 次の西アジアの地図を見て、下の問い（問1～13）に答えよ。



問1 X・Yの組合せとして最も適当なものを、次の①～④のうちから一つ選び  
マークせよ。 1

- ① X：北緯20° Y：東経40°      ② X：北緯20° Y：東経60°  
③ X：北緯30° Y：東経40°      ④ X：北緯30° Y：東経60°

問2 ア～ウの組合せとして最も適当なものを、次の①～④のうちから一つ選び  
マークせよ。 2

- ① ア：ボスポラス海峡 イ：ホルムズ海峡 ウ：マンダブ海峡  
② ア：ボスポラス海峡 イ：マンダブ海峡 ウ：ホルムズ海峡  
③ ア：マンダブ海峡 イ：ボスポラス海峡 ウ：ホルムズ海峡  
④ ア：マンダブ海峡 イ：ホルムズ海峡 ウ：ボスポラス海峡

問3 エ・オの組合せとして最も適当なものを、次の①～④のうちから一つ選び  
マークせよ。 3

- ① エ：ネフド砂漠 オ：シリア砂漠  
② エ：ネフド砂漠 オ：ルート砂漠  
③ エ：ルブアルハリ砂漠 オ：シリア砂漠  
④ エ：ルブアルハリ砂漠 オ：ルート砂漠

問4 カ・キのいずれかに該当する組合せとして最も適当なものを、次の①～④の  
うちから一つ選びマークせよ。 4

- ① カ：カフカス山脈・安定陸塊      ② キ：カフカス山脈・古期造山帯  
③ カ：ザグロス山脈・古期造山帯      ④ キ：ザグロス山脈・新期造山帯

問5 x～zの各首都の気候について、気温の年較差が最大の都市と最小の都市の  
組合せとして最も適当なものを、次の①～④のうちから一つ選びマークせよ。

5

- ① 最大：x 最小：y      ② 最大：x 最小：z  
③ 最大：y 最小：x      ④ 最大：z 最小：x

問6 x～zの各首都の気候について、冬季における降水量が最多の都市と最少の都市の組合せとして最も適当なものを、次の①～④のうちから一つ選びマークせよ。 6

- |             |             |
|-------------|-------------|
| ① 最多：x 最少：y | ② 最多：x 最少：z |
| ③ 最多：y 最少：x | ④ 最多：z 最少：y |

問7 次の文に該当する国を、地図中の①～⑧のうちから一つ選びマークせよ。

7

山地と高原が国土の大半を占め、現在の首都は内陸の高原上に位置する。かつての首都は海峡に臨む東西交通の要衝に立地していたので、東洋と西洋の文明が融合した独自の文化様式が見られる。隣国との国境地帯<sup>a</sup>には国家を持たない少数民族が居住している。

問8 問7の文中の下線部aとして最も適当なものを、次の①～④のうちから一つ選びマークせよ。 8

- |           |          |
|-----------|----------|
| ① クルディスタン | ② トルクスタン |
| ③ パレスチナ   | ④ メソポタミア |

問9 次の文に該当する国を、地図中の①～⑧のうちから一つ選びマークせよ。

9

イスラーム世界に属するものの、イスラームでは非主流のシーア派教徒が多数を占める。言語的にも多くがアラビア語で共通する他のイスラーム世界と異なり、ペルシア語を公用語としている。乾燥気候下にあり、農村では伝統的に地下水路<sup>b</sup>が利用されてきた。

問10 問9の文中の下線部bとして最も適当なものを、次の①～④のうちから一つ選びマークせよ。 10

- |          |        |
|----------|--------|
| ① カナート   | ② カレーズ |
| ③ カンアルチン | ④ フォガラ |

問11 次の文に該当する国を，地図中の①～⑧のうちから一つ選びマークせよ。

11

第二次世界大戦後に建国された新しい国家であるが、その歴史は古く、首都はユダヤ教・キリスト教・イスラームの共通の聖地ともなっている。建国以来、アラブ人との軋轢が絶えず、南部のアラブ人入植地では激しい戦闘が現在も行われている（2024年7月現在）。

問12 問11の文中の下線部cのうち、この国の宗教的シンボルとして最も適当なものを、次の①～④のうちから一つ選びマークせよ。

12
----

12

- ① 岩のドーム      ② カーバ神殿      ③ 聖墳墓教会      ④ 嘆きの壁

問13 問11の文中の下線部dとして最も適当なものを、次の①～④のうちから一つ  
 選びマークせよ。

13

- ① ガザ地区                      ② ゴラン高原
- ③ ネゲヴ                        ④ ヨルダン川西岸地区



Ⅱ 次の地形図（平成17年発行）を見て、下の問い（問1～13）に答えよ。



問1 縮尺と等高線について述べた文として最も適当なものを、次の①～④のうちから一つ選びマークせよ。

- ① 2万5千分の1の縮尺で、300mの計曲線が見られる。
- ② 2万5千分の1の縮尺で、350mの主曲線が見られる。
- ③ 5万分の1の縮尺で、300mの主曲線が見られる。
- ④ 5万分の1の縮尺で、350mの計曲線が見られる。

問2 三角点のうち最高地点と最低地点の高度差として最も適当なものを、次の①～④のうちから一つ選びマークせよ。

- ① 約285m      ② 約345m      ③ 約405m      ④ 約465m

問3 a 駅から b 駅までは図上で約5.5cmである。分速80m で歩いた場合にかかる時間として最も適当なものを、次の①～④のうちから一つ選びマークせよ。

- ① 約11分      ② 約14分      ③ 約17分      ④ 約20分

問4 a 駅付近に見られないものとして最も適当なものを、次の①～④のうちから一つ選びマークせよ。

- ① 交 番      ② 裁判所      ③ 小・中学校      ④ 郵便局

問5 魚崎浜町に見られないものとして最も適当なものを、次の①～④のうちから一つ選びマークせよ。

- ① 煙 突                      ② 官公署                      ③ 工 場                      ④ 稅務署

問6 鉄道について述べた文として最も適当なものを、次の①～④のうちから一つ  
選びマークせよ。 19

- ① JR 線は 1 線, JR 線以外も 1 線である。
- ② JR 線は 1 線, JR 線以外は 2 線である。
- ③ JR 線は 2 線, JR 線以外も 2 線である。
- ④ JR 線は 2 線, JR 線以外は 3 線である。

問7 国道の本数として最も適当なものを、次の①～④のうちから一つ選びマーク  
せよ。 20

- ① 0                                      ② 1                                      ③ 2                                      ④ 3

問8 博物館・美術館を示す地図記号の数として最も適当なものを、次の①～④の  
うちから一つ選びマークせよ。 21

- ① 0                                      ② 1                                      ③ 2                                      ④ 3

問9 山地部で卓越する植生として最も適当なものを、次の①～④のうちから一つ  
選びマークせよ。 22

- ① 笹 地                                      ② 針葉樹林                                      ③ 竹 林                                      ④ ヤシ科樹林

問10 住吉川の説明として最も適当なものを、次の①～④のうちから一つ選びマー  
クせよ。 23

- ① 上流から下流まで緩やかな勾配になっている。
- ② 上流部は建物密集地となっている。
- ③ 河口付近では岩がけが見られる。
- ④ 天井川となっている箇所が見られる。



問11 渦森台四丁目の説明として最も適当なものを，下の①～④のうちから一つ選びマークせよ。

24

- ① 環濠集落として成立した。
- ② 宿場町としての名残を残している。
- ③ 住宅団地として造成された。
- ④ 門前町として発展してきた。

問12 次の表中の①～④は，大阪市・京都市・神戸市・堺市の面積と人口密度（2023年）を示したものである。神戸市に該当するものを，①～④のうちから一つ選びマークせよ。

25

	面積 (km <sup>2</sup> )	人口密度 (人/km <sup>2</sup> )
①	149.83	5,482.4
②	225.33	12,167.0
③	557.03	2,712.5
④	827.83	1,673.8

問13 日本の政令指定都市（2023年）の数として最も適当なものを，次の①～④のうちから一つ選びマークせよ。

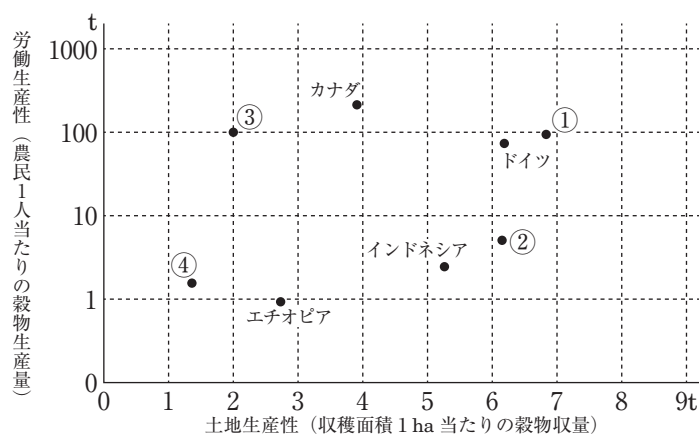
26

- ① 10
- ② 20
- ③ 30
- ④ 40

Ⅲ 農業と食料・食品問題に関する以下の問い（問 1～13）に答えよ。

問 1 次の図は、8 か国の労働生産性と土地生産性（2012年）を示したものであり、  
①～④は、オーストラリア・ナイジェリア・日本・フランスいずれかである。  
日本に該当する最も適当なものを、図 1 中の①～④のうちから一つ選びマーク  
せよ。

27



(『FAOSTAT』による)

図 1

問2 次の表1中のA～Cは、アメリカ合衆国・オーストラリア・中国いずれかに  
おける日本への輸出農林水産物上位5品目（2023年，金額ベース）を示したも  
のである。A～Cと国名の組合せとして最も適当なものを，下の①～⑥のうち  
から一つ選びマークせよ。 

28
----

表1

	A	B	C
1位	牛 肉	とうもろこし	冷凍野菜
2位	砂 糖	大 豆	鶏肉調製品
3位	菜 種	牛 肉	大豆油粕
4位	木材チップ	豚 肉	うなぎ（調整品）
5位	小 麦	小 麦	生鮮野菜

（『農林水産物輸出入概況』による）

	A	B	C
①	アメリカ合衆国	オーストラリア	中 国
②	アメリカ合衆国	中 国	オーストラリア
③	オーストラリア	アメリカ合衆国	中 国
④	オーストラリア	中 国	アメリカ合衆国
⑤	中 国	アメリカ合衆国	オーストラリア
⑥	中 国	オーストラリア	アメリカ合衆国

問3 次の表2は、日本のおもな農産物の輸入先上位3か国（2021年、重量ベース）を示したものであり、①～⑥はえび・かんきつ類・コーヒー生豆・植物性油脂・天然ゴム・バナナ（生鮮）のいずれかである。えびと植物性油脂に該当するものを、表2中の①～⑥のうちから一つずつ選び、えびは 



 に、植物性油脂は 



 にマークせよ。

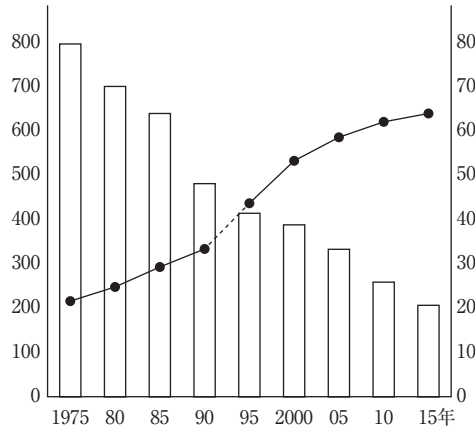
表2

	1 位	2 位	3 位
①	アメリカ合衆国	オーストラリア	南アフリカ共和国
②	インド	ベトナム	インドネシア
③	インドネシア	タ イ	ベトナム
④	フィリピン	エクアドル	メキシコ
⑤	ブラジル	ベトナム	コロンビア
⑥	マレーシア	インドネシア	スペイン

（『貿易統計』による）

問4 日本の農業について、次の図2中の棒グラフと折れ線グラフの組合せとして最も適当なものを、下の①～④のうちから一つ選びマークせよ。

31



(『農林業センサス』による)

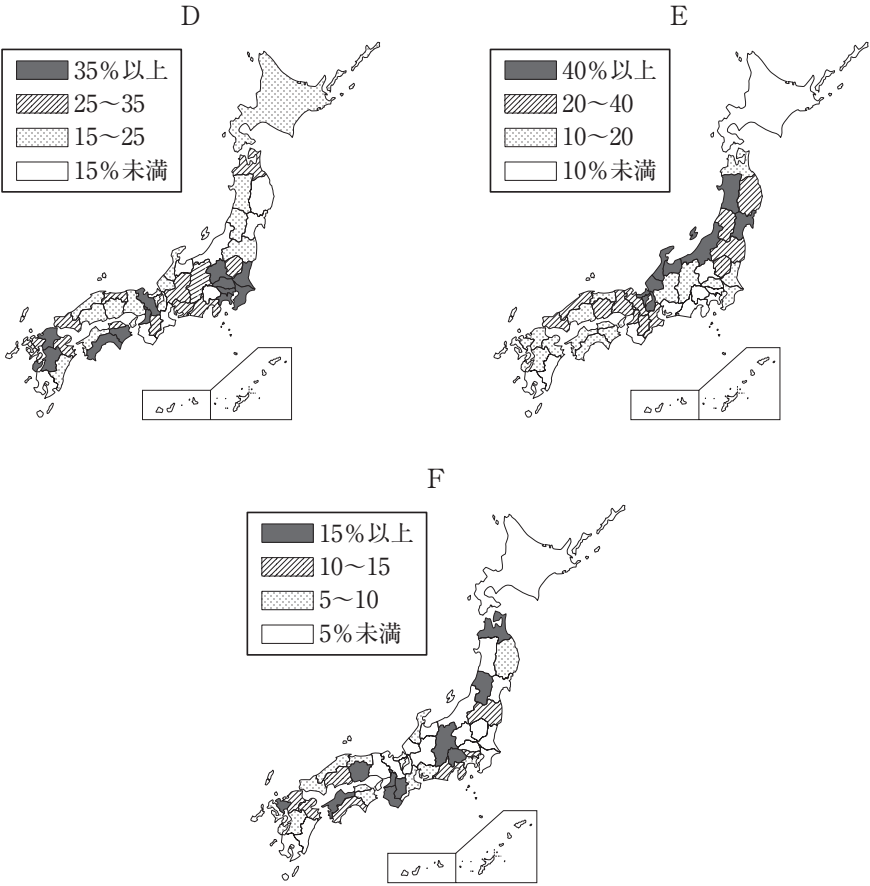
図2

- ① 棒グラフ：稲作の収穫量（左軸，万トン）  
折れ線グラフ：農業産出額に占める稲作の割合（右軸，%）
- ② 棒グラフ：耕地面積（左軸，ha）  
折れ線グラフ：耕地1ha当たりの農業産出額（右軸，千ドル）
- ③ 棒グラフ：農家数（左軸，万戸）  
折れ線グラフ：農家数に占める主業農家の割合（右軸，%）
- ④ 棒グラフ：農業就業人口（左軸，万人）  
折れ線グラフ：農業人口に占める65歳以上の割合（右軸，%）



問5 次の図3中のD～Fは、稲作・果樹栽培・野菜栽培いずれかにおける農業産出額割合上位の都道府県（2020年）を示したものである。D～Fと稲作・果樹栽培・野菜栽培の組合せとして最も適当なものを、下の①～⑥のうちから一つ選びマークせよ。

32



(『生産農業所得統計』による)

図3

	①	②	③	④	⑤	⑥
稲 作	D	D	E	E	F	F
果樹栽培	E	F	D	F	D	E
野菜栽培	F	E	F	D	E	D



問9 日本の農業政策の変遷として最も適当なものを、次の①～⑥のうちから一つ  
選びマークせよ。 36

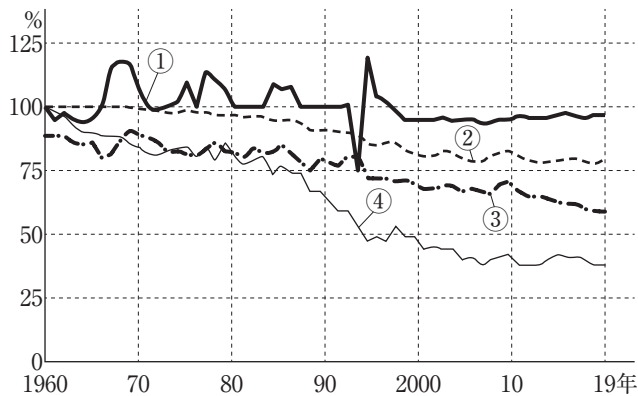
- ① 減反政策→米の輸入関税化→農地改革
- ② 減反政策→農地改革→米の輸入関税化
- ③ 米の輸入関税化→減反政策→農地改革
- ④ 米の輸入関税化→農地改革→減反政策
- ⑤ 農地改革→減反政策→米の輸入関税化
- ⑥ 農地改革→米の輸入関税化→減反政策

問10 近年の日本における農業の変化について述べた文として最も適当なものを、  
次の①～④のうちから一つ選びマークせよ。 37

- ① おもにアジア諸国の富裕層に向けて、安価な日本ブランドの農産物輸出が増えている。
- ② 情報通信技術（ICT）を活用して農作業を効率化する、スマートアグリ of 技術開発が進んでいる。
- ③ 農業産出額の減少を受け、農業分野の外国人技能実習生の受け入れ数は減っている。
- ④ 和牛やいちごなど、日本で開発された新しい品種を海外にも積極的に普及させている。

問11 次の図4は、日本のおもな農産物の自給率（重量ベース）を示したものであり、①～④は果実、牛乳・乳製品、米、野菜のいずれかである。果実に該当する最も適当なものを、図4中の①～④のうちから一つ選びマークせよ。

38



(『食料需給表』による)

図4

問12 フードマイレージを活用した取組みの説明として最も適当なものを、次の①～④のうちから一つ選びマークせよ。

39

- ① 地元で生産された農産物の魅力を他地域に広く発信する取組み
- ② 食に関する知識とバランスのよい食を選択する力を習得する取組み
- ③ 先進国が発展途上国の農産物を適正な価格で輸入する取組み
- ④ 農産物の輸送が環境に与える影響を数値化して把握する取組み

問13 食品のトレーサビリティの説明として最も適当なものを、次の①～④のうちから一つ選びマークせよ。

40

- ① 健康被害を抑制するための残留農薬や食品添加物に関する規制の強化
- ② 原産地表示や遺伝子組換え食品表示の義務化
- ③ 食品が生産加工されて消費者に届くまでの流通経路が把握できる状態
- ④ 鳥インフルエンザなど伝染病の発生に備えた国際的な監視システムの強化

# 日 本 史

( 解答番号  ～  )

I 次の史料と文を読み、下の問い（問1～10）に答えよ。

高野領  国太田庄ならびに桑原方地頭職・尾道倉敷以下の事、下地においては知行を致し、年貢に至りては、毎年千石寺納すべきの旨、山名右衛門佐入道常熙に仰せられ畢んぬ。<sup>(a)</sup>早く存知すべきの由、仰せ下さるるところなり。よって執達くだんの如し。

九年七月十九日  
当寺衆徒中

沙弥（花押）

1402年、 畠山基国が將軍  の命令を受けて高野山金剛峯寺に出した文書である。文中の山名右衛門佐入道常熙は、山名時熙を指す。時熙は、 の乱で一族が討伐された後、<sup>(c)</sup>山名氏の家督を認められ、 国守護をつとめた。

太田莊は、<sup>(d)</sup>治承4年に南都を焼き打ちしたことで知られる  から<sup>(e)</sup>後白河上皇に寄進され、後に後白河から高野山に寄進された。鎌倉時代初期には、問注所の  であった  が地頭をつとめた。莊内の尾道には倉敷（倉庫の敷地）が設定され、年貢輸送の拠点として機能した。

問1 空欄  に入れる国名として最も適当なものはどれか。次の①～④のうち一つをマークせよ。

- ① 周 防                  ② 備 後                  ③ 但 馬                  ④ 紀 伊

問2 空欄  に入れる人名として最も適当なものはどれか。次の①～④のうち一つをマークせよ。

- ① 和田義盛                  ② 大江広元                  ③ 三善康信                  ④ 梶原景時

問3 空欄   に入れる年号の組み合わせとして最も適当なものはどれか。次の①～④のうち一つをマークせよ。

- ① ア=応 永 エ=明 徳      ② ア=明 徳 エ=応 永  
③ ア=応 永 エ=観 応      ④ ア=観 応 エ=明 徳

問4 空欄   に入れる語句の組み合わせとして最も適当なものはどれか。次の①～④のうち一つをマークせよ。

- ① イ=執 事 カ=別 当      ② イ=別 当 カ=管 領  
③ イ=管 領 カ=執 事      ④ イ=管 領 カ=別 当

問5 空欄   に入れる人名の組み合わせとして最も適当なものはどれか。次の①～④のうち一つをマークせよ。

- ① ウ=足利義満 オ=平清盛      ② ウ=足利義持 オ=平清盛  
③ ウ=足利義満 オ=平重衡      ④ ウ=足利義持 オ=平重衡

問6 下線部(a)の内容として最も適当なものはどれか。次の①～④のうち一つをマークせよ。

- ① 山名時熙が年貢を徴収し、高野山に納めることを室町幕府が命じた。  
② 高野山が年貢を徴収し、山名時熙に納めることを室町幕府が命じた。  
③ 山名時熙が年貢を徴収し、室町幕府に納めることを高野山が命じた。  
④ 高野山が年貢を徴収し、室町幕府に納めることを山名時熙が命じた。

問7 下線部(b)を開いた空海の作品として最も適当なものはどれか。次の①～④のうち一つをマークせよ。

- ① 離洛帖      ② 風信帖      ③ 秋萩帖      ④ 白氏詩卷

問8 下線部(c)とともに四職と称された氏族として適当でないものはどれか。次の①～④のうち一つをマークせよ。

- ① 大内氏      ② 一色氏      ③ 赤松氏      ④ 京極氏

問9 下線部(d)のできごととして最も適当なものはどれか。次の①～④のうち一つをマークせよ。 9

- |            |          |
|------------|----------|
| ① 屋島の戦い    | ② 一の谷の戦い |
| ③ 倶利伽羅峠の戦い | ④ 富士川の戦い |

問10 下線部(e)についての文として最も適当なものはどれか。次の①～④のうち一つをマークせよ。 10

- |              |              |
|--------------|--------------|
| ① 白河上皇の孫である。 | ② 鳥羽上皇の弟である。 |
| ③ 高倉天皇の父である。 | ④ 以仁王の兄である。  |

Ⅱ 次の文を読み、下の問い（問１～１０）に答えよ。

福井市内に左内町という町名がある。同町にある左内公園内には橋本左内の墓所がある。左内は福井藩の藩医の子として生まれた。大坂に出て  の開いた適塾で蘭学・医学を学んだ。海外の文明や学問に強い関心を持った。彼の才能は藩主である  にも認められ、藩政改革の一翼を担うことになった。左内は將軍継嗣問題では  家の慶喜を推し、大老の井伊直弼らと対立した。いわゆる安政の大獄で左内は処刑された。

また、左内町に近い、足羽川にかけられた幸橋のそばに由利公正の像がある。公正は左内とほぼ同じ時期に藩政改革をおこない、財政の立て直しで貢献した。明治に入り、 五箇条の誓文を起草した。

問１ 空欄  に入れる人名として最も適当なものはどれか。次の①～④のうち一つをマークせよ。

- ① 荻生徂徠      ② 伊藤仁斎      ③ 林子平      ④ 緒方洪庵

問２ 空欄  に入れる人名として最も適当なものはどれか。次の①～④のうち一つをマークせよ。

- ① 松平定信      ② 松平慶永      ③ 松平容保      ④ 松平定敬

問３ 空欄  に入れる語句として最も適当なものはどれか。次の①～④のうち一つをマークせよ。

- ① 田 安      ② 一 橋      ③ 清 水      ④ 尾 張

問４ 下線部(a)で学んだ人物として最も適当なものはどれか。次の①～④のうち一つをマークせよ。

- ① 福沢諭吉      ② 渋沢栄一      ③ 塙保己一      ④ 柳沢吉保



問5 下線部(b)に関連して、『ターヘル=アナトミア』の邦訳本として最も適切なものはどれか。次の①～④のうち一つをマークせよ。 15

- ① 蘭学階梯      ② 暦象新書      ③ 解体新書      ④ 西洋紀聞

問6 下線部(c)が就いた職名として最も適切なものはどれか。次の①～④のうち一つをマークせよ。 16

- ① 政事総裁職      ② 京都守護職      ③ 将軍後見職      ④ 大坂城代

問7 下線部(d)に就いた人物として最も適切なものはどれか。次の①～④のうち一つをマークせよ。 17

- ① 水野忠邦      ② 田沼意次      ③ 新井白石      ④ 堀田正俊

問8 下線部(e)が勅許を得ずに締結した条約として最も適切なものはどれか。次の①～④のうち一つをマークせよ。 18

- ① 日米和親条約      ② 日米修好通商条約  
③ 日英和親条約      ④ 日露和親条約

問9 下線部(f)で処刑された人物として最も適切なものはどれか。次の①～④のうち一つをマークせよ。 19

- ① 高杉晋作      ② 佐久間象山      ③ 吉田松陰      ④ 坂本龍馬

問10 下線部(g)の一節として最も適当なものはどれか。次の①～④のうち一つを選び、マークせよ。

20

- ① 一 人タルモノ五倫ノ道ヲ正シクスベキ事  
一 鰥寡孤独廢疾ノモノヲ憫ムベキ事
- ② 一 大ニ斯国是ヲ定メ制度規律ヲ建ツルハ御誓文ヲ以テ目的トス（略）  
一 天下ノ権力総テコレヲ太政官ニ帰ス（略）
- ③ 然ルニ太政維新列藩版図ヲ奉還シ、辛未ノ歳ニ及ヒ遠ク郡県ノ古ニ復ス
- ④ 一 広ク会議ヲ興シ万機公論ニ決スベシ  
（略）  
一 官武一途庶民ニ至ル迄各其志ヲ遂ゲ人心ヲシテ倦ザラシメン事ヲ要ス  
一 旧来ノ陋習ヲ破リ天地ノ公道ニ基クベシ

### Ⅲ 次の文を読み、下の問い（問1～10）に答えよ。

日清戦争前後の産業革命期に入ると、待遇改善や賃金引上げを要求する工業労働者のストライキが始まった。1897年にはアメリカの労働運動の影響を受けた  ア  ・  イ  らが労働組合期成会を結成して労働運動の指導に乗り出し、熟練工を中心に労働者が団結して資本家に対抗する動きが現れた。

また1891年には  1  の鉱毒が渡良瀬川流域の農漁業に深刻な被害をもたらした公害事件<sup>(a)</sup>が発生し、15年余りにわたって大きな社会問題となった。

こうした社会運動の盛り上がりに対して政府は、1900年に治安警察法<sup>(b)</sup>を制定し、労働者の団結権・ストライキ権を制限して労働運動を取り締まった。<sup>(c)</sup>その反面で、政府は労働条件を改善して労資対立を緩和しようとする社会政策の立場から、日本で最初の労働者保護法である  2  制定に向かった。しかし  2  は資本家の反対もあって、1911年によく制定されたが、きわめて不備な内容であったうえ、その実施も1916年<sup>(d)</sup>にずれ込んだ。

第一次世界大戦が始まると、日本は産業の急速な発展によって好景気となり、労働者の数が大幅に増加した。その中で賃金引上げを求める労働運動は大きく高揚し、労働争議の件数も急激に増加した。1912年、労働者階級の地位向上と労働組合育成とを目的に  3  によって組織された友愛会は、この時期、修養団体から労働組合の全国組織へと急速に発展した。1921年<sup>(e)</sup>には名称を  4  と改めて、労資協調主義からしだいに階級闘争主義に方向を転換した。

問1 空欄  1  に入れる語句として最も適当なものはどれか。次の①～④のうち一つをマークせよ。  21

- ① 別子銅山      ② 生野銀山      ③ 高島炭鉱      ④ 足尾銅山

問2 空欄  2  に入れる語句として最も適当なものはどれか。次の①～④のうち一つをマークせよ。  22

- ① 労働組合法      ② 労働争議調停法  
③ 工場法      ④ 労働基準法

問3 空欄  に入れる人名として最も適当なものはどれか。次の①～④のうち一つをマークせよ。

- ① 鈴木文治      ② 堺利彦      ③ 幸徳秋水      ④ 山川均

問4 空欄  に入れる語句として最も適当なものはどれか。次の①～④のうち一つをマークせよ。

- ① 日本労働組合総評議会      ② 日本労働総同盟  
③ 日本労働組合総同盟      ④ 日本労働組合評議会

問5 空欄   に入れる人名の組み合わせとして最も適当なものはどれか。次の①～④のうち一つをマークせよ。

- ① ア＝賀川豊彦      イ＝片山潜  
② ア＝片山潜      イ＝杉山元治郎  
③ ア＝高野房太郎      イ＝片山潜  
④ ア＝賀川豊彦      イ＝高野房太郎

問6 下線部(a)に関連して、この問題を帝国議会で取り上げ、のちに谷中村に住み、解決に奔走した人物として最も適当なものはどれか。次の①～④のうち一つをマークせよ。

- ① 田中正造      ② 木下尚江      ③ 安部磯雄      ④ 尾崎行雄

問7 下線部(b)に伊藤博文を総裁として結成された政党として最も適当なものはどれか。次の①～④のうち一つをマークせよ。

- ① 立憲民政党      ② 立憲政友会      ③ 立憲改進黨      ④ 立憲自由党

問8 下線部(c)を根拠として1901年に解散を命じられた政党として最も適当なものはどれか。次の①～④のうち一つをマークせよ。

- ① 日本社会党      ② 日本共産党      ③ 社会民主党      ④ 労働農民党

問9 下線部(d)に民本主義を提唱する論文を『中央公論』誌上に発表した人物として最も適当なものはどれか。次の①～④のうち一つをマークせよ。 29

- ① 河上肇                      ② 吉野作造                      ③ 石橋湛山                      ④ 柳田国男

問10 下線部(e)に暗殺された首相として最も適当なものはどれか。次の①～④のうち一つをマークせよ。 30

- ① 高橋是清                      ② 犬養毅                      ③ 浜口雄幸                      ④ 原 敬

Ⅳ 次の文を読み、下の問い（問 1～10）に答えよ。

高度経済成長期<sup>(a)</sup>の1964年<sup>(b)</sup>には東京<sup>(c)</sup>で第18回オリンピック競技大会が開催され、  
1970年<sup>(d)</sup>には大阪で日本万国博覧会が開催された。経済面・文化面<sup>(e)</sup>での日本の発展を  
世界に示す、国家的イベントとなった。

問 1 下線部(a)における景気の上昇局面を年代の早い順に並べた場合、最も適切なものはどれか。次の①～④のうち一つをマークせよ。 31

- ① 神武景気 → 岩戸景気 → いざなぎ景気
- ② 神武景気 → いざなぎ景気 → 岩戸景気
- ③ 岩戸景気 → 神武景気 → いざなぎ景気
- ④ いざなぎ景気 → 岩戸景気 → 神武景気

問 2 同じく下線部(a)において家庭への普及が進み、1950年代後半には「三種の神器」と呼ばれた製品の組み合わせとして最も適切なものはどれか。次の①～④のうち一つをマークせよ。 32

- ① 白黒テレビ・電気洗濯機・クーラー
- ② 白黒テレビ・電気冷蔵庫・電気洗濯機
- ③ 電気冷蔵庫・電気洗濯機・自動車
- ④ 電気冷蔵庫・電気洗濯機・クーラー

問 3 同じく下線部(a)において「国民所得倍增計画」を打ち出した首相として最も適切なものはどれか。次の①～④のうち一つをマークせよ。 33

- ① 吉田茂                      ② 岸信介                      ③ 池田勇人                      ④ 田中角栄

問4 下線部(b)に起きたできごととして最も適当なものはどれか。次の①～④のうち一つをマークせよ。 34

- ① 青函トンネルの開業
- ② 東名高速道路の全通
- ③ 東海道新幹線の開通
- ④ 新東京国際空港（成田空港）の開港

問5 下線部(c)に関連して、1986年に東京サミットが開催されたときの首相として最も適当なものはどれか。次の①～④のうち一つをマークせよ。 35

- ① 細川護熙              ② 宮沢喜一              ③ 村山富市              ④ 中曽根康弘

問6 下線部(d)に起きたできごととして最も適当なものはどれか。次の①～④のうち一つをマークせよ。 36

- ① 減反政策の開始    ② 農業基本法の制定
- ③ 公害対策基本法の制定                                      ④ 第1次石油危機の発生

問7 同じく下線部(d)の翌年に、新たに設定された円とドルの交換レートとして最も適当なものはどれか。次の①～④のうち一つをマークせよ。 37

- ① 1ドル＝208円    ② 1ドル＝260円
- ③ 1ドル＝308円    ④ 1ドル＝360円

問8 同じく下線部(d)より後のできごととして最も適当なものはどれか。次の①～④のうち一つをマークせよ。 38

- ① 日中共同声明の発表
- ② 日ソ共同宣言の調印
- ③ 日韓基本条約の調印
- ④ 日米相互協力及び安全保障条約の調印

問9 下線部(e)に関連して、1965年に日本人でノーベル賞を受賞した人物として最も適当なものはどれか。次の①～④のうち一つをマークせよ。 

39
----

- ① 長岡半太郎      ② 北里柴三郎      ③ 湯川秀樹      ④ 朝永振一郎

問10 同じく下線部(e)に関連して、『点と線』などの社会派推理小説の作家として最も適当なものはどれか。次の①～④のうち一つをマークせよ。 

40
----

- ① 大岡昇平      ② 松本清張      ③ 司馬遼太郎      ④ 大江健三郎



# 世 界 史

( 解答番号  ～  )

I あゆみさん、まやさん、ますみさんはヨーロッパの文化を専攻する学生である。  
三人の会話文を読み、以下の問い（問1～20）に答えよ。

あゆみ 19世紀のヨーロッパ文化を特徴づける潮流として<sup>1</sup>ロマン主義がある。美術  
では「月をながめる2人の男」を描いたドイツの  や「キオス島の  
虐殺」で知られるフランスの  が有名だよ。

まや ほかに文学では、『ドイツ冬物語』の  や『大尉の娘』の  
 , 『草の葉』の  などがいるね。

ますみ ロマン主義芸術の特徴は、言語や伝統のなかに民族の精神が宿っていると  
考え、<sup>2</sup>ナショナリズムの風潮と結びついている点だね。

あゆみ 思想に関しては、この時代にはさまざまな<sup>3</sup>哲学者もいるよ。弁証法哲学を  
確立したドイツの  や、イギリスの  の社会進化論なども  
この時代に出てきたんだ。

まや 経済思想では、『資本論』を著したドイツの  が<sup>4</sup>資本主義経済を  
批判的に分析し、またイギリスの  は古典派経済学の発展に貢献し  
ているね。

ますみ 自然科学の分野でもさまざまな発展があったよ。とりわけ  がと  
なえた進化論は、<sup>5</sup>19世紀後半において宗教的な価値観をも揺るがす大きな衝  
撃を与えたんだ。

あゆみ ほかに、<sup>6</sup>無線電信や電話や映画など、現代社会には欠かせない技術の原  
型がつくられたのがこの時代だったよね。

まや 科学技術の分野では、<sup>7</sup>17世紀の科学革命によって基礎がつくれ、<sup>8</sup>18世紀  
以降には<sup>9</sup>産業革命と結びついて発展し、さらに19世紀に第2次産業革命がお  
こって<sup>10</sup>重化学工業や鉄鋼業などの産業の振興につながったんだね。

問1 a に最も適する語を次の①～⑥から一つ選んで、マークせよ。

1

- |               |        |
|---------------|--------|
| ① ロダン         | ② ゴーガン |
| ③ カスパー＝フリードリヒ | ④ ダヴィド |
| ⑤ ドラクロワ       | ⑥ ミレー  |

問2 b に最も適する語を次の①～⑥から一つ選んで、マークせよ。

2

- |               |        |
|---------------|--------|
| ① ロダン         | ② ゴーガン |
| ③ カスパー＝フリードリヒ | ④ ダヴィド |
| ⑤ ドラクロワ       | ⑥ ミレー  |

問3 c に最も適する語を次の①～④から一つ選んで、マークせよ。

3

- |       |       |       |        |
|-------|-------|-------|--------|
| ① ゲーテ | ② シラー | ③ ハイネ | ④ ワグナー |
|-------|-------|-------|--------|

問4 d に最も適する語を次の①～④から一つ選んで、マークせよ。

4

- |            |         |
|------------|---------|
| ① トウルゲーネフ  | ② プーシキン |
| ③ ドストエフスキー | ④ トルストイ |

問5 e に最も適する語を次の①～④から一つ選んで、マークせよ。

5

- |            |         |
|------------|---------|
| ① ホイットマン   | ② デイケンズ |
| ③ メアリ＝シェリー | ④ バイロン  |

問6 f に最も適する語を次の①～⑥から一つ選んで、マークせよ。

6

- |        |        |         |
|--------|--------|---------|
| ① ベンサム | ② ヘーゲル | ③ スペンサー |
| ④ デカルト | ⑤ ランケ  | ⑥ コント   |

問7 g に最も適する語を次の①～⑥から一つ選んで、マークせよ。

7

- |        |        |         |
|--------|--------|---------|
| ① ベンサム | ② ヘーゲル | ③ スペンサー |
| ④ デカルト | ⑤ ランケ  | ⑥ コント   |

問8 h に最も適する語を次の①～⑥から一つ選んで、マークせよ。

8

- |       |        |         |
|-------|--------|---------|
| ① ケネー | ② マルクス | ③ ヴェーバー |
| ④ リスト | ⑤ リカード | ⑥ ケインズ  |

問9 i に最も適する語を次の①～⑥から一つ選んで、マークせよ。

9

- |       |        |         |
|-------|--------|---------|
| ① ケネー | ② マルクス | ③ ヴェーバー |
| ④ リスト | ⑤ リカード | ⑥ ケインズ  |

問10 j に最も適する語を次の①～④から一つ選んで、マークせよ。

10

- |       |         |         |         |
|-------|---------|---------|---------|
| ① リンネ | ② ファラデー | ③ レントゲン | ④ ダーウィン |
|-------|---------|---------|---------|

問11 下線部1に関連して、ロマン主義とその前後の時代における芸術思潮について述べた文（ア）、（イ）の正誤の組み合わせとして正しいものはどれか、次の

①～④から一つ選んで、マークせよ。

11

（ア） 絵画の分野ではロマン主義が盛んになる前には印象派が栄えていた。

（イ） 文学の分野では古典主義に代わってロマン主義が盛んになった。

① （ア）－正 （イ）－正

② （ア）－正 （イ）－誤

③ （ア）－誤 （イ）－正

④ （ア）－誤 （イ）－誤

問12 下線部2に関連して、ナショナリズムと各地での出来事について述べた文として正しいものはどれか、最も適するものを次の①～④から一つ選んで、マークせよ。

12

① ムスタファ＝ケマルは抵抗運動を組織し、1923年にトルコ共和国を樹立した。

② レザー＝ハーンはパフレヴィー朝を開き、国名をイラクと改めた。

③ ウィーン会議の結果、ナショナリズムに基づくウィーン体制がつくられた。

④ イタリアでは国民国家の形成をめざしてブルシェンシャフト運動がおこった。

問13 下線部3に関連して、ヨーロッパの哲学者について述べた文として正しいものはどれか、最も適するものを次の①～④から一つ選んで、マークせよ。

13

① プロタゴラスは『国家』で哲人政治を理想とした。

② ニーチェは実証主義の哲学を確立した。

③ スコラ学者のアベラールは唯名論をとらえた。

④ ライプニッツは汎神論をとらえた。

問14 下線部4に関連して、資本主義陣営と共産主義陣営の対立である冷戦について述べた文（ア），（イ）の正誤の組み合わせとして正しいものはどれか，次の

①～④から一つ選んで，マークせよ。 14

（ア） トルーマンはギリシア・トルコの共産主義化を阻止する封じ込め政策を実施した。

（イ） スターリンの死後，フルシチョフはアイゼンハワーと会談した。

- |               |               |
|---------------|---------------|
| ① （ア）－正 （イ）－正 | ② （ア）－正 （イ）－誤 |
| ③ （ア）－誤 （イ）－正 | ④ （ア）－誤 （イ）－誤 |

問15 下線部5に関連して、19世紀後半の科学技術について述べた文として正しいものはどれか，最も適するものを次の①～④から一つ選んで，マークせよ。

15

- ① コッホが放射性物質を発見した。
- ② マイヤーが遺伝の法則を発見した。
- ③ ヘルムホルツがX線を発見した。
- ④ ノーベルがダイナマイトを発明した。

問16 下線部6に関連して、無線電信を開発したイタリアの技術者（1874～1937）はだれか，最も適するものを次の①～④から一つ選んで，マークせよ。

16

- |         |         |      |        |
|---------|---------|------|--------|
| ① エディソン | ② マルコーニ | ③ ベル | ④ モールス |
|---------|---------|------|--------|

問17 下線部7に関連して、17世紀の出来事はどれか，最も適するものを次の①～④から一つ選んで，マークせよ。 17

- ① イギリスがヴァージニア植民地を建設した。
- ② ユグノー戦争がおこった。
- ③ 北方戦争が終結した。
- ④ プロイセンが王国となった。

問18 下線部8に関連して、18世紀の出来事はどれか、最も適するものを次の①～

④から一つ選んで、マークせよ。 18

- ① アメリカ＝イギリス戦争がおこった。
- ② ピョートル1世が清との間にネルチンスク条約を結んだ。
- ③ オスマン帝国が第2次ウィーン包囲をおこなった。
- ④ コシュエシコ（コシチューシコ）が義勇軍を率いて蜂起した。

問19 下線部9に関連して、産業革命について述べた文として正しいものはどれか、

最も適するものを次の①～④から一つ選んで、マークせよ。 19

- ① ジョン＝ケイが水力紡績機を開発し綿糸の生産が増加した。
- ② スティーヴンソンが蒸気船を実用化した。
- ③ カートライトが蒸気機関を改良し、多方面への利用を可能にした。
- ④ ダービーがコークス製鉄法を開発した。

問20 下線部10に関連して、南北戦争後のアメリカで鉄鋼業の巨大トラストを形成した人物（1835～1919）はだれか、最も適するものを次の①～④から一つ選ん

で、マークせよ。 20

- |           |           |
|-----------|-----------|
| ① ロックフェラー | ② フォード    |
| ③ カーネギー   | ④ ロスチャイルド |

Ⅱ 次の文を読んで、下の問い（問1～14）に答えよ。

前7世紀～前5世紀ごろのインドでは、ヒンドゥスターン平原を流れる  
[a] 川流域に多数の都市国家が生まれた。そのなかでも [b] を滅ぼし  
た [c] が勢力を伸ばした。農業や商業の発展を背景に新しい<sup>1</sup>宗教も生まれた。  
前4世紀には [d] の遠征軍が [e] 川流域まで進出し、その後  
[f] が南アジア最初の統一王朝となる [g] 朝をたてた。[h] の  
死後衰退した [g] 朝ののち、1世紀にたてられた [i] 朝は、  
[j] のもとで最盛期を迎えた。一方、デカン高原で前1世紀ごろに成立した  
[k] 朝はインド洋<sup>2</sup>交易を盛んにおこなった。また、インド南端部では  
[l] 系の [m] 語による<sup>3</sup>文学が栄えた。

問1 [a] に最も適する語を次の①～⑥から一つ選んで、マークせよ。

21

- |         |                  |
|---------|------------------|
| ① インダス  | ② エーヤワディー（イラワディ） |
| ③ ガンジス  | ④ チャオプラヤ         |
| ⑤ ニジェール | ⑥ メコン            |

問2 [b] ・ [c] に最も適する語の組み合わせはどれか、次の①～⑥

から一つ選んで、マークせよ。

22

- |              |            |
|--------------|------------|
| ① b - アッカド王国 | c - コーサラ国  |
| ② b - アッカド王国 | c - マガダ国   |
| ③ b - コーサラ国  | c - アッカド王国 |
| ④ b - コーサラ国  | c - マガダ国   |
| ⑤ b - マガダ国   | c - アッカド王国 |
| ⑥ b - マガダ国   | c - コーサラ国  |

問3 d に最も適する語を次の①～④から一つ選んで、マークせよ。

23

- |            |           |
|------------|-----------|
| ① アレクサンドロス | ② ダレイオス1世 |
| ③ テミストクレス  | ④ ペリクレス   |

問4 e に最も適する語を次の①～⑥から一つ選んで、マークせよ。

24

- |         |                  |
|---------|------------------|
| ① インダス  | ② エーヤワディー（イラワディ） |
| ③ ガンジス  | ④ チャオプラヤ         |
| ⑤ ニジェール | ⑥ メコン            |

問5 f に最も適する語を次の①～⑧から一つ選んで、マークせよ。

25

- |            |             |
|------------|-------------|
| ① アショーカ王   | ② アッシェルバニパル |
| ③ アルダシール1世 | ④ カニシカ王     |
| ⑤ シャープール1世 | ⑥ チャンドラグプタ  |
| ⑦ ハルシャ王    | ⑧ ホスロー1世    |

問6 g に最も適する語を次の①～⑧から一つ選んで、マークせよ。

26

- |           |         |            |
|-----------|---------|------------|
| ① ウマイヤ    | ② クシャーナ | ③ サータヴァーハナ |
| ④ シャイレンドラ | ⑤ スコータイ | ⑥ チョーラ     |
| ⑦ パガン     | ⑧ マウリヤ  |            |



問7 h に最も適する語を次の①～⑧から一つ選んで、マークせよ。

27

- |              |             |
|--------------|-------------|
| ① アショーク王     | ② アッシェルバニパル |
| ③ アルダシール 1 世 | ④ カニシカ王     |
| ⑤ シャープール 1 世 | ⑥ チャンドラグプタ  |
| ⑦ ハルシャ王      | ⑧ ホスロー 1 世  |

問8 i に最も適する語を次の①～⑧から一つ選んで、マークせよ。

28

- |           |         |            |
|-----------|---------|------------|
| ① ウマイヤ    | ② クシャーナ | ③ サータヴァーハナ |
| ④ シャイレンドラ | ⑤ スコータイ | ⑥ チョーラ     |
| ⑦ パガン     | ⑧ マウリヤ  |            |

問9 j に最も適する語を次の①～⑧から一つ選んで、マークせよ。

29

- |              |             |
|--------------|-------------|
| ① アショーク王     | ② アッシェルバニパル |
| ③ アルダシール 1 世 | ④ カニシカ王     |
| ⑤ シャープール 1 世 | ⑥ チャンドラグプタ  |
| ⑦ ハルシャ王      | ⑧ ホスロー 1 世  |

問10 k に最も適する語を次の①～⑧から一つ選んで、マークせよ。

30

- |           |         |            |
|-----------|---------|------------|
| ① ウマイヤ    | ② クシャーナ | ③ サータヴァーハナ |
| ④ シャイレンドラ | ⑤ スコータイ | ⑥ チョーラ     |
| ⑦ パガン     | ⑧ マウリヤ  |            |

問11 l ・ m に最も適する語の組み合わせはどれか、次の①～⑥から一つ選んで、マークせよ。 31

- |   |   |   |       |   |   |         |
|---|---|---|-------|---|---|---------|
| ① | l | － | アルタイ  | m | － | サンスクリット |
| ② | l | － | アルタイ  | m | － | タミル     |
| ③ | l | － | ドラヴィダ | m | － | サンスクリット |
| ④ | l | － | ドラヴィダ | m | － | タミル     |
| ⑤ | l | － | バントゥー | m | － | サンスクリット |
| ⑥ | l | － | バントゥー | m | － | タミル     |

問12 下線部 1 に関連して、次の(1)～(3)に答えよ。

(1) ヴェーダを聖典とし、のちのヒンドゥー教の原型となった宗教はどれか、最も適するものを次の①～⑧から一つ選んで、マークせよ。 32

- |                |          |
|----------------|----------|
| ① シク教          | ② ジャイナ教  |
| ③ ゴロアスター教      | ④ チベット仏教 |
| ⑤ ネストリウス派キリスト教 | ⑥ バラモン教  |
| ⑦ マニ教          | ⑧ ユダヤ教   |

(2) 中国で祆教と呼ばれた宗教はどれか、最も適するものを次の①～⑧から一つ選んで、マークせよ。 33

- |                |          |
|----------------|----------|
| ① シク教          | ② ジャイナ教  |
| ③ ゴロアスター教      | ④ チベット仏教 |
| ⑤ ネストリウス派キリスト教 | ⑥ バラモン教  |
| ⑦ マニ教          | ⑧ ユダヤ教   |

(3) 3世紀に創始され、北アフリカや中央ユーラシアに広まった宗教はどれか、最も適するものを次の①～⑧から一つ選んで、マークせよ。 34

- |                |          |
|----------------|----------|
| ① シク教          | ② ジャイナ教  |
| ③ ゴロアスター教      | ④ チベット仏教 |
| ⑤ ネストリウス派キリスト教 | ⑥ バラモン教  |
| ⑦ マニ教          | ⑧ ユダヤ教   |

問13 下線部2に関連して、次の(1)～(3)に答えよ。

(1) 1～2世紀に書かれた紅海からインド洋にかけての交易や地理について記したものはどれか、最も適するものを次の①～④から一つ選んで、マークせよ。 35

- |                 |                  |
|-----------------|------------------|
| ① 『エリュトウラー海案内記』 | ② 『大唐西域記』        |
| ③ 『南海寄帰内法伝』     | ④ 『大旅行記（三大陸周遊記）』 |

(2) 交易に関する以下の文（ア）、（イ）の正誤の組み合わせとして正しいものはどれか、次の①～④から一つ選んで、マークせよ。 36

（ア）グプタ朝は突厥の侵入による西方交易の不振などで弱体化し、6世紀半ばに滅亡した。

（イ）ジャンク船は中国商人による南シナ海交易で活用された。

- |               |               |
|---------------|---------------|
| ① （ア）－正 （イ）－正 | ② （ア）－正 （イ）－誤 |
| ③ （ア）－誤 （イ）－正 | ④ （ア）－誤 （イ）－誤 |

(3) アナトリア方面との交易で繁栄したが、前7世紀に崩壊した国はどれか、最も適するものを次の①～④から一つ選んで、マークせよ。 37

- |           |         |
|-----------|---------|
| ① アッシリア王国 | ② クシュ王国 |
| ③ 新バビロニア  | ④ リディア  |

問14 下線部3に関連して、次の(1)～(3)に答えよ。

(1) カーリダーサが著した文学作品はどれか、最も適するものを次の①～④から一つ選んで、マークせよ。 38

- |              |             |
|--------------|-------------|
| ① 『シャクンタラー』  | ② 『マハーバーラタ』 |
| ③ 『バーブル=ナーマ』 | ④ 『ラーマーヤナ』  |

(2) 白話（口語）文学を提唱したのはだれか、最も適するものを次の①～④から一つ選んで、マークせよ。 39

- |       |       |       |       |
|-------|-------|-------|-------|
| ① 胡 適 | ② 司馬光 | ③ 錢大昕 | ④ 韓 愈 |
|-------|-------|-------|-------|

(3) 『旧約聖書』やギリシア神話に影響を与えた作品はどれか、最も適するものを次の①～④から一つ選んで、マークせよ。 40

- |             |               |
|-------------|---------------|
| ① 『対比列伝』    | ② 『ギルガメシュ叙事詩』 |
| ③ 『シャー=ナーメ』 | ④ 『千夜一夜物語』    |

# 政治・経済

(解答番号 1 ~ 40)

I 次の文章を読み、下の問いに答えよ。

「1」とは、一般に、全ての権力に対する法の優越を認める考え方であり、国内において公正で公平な社会に不可欠な基礎であると同時に、国際社会の平和と安定に資するものであり、友好的で平等な国家間関係から成る国際秩序の基盤となっている。国際社会においては、1の下、力による支配を許さず、全ての国が<sup>(a)</sup>国際法を誠実に遵守しなければならない、力又は威圧による一方的な現状変更の試みは決して認められてはならない。日本は、1の強化を外交政策の柱の一つとして推進し、様々な分野におけるルール作りとその適切な実施に尽力している。

(中略)

日本は、国際法の誠実な遵守に努めつつ、国際司法機関を通じた紛争の平和的解決を促進するため、国際連合 (国連) の主要な司法機関である国際司法裁判所 (ICJ) の強制管轄権<sup>(b)</sup>を受諾しているほか、人材面・財政面の協力<sup>(c)</sup>を含め、国際社会における1の確立に向けた建設的な協力を行っている。例えば、日本は<sup>(d)</sup>国際刑事裁判所 (ICC)、常設仲裁裁判所 (PCA) への最大の財政貢献国 (PCA については、2022年12月末時点) であり、人材面では、2022年現在、ICJ、<sup>(e)</sup>国際海洋法裁判所 (ITLOS)、ICC に日本人裁判官を輩出し、国際裁判所の実効性と普遍性の向上に努めている。また、将来的に国際裁判で活躍する人材の育成のために、「国際裁判機関等インターンシップ支援事業」を通じて、国際裁判機関などでインターンシップを行う日本人を積極的に支援している。

外務省『外交青書2023』第3章6より抜粋、一部省略・改変

問1 文中の  に入れるのに最も適当なものを、次の①～④のうちから一つ選びマークせよ。

- ① 法の支配
- ② 人の支配
- ③ 民主主義
- ④ コモン・ロー

問2 下線部①の国際法に関連して、以下の(1)～(3)に答えよ。

(1) 「国際法の父」と呼ばれる人物として最も適当なものを、次の①～④のうちから一つ選びマークせよ。

- ① ボーダン
- ② グロティウス
- ③ ローズベルト
- ④ エドワード・コーク

(2) 国際法に関する記述として最も適当なものを、次の①～④のうちから一つ選びマークせよ。

- ① 各国は主権を有し、対等な立場で外交や貿易を行うが、国連は国家における中央政府のように、各主権国家を統率する。
- ② 国際法は、主権国家間の条約のみがその構成要素である。
- ③ 2023年末時点で、戦争を違法とする条約が締結されたことはない。
- ④ 公海自由の原則は、もともと国際慣習法上の原則であったが、後に条約として成文化されている。

(3) 条約に関する記述として最も適当なものを、次の①～④のうちから一つ選びマークせよ。

- ① 1948年採択のジェノサイド条約を、2023年末の時点で日本は批准していない。
- ② 1979年採択の女子差別撤廃条約を、2023年末の時点で日本は批准していない。
- ③ 1989年採択の子どもの権利条約を、日本は2000年に批准している。
- ④ 1989年採択の死刑廃止条約を、日本は1991年に批准している。

問3 下線部⑥の国際連合に関連して、以下の(1)～(3)に答えよ。

(1) 国連憲章が採択された会議が開催された都市として最も適当なものを、次の①～④のうちから一つ選びマークせよ。

- ① ニューヨーク                      ② サンフランシスコ  
③ ジュネーブ                        ④ ハーグ

(2) 国連の平和維持活動に関する記述として**適当でないもの**を、次の①～④のうちから一つ選びマークせよ。

- ① 国連平和維持活動（PKO）は、国連憲章に規定されているものではない。
- ② 国連憲章が定める国連軍は、2023年末の時点で組織されたことがない。
- ③ イラク湾岸戦争に介入した多国籍軍は、国連の指揮命令下で活動した。
- ④ 日本の自衛隊は、PKO協力法により、原則としてPKOに参加することができる。

(3) 国際連合の設立と運営原則が取り決められた会合として最も適当なものを、  
次の①～④のうちから一つ選びマークせよ。

- ① マルタ会談  
② パグウォッシュ会議  
③ ヤルタ会談  
④ ジュネーブ四巨頭会談

問 4 下線部㉔の国際司法裁判所に関する記述として適当でないものを、次の①～④のうちから一つ選びマークせよ。

- ① 国際連盟には、常設国際司法裁判所があった。
- ② 国際司法裁判所は、1945年に国際連合の主要機関の一つとして設立された。
- ③ 国際刑事裁判所が個人を裁くのに対し、国際司法裁判所は国家間の紛争を審理する。
- ④ 国際司法裁判所は、一方当事国の提訴により、他方当事国が同意しなくてもその紛争を解決することができる。

問5 下線部㉔の国際刑事裁判所に関する記述として最も適切なものを，次の①～

④のうちから一つ選びマークせよ。

9

- ① 日本は2007年に加盟した。
- ② 主要国の中ではアメリカや中国が加盟している。
- ③ 設立年は1945年である。
- ④ 設立は国連憲章に基づく。

問6 下線部㉕の国際海洋法裁判所に関連して，国連海洋法条約に関する記述として適切なでないものを，次の①～④のうちから一つ選びマークせよ。

10

- ① 国際海洋法裁判所は1996年に設置された。
- ② 日本は1996年に批准した。
- ③ 領海は基線から12海里までとされる。
- ④ 排他的経済水域は基線から300海里までとされる。



## Ⅱ 次の文章を読み、下の問いに答えよ。

自由権とは、11 の総称であり、精神的自由権、身体的自由権、経済的自由権に大別される。このうち、精神的自由権は、人の精神・内面の自由とともに、自己の思想を社会に伝え、働きかける自由を保障するものである。日本国憲法には、精神的自由権について、思想・良心の自由（第19条）、A（第20条）、集会・結社・表現の自由および検閲の禁止・通信の秘密（第21条）、B（第23条）が定められている。

一方、経済的自由権については、居住・移転および職業選択の自由（第22条第1項）、外国移住および国籍離脱の自由（同条第2項）、財産権の保障（第29条第1項）が定められているが、特に、居住・移転および職業選択の自由と財産権については、公共の福祉により制限されることが明記されている。経済的自由は、個人の経済的自立にとって重要な意味を持つが、その反面、弊害を伴うこともある。例えば、経済が発展するに連れて、企業のなかには市場に対する支配力を持つものが現れるようになった。また、消費者は、企業との関係で経済的に弱い立場に置かれがちである。無制限の経済的自由がかえって経済的自由の重要性を損なわないよう、国家の積極的介入が求められる。

問1 文中の11に入れるのに最も適当なものを、次の①～④のうちから一つ選びマークせよ。11

- ① 国家の意思決定に参加する権利
- ② 国家権力の不当な干渉や制約を排除する権利
- ③ 国家に積極的な施策を要求する権利
- ④ 権利が侵害されたときに救済を求めて裁判を受ける権利

問2 文中の A と B に入る用語の組み合わせとして最も適切なものを、次の①～④のうちから一つ選びマークせよ。 12

- ① A 信教の自由            B 両性の平等
- ② A 法の下での平等       B 学問の自由
- ③ A 学問の自由            B 法の下での平等
- ④ A 信教の自由            B 学問の自由

問3 下線部①の思想・良心の自由に関する記述として最も適切なものを、次の①～④のうちから一つ選びマークせよ。 13

- ① 個人の内面にかかわる内心の自由である。
- ② ドイツ憲法（1949年）は、いかなる条件下でも他人を殺すことはしないとの信条を持つ人について、兵役の義務を免除する「良心的兵役拒否」を基本的人権として保障していない。
- ③ 沈黙の自由を含まない。
- ④ 最高裁判所は1973年、第19条も私人間に直接的に適用されるとした。

問4 下線部②の第21条に関連して、以下の(1)と(2)に答えよ。

(1) 第21条の規定内容に関する記述として**適当でない**ものを、次の①～④のうちから一つ選びマークせよ。 14

- ① 表現の自由には、取材の自由・報道の自由も含まれる。
- ② 表現の自由には、知る権利も含まれる。
- ③ 薬物や銃器に関連する犯罪捜査のためであっても通信傍受は認められていない。
- ④ 検閲とは、行政権が著作物の内容を刊行前に審査し、不適当と認めるものの刊行を禁じる措置のことである。

(2) 集会・結社・表現の自由の制限に関する記述として最も適切なものを、次の①～④のうちから一つ選びマークせよ。 15

- ① 最高裁判所は1957年、わいせつ文書頒布等罪を定める刑法第175条を違憲と判断した。
- ② 最高裁判所は1997年、教科書検定を、検閲に当たり違憲と判断した。
- ③ 2016年、ヘイトスピーチ解消法が制定された。
- ④ 2022年、他人を侮辱する行為を処罰する侮辱罪の厳罰化は見送られた。

問5 下線部㉔の第22条第1項に関連して、居住・移転の自由と職業選択の自由とに関する記述として最も適切なものを、次の①～④のうちから一つ選びマークせよ。 16

- ① 選択した職業を実際に行う営業の自由は含まれる。
- ② 重商主義の発達を側面から支えてきた。
- ③ 大日本帝国憲法では一切触れられていなかった。
- ④ もっぱら経済的自由に関するものであり、身体的自由の意味は含まれない。

問6 下線部㉕の財産権の保障に関連して、損失補償（第29条第3項）の意味として最も適切なものを、次の①～④のうちから一つ選びマークせよ。 17

- ① 公務員の不法行為に対して損害の賠償を求めることができるしくみ。
- ② 不当な抑留・拘禁に対して補償を求めることができるしくみ。
- ③ 社会全体の利益のために特別の犠牲を払った個人や企業に対して、公平の観点から、失った財産の価値を金銭で補償するためのしくみ。
- ④ 不法行為を行った加害者に損害を賠償させるしくみ。

問7 下線部㉔の公共の福祉に関連して、経済的自由の制限に関する記述として最も適当なものを、次の①～④のうちから一つ選びマークせよ。 18

- ① 二重の基準論によると、経済的自由は精神的自由と比べて公共の福祉による制限を広く受ける。
- ② 最高裁判所は1975年、薬事法の薬局間距離制限規定を合憲と判断した。
- ③ 最高裁判所は1989年、公衆浴場の距離制限を違憲と判断した。
- ④ 最高裁判所は1987年、森林法による共有林の分割請求の制限を合憲と判断した。

問8 下線部㉕の市場に対する支配力に関連して、それへの対処に関する記述として最も適当なものを、次の①～④のうちから一つ選びマークせよ。 19

- ① 独占禁止法の運用を担う行政機関として、公正取引委員会が設けられている。
- ② 公正取引委員会は、経済産業省の外局である。
- ③ 独占禁止法で禁じられたカルテルなどに対しては、排除措置しかとることができない。
- ④ 2023年時点で、持株会社の設立は、独占禁止法により原則、禁止されている。

問9 下線部㉖の消費者に関連して、消費者政策に関する記述として最も適当なものを、次の①～④のうちから一つ選びマークせよ。 20

- ① 警察庁が消費者行政を一元的に担っている。
- ② 消費者は、訪問販売などで契約前に限りクーリング・オフを行うことができる。
- ③ 2006年、認定を受けた消費者団体が被害者の代理として訴訟を起こすことができる消費者団体訴訟制度が導入された。
- ④ 消費者基本法は2004年、消費者保護基本法に改められた。

### Ⅲ 次の文章を読み、下の問いに答えよ。

租税は、国に納める<sup>①</sup>国税と、<sup>②</sup>地方公共団体に納める<sup>③</sup>地方税に区分される。地方税はさらに（都）道府県税と市（区）町村税に区分される。また、所得税のように納税者と法律上の税負担者が同じである<sup>④</sup>直接税と、<sup>⑤</sup>消費税のように納税者と法律上の税負担者が別である間接税とに区分できる。

政府は、歳出を租税でまかなうことができない場合、<sup>⑥</sup>国債を発行する。しかし、近年、国債残高が巨額になり、国債の利払いも大きな財政負担となっている。政府は特殊法人改革など歳出削減を行う一方で、消費税の税率の引き上げを中心とした<sup>⑦</sup>税制改革を行い歳入増加に取り組んでいる。政府はこうした税制改革によって、<sup>⑧</sup>プライマリー・バランスを黒字化することを目標としている。

問1 下線部①の租税に関連して、1949年に日本の税制改革に関する勧告を出し、戦前の間接税を中心とする税制から直接税を中心とする税制に転換させたアメリカの税制調査団の団長として最も適当なものを、次の①～④のうちから一つ選びマークせよ。 21

- |        |          |
|--------|----------|
| ① ドッジ  | ② フリードマン |
| ③ シェウブ | ④ プレビッシュ |

問2 下線部②の国税に関連して、日本の2023年度当初予算の歳入に占める割合が高い順に以下のA～Cを並べたものとして最も適当なものを、次の①～⑥のうちから一つ選びマークせよ。 22

A 所得税                      B 法人税                      C 消費税

- |             |             |
|-------------|-------------|
| ① A → B → C | ② A → C → B |
| ③ B → A → C | ④ B → C → A |
| ⑤ C → A → B | ⑥ C → B → A |

問3 下線部㉔の地方公共団体に関連して、次の(1)と(2)に答えよ。

(1) 日本の地方財政に関する記述として最も適当なものを、次の①～④のうちから一つ選びマークせよ。 23

- ① 2018年度の大阪府の財政力指数は1.0以上である。
- ② 2021年度に大阪府は地方交付税を受け取っていない。
- ③ 「三位一体の改革」では国庫支出金の削減が行われた。
- ④ 地方財政はかつて歳入の3割程度を国からの資金に依存していることから「三割自治」といわれた。

(2) 地方公共団体が行った住民投票で、賛成が反対を上回ったケースとして最も適当なものを、次の①～④のうちから一つ選びマークせよ。 24

- ① 長崎県小長井町（1999年7月） － 採石場新設・拡張
- ② 徳島県徳島市（2000年1月） － 吉野川可動堰建設
- ③ 新潟県刈羽村（2001年5月） － プルサーマル計画導入
- ④ 大阪府大阪市（2020年11月） － 大阪市における特別区の設置

問4 下線部㉕の地方税に関連して、日本の地方税に関する記述として最も適当なものを、次の①～④のうちから一つ選びマークせよ。 25

- ① 印紙税は（都）道府県税である。
- ② 入湯税は（都）道府県税である。
- ③ 固定資産税は市（区）町村税である。
- ④ ゴルフ場利用税は市（区）町村税である。

問5 下線部㉔の直接税に関連して、日本の直接税について述べた以下の文(ア)と(イ)の正誤の組み合わせとして最も適当なものを、次の①～④のうちから一つ選びマークせよ。 26

(ア) 2023年度当初予算における所得税による税収は、1990年度と比較して増加している。

(イ) 2023年度当初予算における法人税による税収は、1990年度と比較して増加している。

① (ア)－正 (イ)－正

② (ア)－正 (イ)－誤

③ (ア)－誤 (イ)－正

④ (ア)－誤 (イ)－誤

問6 下線部㉕の消費税に関する記述として最も適当なものを、次の①～④のうちから一つ選びマークせよ。 27

① 日本では、1989年に税率5%で導入された。

② 日本では、2014年に税率が10%に引き上げられた。

③ 日本では、2019年に酒類や外食を除く飲食料品などについて軽減税率が導入された。

④ 消費税は垂直的公平を実現する役割を担っている。

問7 下線部㉖の国債に関連して、日本の国債に関する記述として最も適当なものを、次の①～④のうちから一つ選びマークせよ。 28

① 阪神・淡路大震災からの復興に必要な財源を確保するために、2011年度に復興債が発行された。

② 2023年度当初予算時点での国債依存度は50%を超えている。

③ 2023年度当初予算時点での国債残高は約1,068兆円である。

④ 2023年度当初予算時点での建設国債残高は特例国債残高より大きい。

問 8 下線部①の特殊法人改革に関連して、小泉純一郎内閣のときに民営化された特殊法人として最も適当なものを、次の①～④のうちから一つ選びマークせよ。

29

- |            |          |
|------------|----------|
| ① 日本専売公社   | ② 日本道路公団 |
| ③ 日本電信電話公社 | ④ 日本国有鉄道 |

問 9 下線部①のプライマリー・バランスについて述べた以下の文(ア)と(イ)の正誤の組み合わせとして最も適当なものを、次の①～④のうちから一つ選びマークせよ。

30

- (ア) 税収が国債費を除いた歳出よりも多ければプライマリー・バランスは黒字となる。
- (イ) 2020年の日本におけるプライマリー・バランスの赤字（対 GDP 比）は、アメリカより大きい。

- |               |               |
|---------------|---------------|
| ① (ア)－正 (イ)－正 | ② (ア)－正 (イ)－誤 |
| ③ (ア)－誤 (イ)－正 | ④ (ア)－誤 (イ)－誤 |



#### Ⅳ 次の文章を読み、下の問いに答えよ。

1950年代半ばから70年代初めにかけて、日本は高度経済成長を続け、実質<sup>(a)</sup>GNPの成長率は年平均で約10%を記録した。またこの期間に、国際社会への日本の復帰も進み、1963年には国際収支の悪化を理由に  制限をすることができないGATT11条国、1964年には同様の理由で  制限をすることができないIMF 8 条国へ移行したほか、同じく1964年には  加盟も果たした。

日本が<sup>(b)</sup>経常収支で大幅な黒字を計上するようになると、様々な国との貿易<sup>(c)</sup>摩擦も表面化しはじめ、<sup>(d)</sup>アメリカでは急増した日本製品の輸入<sup>(e)</sup>が問題となった。また、日本市場<sup>(f)</sup>の閉鎖性、独自性も指摘されるようになり、1989年からの日米構造協議や、1993年からの日米包括  協議では、アメリカの要求は日本の市場開放<sup>(g)</sup>のみならず経済構造の改革にまで及んだ。

問1 文中の  と  に入れるのに最も適当なものを、次の①～④のうちからそれぞれ一つ選びマークせよ。

- |                                 |            |           |
|---------------------------------|------------|-----------|
| <input type="text" value="31"/> | ① 国際連合     | ② 独立国家共同体 |
|                                 | ③ 経済協力開発機構 | ④ 世界銀行    |
| <input type="text" value="32"/> | ① 貿易       | ② 経済      |
|                                 | ③ 地位       | ④ 通商      |

問2 文中の  と  に入れるのに最も適当な用語の組み合わせを、次の①～⑥のうちから一つ選びマークせよ。

- |        |      |        |      |
|--------|------|--------|------|
| ① A 為替 | B 輸入 | ② A 為替 | B 財政 |
| ③ A 財政 | B 為替 | ④ A 財政 | B 輸入 |
| ⑤ A 輸入 | B 為替 | ⑥ A 輸入 | B 財政 |

問3 下線部④のGNPに関連して、GNPとGNIに関する記述として最も適切なものを、次の①～④のうちから一つ選びマークせよ。 34

- ① GNIは、国内にいるすべての外国人の所得を含む。
- ② GNIから固定資本減耗を控除したものを、NNPという。
- ③ GNPは、GDPを支出面からとらえたものである。
- ④ GNIは、ストックの指標である。

問4 下線部⑥の経常収支に関する記述として最も適切なものを、次の①～④のうちから一つ選びマークせよ。 35

- ① 経常収支がプラスになると、対外純負債が増加する。
- ② 2011年の東日本大震災以降、日本の経常収支は赤字が続いている。
- ③ 現在の日本の国際収支体系において、経常収支には外貨準備が含まれる。
- ④ 現在の日本の国際収支体系において、経常収支にはサービス収支が含まれる。

問5 下線部③の貿易に関連して、日米間の貿易に関する記述として最も適切なものを、次の①～④のうちから一つ選びマークせよ。 36

- ① 1975年の1ドルブラウス事件から、繊維製品の日米貿易摩擦が始まった。
- ② 日米間の貿易摩擦に対し、日本側から輸出自主規制が行われたことはない。
- ③ 半導体産業では、日米間の貿易摩擦が生じたことはない。
- ④ 2020年、日米貿易協定が発効した。

問6 下線部④のアメリカに関する記述として最も適切なものを、次の①～④のうちから一つ選びマークせよ。 37

- ① 1980年代のアメリカの経常収支赤字と財政赤字は、双子の赤字と呼ばれた。
- ② 2017年に就任したオバマ大統領は、「アメリカ第一主義」を唱えて、保護主義的な政策や外交を行った。
- ③ 2020年、USMCA は NAFTA へと名称が変えられて発効した。
- ④ IT 分野の市場で特に大きな力を持つアメリカのグーグル、アップル、フェイスニュース、アマゾン、その頭文字から GAFA と呼ばれる。

問7 下線部③の輸入に関連して、緊急輸入制限措置の名称として最も適切なものを、次の①～④のうちから一つ選びマークせよ。 38

- ① セーフガード
- ② トレードオフ
- ③ ディスクロージャー
- ④ ダンピング

問8 下線部⑥の市場に関連して、株式市場に関する記述として最も適切なものを、次の①～④のうちから一つ選びマークせよ。 39

- ① 株式市場は、コール市場とともに短期金融市場に分類される。
- ② 企業が株式発行によって調達した資本を、他人資本という。
- ③ 証券取引所が定めた一定の基準を満たした上で、株式を市場（証券取引所）で売買できるようにすることを、上場という。
- ④ 株価の主要指標として、全銘柄の時価総額を、基準年を100として示した日経平均株価（TOPIX）がある。

問 9 下線部㊸の日本の市場開放に関連して，日本の農産物の市場開放に関する記述として最も適当なものを，次の①～④のうちから一つ選びマークせよ。

40

- ① 1995年に決められた，コメの国内消費量の一定割合を輸入することを，ナショナル・ミニマムという。
- ② 1999年に，コメの全面関税化が実施された。
- ③ 2015年に大筋合意した TPP では，日本の農産物のすべての関税が撤廃されることになった。
- ④ 2023年時点で，牛肉・オレンジの輸入は自由化されていない。

# 数 学

(解答番号  $^1 \square \sim ^{53} \square$ )

## 解答上の注意

- 1) 問題の文中の  $^1 \square$ ,  $^2 \square$  などの一つ一つには、特に指示のない限り、それぞれ 0 から 9 までの数字が一つ入る。  $\square$  の左上の数字は「解答番号」である。
- 2) 2 個並んだ  $\square \square$  は 2 桁(けた)の正の整数を表す。3 個以上並んだ場合も同様である。
- 3)  $\square$  の前に「-」がついている場合は負の整数を表す。例えば、 $-\square$  は 1 桁の負の整数を表し、 $-\square\square$  は 2 桁の負の整数を表す。
- 4)  $\frac{\square}{\square}$ ,  $\frac{\square}{\square\square}$ ,  $-\frac{\square}{\square}$  などは分数を表す。分数形で解答する場合は、既約分数(それ以上約分できない分数)で答えること。
- 5) 根号を含む形で解答する場合は、根号の中に現れる自然数が最小となる形で答えること。例えば、 $\square\sqrt{\square}$  に  $4\sqrt{2}$  と答えるところを、 $2\sqrt{8}$  のように答えてはならない。
- 6) 選択肢から一つを選んで、番号を答える場合もある。

I  $a, p, q$  は定数とし、 $f(x) = a(x-p)^2 + q$  は  $x$  についての関数とする。O を原点とする座標平面上で関数  $y = f(x)$  のグラフを考える。

- (1) 関数  $y = f(x)$  のグラフが 3 点  $(-2, 9)$ ,  $(1, -3)$ ,  $(4, 9)$  を通るとする。このとき

$$a = \frac{1\boxed{\phantom{00}}}{2\boxed{\phantom{00}}}, \quad p = \boxed{\phantom{00}}, \quad q = -\boxed{\phantom{00}}$$

である。また、関数  $y = f(x)$  のグラフと  $x$  軸の交点の  $x$  座標のうち正の値となるものは  $\frac{5\boxed{\phantom{00}}}{6\boxed{\phantom{00}}}$  である。

- (2)  $a = 2$ ,  $p = 5$ ,  $q < 0$  とし、関数  $y = f(x)$  のグラフと  $x$  軸の交点のうち  $x$  座標の小さい方を P とする。さらに、点 P の  $x$  座標が正の整数となるような  $q$  の値のうち 2 番目に大きいものを  $\alpha$  とおく。このとき、 $\alpha = -\frac{7\boxed{\phantom{00}}}{8\boxed{\phantom{00}}9\boxed{\phantom{00}}}$  であり、曲線  $y = 2(x-5)^2 + \alpha$  と  $x$  軸で囲まれた図形の面積は  $\frac{10\boxed{\phantom{00}}}{10\boxed{\phantom{00}}}$  である。

- (3)  $a > 0$ ,  $p > 0$ ,  $q = -3$  とし、関数  $y = f(x)$  のグラフと  $x$  軸の交点のうち  $x$  座標の小さい方を Q とする。ただし、Q は原点 O と異なる点とする。さらに、関数  $y = f(x)$  のグラフ上の点 Q における接線を  $\ell$  とし、 $\ell$  と  $y$  軸の交点を R とする。このとき、 $\triangle OQR$  が直角二等辺三角形となり、かつ  $\triangle OQR$  の面積が 2025 となるならば

$$a = \frac{11\boxed{\phantom{00}}}{12\boxed{\phantom{00}}13\boxed{\phantom{00}}}, \quad p = \boxed{\phantom{00}}^{14} + \boxed{\phantom{00}}^{15}\boxed{\phantom{00}}^{16}\sqrt{17\boxed{\phantom{00}}}$$

である。

(計 算 用 紙)

- II 四面体 OABC において、辺 OA を 1 : 3 に内分する点を P、辺 BC を 4 : 3 に内分する点を Q、線分 PQ を 5 : 2 に内分する点を R、直線 BR と平面 OAC との交点を S とする。 $\overrightarrow{OA} = \vec{a}$ 、 $\overrightarrow{OB} = \vec{b}$ 、 $\overrightarrow{OC} = \vec{c}$  とする。

(1)  $\overrightarrow{OQ} = \frac{18 \square}{19 \square} \vec{b} + \frac{20 \square}{21 \square} \vec{c}$  である。

- (2)  $p, q, r$  を実数とし、 $\overrightarrow{OR} = p\vec{a} + q\vec{b} + r\vec{c}$  と表す。このとき、

$q = \frac{22 \square}{24 \square} \frac{23 \square}{25 \square}$  である。

- (3)  $s, t, u$  を実数とし、 $\overrightarrow{BS} = s\vec{a} + t\vec{b} + u\vec{c}$  と表す。このとき、 $t = -\frac{26 \square}{\square}$ 、

$\overrightarrow{BS} = \frac{27 \square}{29 \square} \frac{28 \square}{30 \square} \overrightarrow{BR}$  であり、 $s = \frac{31 \square}{32 \square} \frac{\square}{33 \square}$  である。

- (4) 直線 AR と平面 OBC との交点を T とする。四面体 OABR の体積を  $V$ 、四面体 ORBT の体積を  $W$  とする。このとき

$$\frac{V}{W} = \frac{34 \square}{\square} \frac{35 \square}{\square}$$

である。



(計 算 用 紙)

III A, B, C, D, E, F, G の 7 人のうち, A, B, C の 3 人は大人で, D, E, F, G の 4 人は子どもである。

(1) 7 人から 4 人を選んで 1 列に並べることを考える。

(i) 並べ方は全部で  ${}^{36}\square {}^{37}\square {}^{38}\square$  通りある。

(ii) 両端が大人となるような並べ方は全部で  ${}^{39}\square {}^{40}\square {}^{41}\square$  通りある。

(iii) 大人と子どもが交互に並ぶような並べ方は全部で  ${}^{42}\square {}^{43}\square {}^{44}\square$  通りある。

(2) 7 人全員が輪の形に並ぶことを考える。

(i) A と B が隣り合わないような並び方は全部で  ${}^{45}\square {}^{46}\square {}^{47}\square$  通りある。

(ii) A と B が隣り合わず, かつ D と E が隣り合わないような並び方は全部で  ${}^{48}\square {}^{49}\square {}^{50}\square$  通りある。

(iii) どの 2 人の大人も隣り合わないような並び方は全部で  ${}^{51}\square {}^{52}\square {}^{53}\square$  通りある。

(計 算 用 紙)