

**地 理**( 解答番号  ～  )

I 次の図と文を見て，下の問い（問1～13）に答えよ。なお，図中のa～nはそれが位置する国の首都を示している。



問1 古期造山帯に位置する都市の組合せとして最も適当なものを，次の①～④のうちから一つ選びマークせよ。

① a・b

② c・d

③ i・j

④ k・l

問2 東京都の緯度に最も近い緯度に位置する都市として最も適当なものを、次の

①～④のうちから一つ選びマークせよ。

2

① e

② h

③ m

④ n

問3 f・gとそこに見られる地形の組合せとして最も適当なものを、次の①～④

のうちから一つ選びマークせよ。

3

① f：鳥趾状三角州 g：V字谷

② f：鳥趾状三角州 g：フィヨルド

③ f：ポルダー g：V字谷

④ f：ポルダー g：フィヨルド

問4 ア・イの組合せとして最も適当なものを、次の①～④のうちから一つ選び

マークせよ。

4

① ア：アペニン山脈 イ：カルパティア山脈

② ア：アペニン山脈 イ：ディナルアルプス山脈

③ ア：ピレネー山脈 イ：カルパティア山脈

④ ア：ピレネー山脈 イ：ディナルアルプス山脈

問5 ウ～キのうち、国際河川に該当する組合せとして最も適当なものを、次の

①～④のうちから一つ選びマークせよ。

5

① ウ・エ

② エ・オ

③ オ・カ

④ カ・キ

問6 エ・キについて述べた次の文の下線部(1)(2)の正誤について最も適当なものを、  
下の①～④のうちから一つ選びマークせよ。 6

ヨーロッパを流れる主要な河川で、ともにシュヴァルツヴァルトやアルプス  
山脈に源を発する。エは西ヨーロッパを北に流れ、9か国もの流域に恵みを与  
え北海に注ぐ。キは10か国以上を流れながら黒海に注ぐ。古くから内陸水路と  
して利用され、本流の河川沿いには多くの歴史的な街並みや城郭が形成されて  
きた。  
A

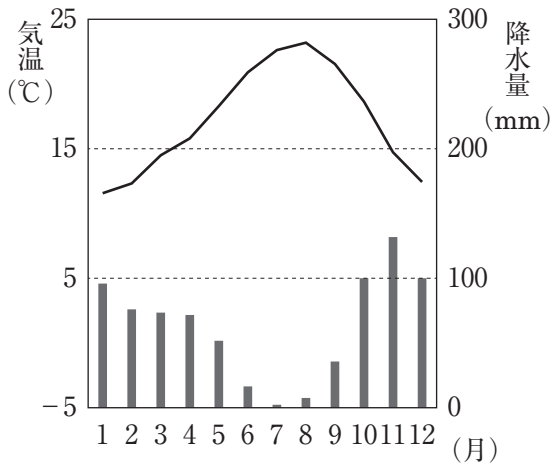
- |                |                  |
|----------------|------------------|
| ① (1)のみ正しい     | ② (2)のみ正しい       |
| ③ (1)・(2)とも正しい | ④ (1)・(2)とも正しくない |

問7 問6の下線部Aに該当する都市として最も適当なものを、次の①～④のうち  
から一つ選びマークせよ。 7

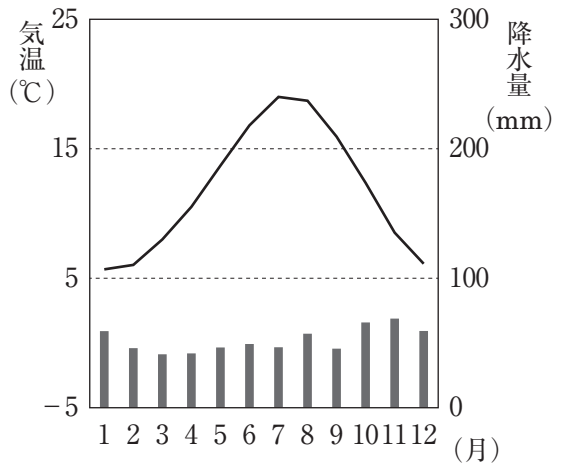
- |         |      |         |         |
|---------|------|---------|---------|
| ① ジュネーブ | ② パリ | ③ ハンブルク | ④ ブダペスト |
|---------|------|---------|---------|

問8 次の①～④の雨温図は a・c・k・l のいずれかのものである。k の雨温図として最も適当なものを、①～④のうちから一つ選びマークせよ。

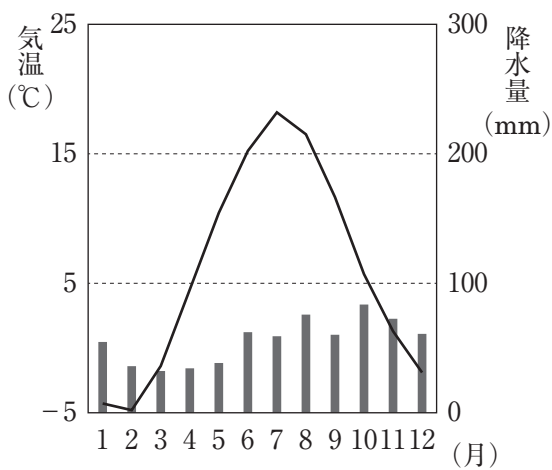
8



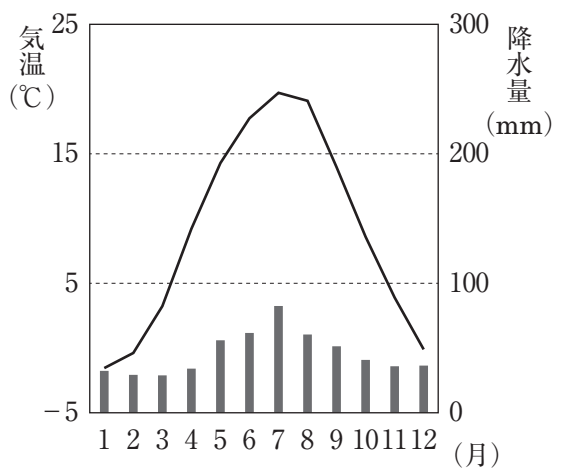
①



②



③



④

問9 d・hで見られる農業について述べた文として最も適当なものを，次の①～

④のうちから一つ選びマークせよ。 9

- ① dの近郊では，ケスタ地形の急な傾斜地を利用して，果樹栽培と家畜の飼育を組合せた混合農業がさかんである。
- ② dの近郊では，地中海式農業が行われており，夏の乾燥に強いオリーブ・ぶどうの栽培や，冬の降雨を利用した小麦の栽培が行われている。
- ③ hでは，干拓地上で花き・野菜・畜産物・乳製品などの農産物を効率的に生産し，おもにEU市場に輸出する高収益な園芸農業が行われている。
- ④ hは，氷河の侵食でやせた土地であるが，その条件下でも生育する牧草の栽培により牛や山羊を育て，乳製品を生産する酪農がさかんである。

問10 bを含む工業地域の呼称として最も適当なものを，次の①～④のうちから一つ選びマークせよ。 10

- ① 青いバナナ
- ② 重工業三角地帯
- ③ ヨーロッパのサンベルト
- ④ ラストベルト

問11 b・c・d・hとそこで伝統的に生産されてきた産物の組合せとして最も適当なものを，次の①～④のうちから一つ選びマークせよ。 11

- ① b：ガラス製品
- ② c：毛織物
- ③ d：刃物
- ④ h：香水

問12 次のA～Dの図はa～nを首都とするいずれかの国を表している。A～Dとa～nの組合せとして最も適当なものを、下の①～④のうちから一つ選びマークせよ。ただし、図の縮尺と方位は統一されていない。

12



A



B



C



D

① A・h

② B・d

③ C・j

④ D・l

問13 あ・いの島で生じた近年の自然災害の組合せとして最も適当なものを、次の①～④のうちから一つ選びマークせよ。

13

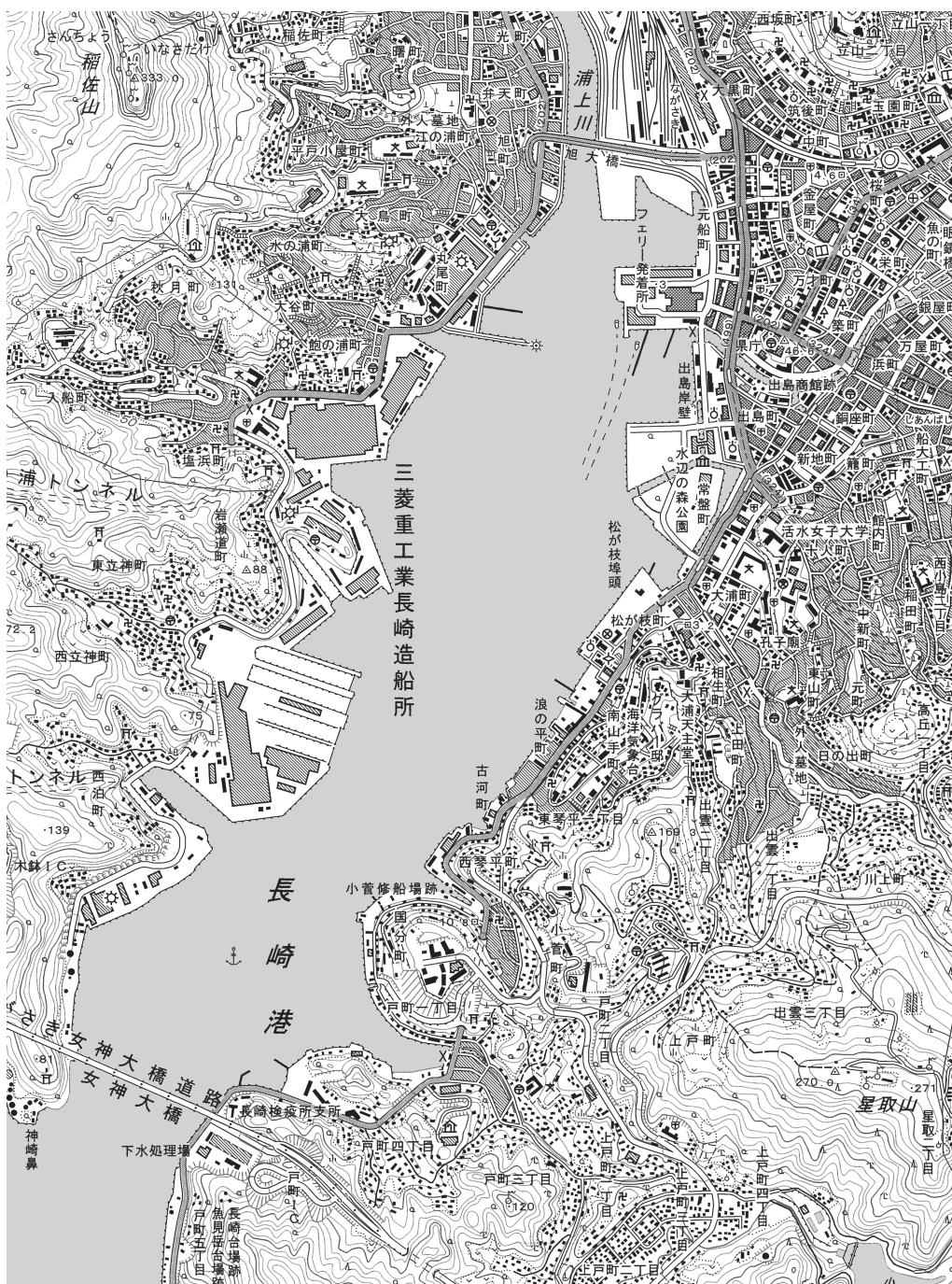
① あ：火山の噴火

② あ：雪害

③ い：ノートルダム大聖堂の火災

④ い：熱波

Ⅱ 次の地形図（平成21年発行）を見て、下の問い（問1～13）に答えよ。



問1 等高線と縮尺について述べた文として最も適当なものを、次の①～④のうちから一つ選びマークせよ。 14

- ① 100mの主曲線があり、2万5千分の1である。
- ② 150mの主曲線があり、5万分の1である。
- ③ 200mの計曲線があり、2万5千分の1である。
- ④ 250mの計曲線があり、5万分の1である。

問2 女神大橋が架かる兩岸間の直線距離は図中で約2cmである。実際の距離として最も適当なものを、次の①～④のうちから一つ選びマークせよ。 15

- ① 約0.5km      ② 約1km      ③ 約1.5km      ④ 約2km

問3 三角点のうち最高地点と最低地点の高度差として最も適当なものを、次の①～④のうちから一つ選びマークせよ。 16

- ① 約200m      ② 約230m      ③ 約260m      ④ 約290m

問4 浦上川の右岸側の市街地に見られない地図記号として最も適当なものを、次の①～④のうちから一つ選びマークせよ。 17

- ① 警察署      ② 高等学校      ③ 消防署      ④ 発電所

問5 星取山の山腹・山麓に見られない地図記号として最も適当なものを、次の①～④のうちから一つ選びマークせよ。 18

- ① 荒地      ② 果樹園      ③ 竹林      ④ 茶畑

問6 市役所周辺に見られない地図記号として最も適当なものを、次の①～④のうちから一つ選びマークせよ。 19

- ① 裁判所      ② 税務署      ③ 病院      ④ 保健所

問7 図から読み取れることについて述べた文として最も適当なものを、次の①～

④のうちから一つ選びマークせよ。 20

- ① 大手前や足軽町など城下町由来の町名が見られる。
- ② オランダ人居留地であった出島は海に突き出た海上にある。
- ③ 長崎港の両岸は有料道路で結ばれている。
- ④ 路面の鉄道が長崎港の東西両岸の市街地を結んでいる。

問 8 図から読み取れることについて述べた文として最も適当なものを、次の①～

④のうちから一つ選びマークせよ。

- ① 稲佐山の山腹は東側よりも西側のほうが急峻である。
- ② 市の中心市街地を3本以上の国道が通っている。
- ③ 立山二丁目の周辺に神社が多数見られる。
- ④ 平和記念像のある平和公園が見られる。

問9 図中に含まれる市町村の数として最も適当なものを，次の①～④のうちから

一つ選びマークせよ。 22

- ① 1                      ② 2                      ③ 3                      ④ 4

問10 図中に表示されている施設のうち、現在、世界遺産（長崎と天草地方の潜伏キリシタン関連遺産）に登録されているものとして最も適当なものを、次の

①～④のうちから一つ選びマークせよ。 23

- ① 大浦天主堂  
② グラバー邸  
③ 小菅修船場跡  
④ 出島商館跡

問11 「ながさき」駅から2022年に開業した西九州新幹線に乗ると、終点駅でJR在来線に乗り換えることができる。この終点駅が所在し、温泉地でもある市として最も適当なものを、次の①～④のうちから一つ選びマークせよ。

①	②	③	④	24
---	---	---	---	----

- ① 諫早市      ② 佐賀市      ③ 佐世保市      ④ 武雄市

問12 図中の都市が属する県が，都道府県の中で全国1位（2022年）のものとして最も適当なものを，次の①～④のうちから一つ選びマークせよ。

25

- ① 合計特殊出生率
- ② 海面漁業漁獲量
- ③ 第1次産業従業者比率
- ④ 島嶼<sup>とうしょ</sup>数

問13 図中の都市は，かつて貿易品であった砂糖を北九州方面へ運ぶシュガーロードの始点であったとされる。シュガーロード上の現在の都市として最も適当なものを，次の①～④のうちから一つ選びマークせよ。

26

- ① 飯塚市
- ② 延岡市
- ③ 日田市
- ④ 八代市

### Ⅲ 次の新聞記事を読み、下の問い（問1～14）に答えよ。

天候不順による原材料価格の高騰を背景に、チョコレートやオリーブオイルと<sup>a</sup>いった身近な食品の値上げが続いている。人件費や<sup>b</sup>物流費の上昇も重なり、家計に重荷となっている。

M社は22日、チョコレート菓子や、レトルトカレーをはじめとした計67品を26日<sup>c</sup>から順次値上げすると発表した。このうちチョコレート4品については内容量を減らす実質的な値上げとなる。

チョコレートの値上げは昨年10月以来だ。M社はかねて価格改定に抑制的な姿勢だったが、適切な価格転嫁へとかじを切っている。背景にあるのは、チョコレート<sup>e</sup>の原材料となる<sup>f</sup>カカオ豆の価格高騰だ。

<sup>e</sup>カカオ豆<sup>g</sup>主要生産国の（ ア ）では天候不順で深刻な不作となっており、国際価格の指標となる<sup>h</sup>ロンドンの<sup>i</sup>先物市場価格は3月中旬に1t当たり6,000（ イ ）台をつけた。前年同月比で3倍の水準で、「コスト高を吸収し切れず、チョコレートはさらなる値上げを迫られるのではないか」（商社関係者）との指摘もある。

オリーブオイルについても、原料のオリーブの主産地である（ ウ ）などで<sup>j</sup>干ばつが続き、<sup>k</sup>輸入価格が高騰している。大手食用油メーカーは、5月から業務用の価格を最大8割引き上げる方針だ。

あるスーパーの関係者は「消費者が値上げ前にオリーブオイルを買いだめする動きも見られる。今後も値上げが続けば、<sup>k</sup>仕入れ先の産地を広げて対応せざるを得ないだろう」と話す。

（「読売新聞オンライン」2024年3月24日配信。一部改）

問1 （ ア ）に当てはまる国の最も適当な組合せを、次の①～④のうちから一つ選びマークせよ。 27

① インドネシア・ベトナム

② ガーナ・コートジボワール

③ コロンビア・ブラジル

④ チリ・ペルー

問2 ( イ ) に当てはまるイギリスにおける主要通貨の単位(2024年)として最も適当なものを、次の①～④のうちから一つ選びマークせよ。 28

- ① ドル                      ② フラン                      ③ ポンド                      ④ ユーロ

問3 ( ウ ) に当てはまるこの農産物の世界生産量第1位の国(2023年)として最も適当なものを、次の①～④のうちから一つ選びマークせよ。 29

- ① イタリア                      ② ギリシャ                      ③ スペイン                      ④ フランス

問4 下線部aに関連して、生産量や国際価格の変動により国全体の経済が左右されやすいという欠点を持つ、一国の経済が特定の一次産品の生産や輸出に依存する経済体制として最も適当なものを、次の①～④のうちから一つ選びマークせよ。 30

- ① コールドチェーン                      ② フェアトレード  
③ プランテーション                      ④ モノカルチャー

問5 下線部bについて、食品の物流の増大にともなう環境負荷を可視化するための指標として最も適当なものを、次の①～④のうちから一つ選びマークせよ。

31

- ① フードシステム                      ② フードデザート  
③ フードバンク                      ④ フードマイレージ

問6 下線部cの原料の一つである砂糖(粗糖)の世界生産量第1位の国(2020年)として最も適当なものを、次の①～④のうちから一つ選びマークせよ。

32

- ① アメリカ合衆国                      ② ドイツ  
③ ブラジル                      ④ ロシア



問9 下線部 f に関連して、1993年に日本では冷夏による冷害のために、稲の記録的な生育不良とそれにともなう米価急騰現象が起こった。この原因の一つとして火山の大噴火があるとされる。この噴火を起こした火山とその所在国の組合せとして最も適当なものを、次の①～④のうちから一つ選びマークせよ。

35

- ① アメリカ合衆国・セントヘレンズ山
- ② イタリア・エトナ山
- ③ 日本・有珠山
- ④ フィリピン・ピナトゥボ山

問10 下線部 g に関連して、次の表2は小麦の世界生産量上位5か国とその割合(2021年)を示したものである。表2中のXに該当する国として最も適当なものを、下の①～④のうちから一つ選びマークせよ。

36

表2

国 名	割合 (%)
中 国	17.8
インド	14.2
X	9.9
アメリカ合衆国	5.8
フランス	4.7

(『地理データファイル 2024年度版』による)

- ① オーストラリア
- ② カナダ
- ③ ドイツ
- ④ ロシア



# 日 本 史

( 解答番号  ～  )

I 次の文を読み、下の問い（問1～10）に答えよ。

遣唐使は、630年に  が派遣されたことに始まり、菅原道真<sup>(a)</sup>の意見によって停止されるまで、全部で20回ほどの計画があったが、このうち4回は派遣が中止されている。遣唐大使以下の使節のほか、留学生・学問僧なども加わり、唐から先進的な制度や文化を学んで日本に伝えた。航海は危険で遭難する例も多く、 のように帰国できなかった人物もいた。

遣唐使は政治的な役割も担った。 に派遣された遣唐使が、「日本」という国号を唐に承認させたのは、その最たるものである。また752年派遣の遣唐使で副使を務めた大伴古麻呂は、翌年正月に長安でおこなわれた朝賀の儀式で、新羅と日本の席次を入れ替えさせ、それまで5回にわたって渡航に失敗していた鑑真<sup>(b)</sup>を日本に連れて帰るといふ大きな足跡を残したが、帰国後の757年に  に巻き込まれて死亡している。

9世紀に派遣された遣唐使は、わずか2回だけで、最澄・空海・橘逸勢<sup>(c)</sup>らが随行した804年の遣唐使と、 らが随行した838年の遣唐使のみである。

<sup>(d)</sup>，遣唐大使に任命された菅原道真が、派遣の中止を建言したため、この時の遣唐使は派遣されずに終わり、結果的に遣唐使は停止された。

問1 空欄  に入れる人名として最も適当なものはどれか。次の①～④のうち一つをマークせよ。

- ① 小野妹子      ② 粟田真人      ③ 犬上御田鍬      ④ 阿倍比羅夫

問2 空欄  に入れる人名として最も適当なものはどれか。次の①～④のうち一つをマークせよ。

- ① 阿倍仲麻呂      ② 藤原宇合      ③ 淡海三船      ④ 小野篁

問3 空欄  に入れる西暦年として最も適当なものはどれか。次の①～④のうち一つをマークせよ。

- ① 669年      ② 684年      ③ 702年      ④ 710年

問4 空欄  に入れる語句として最も適当なものはどれか。次の①～④のうち一つをマークせよ。

- ① 長屋王の変      ② 橘奈良麻呂の変  
③ 藤原広嗣の乱      ④ 恵美押勝の乱

問5 空欄  に入れる僧名として最も適当なものはどれか。次の①～④のうち一つをマークせよ。

- ① 奝然      ② 成尋      ③ 円仁      ④ 源信

問6 空欄  に入れる西暦年として最も適当なものはどれか。次の①～④のうち一つをマークせよ。

- ① 887年      ② 894年      ③ 901年      ④ 907年

問7 下線部(a)の著作として最も適当なものはどれか。次の①～④のうち一つをマークせよ。

- ① 性霊集      ② 文華秀麗集      ③ 経国集      ④ 類聚国史

問8 下線部(b)についての文として誤りを含んでいるものはどれか。次の①～④のうち一つをマークせよ。 8

- ① 正式な僧侶となるために必要な受戒の作法を伝えた。
- ② 日本で最初の戒壇を西大寺に設けた。
- ③ 平城京に唐招提寺を開いた。
- ④ 亡くなる頃に造られた彼の坐像が現存しており、乾漆像である。

問9 下線部(c)に関連して、橘氏の大学別曹として最も適当なものはどれか。次の①～④のうち一つをマークせよ。 9

- ① 弘文院                      ② 勸学院                      ③ 学館院                      ④ 奨学院

問10 下線部(d)についての文として最も適当なものはどれか。次の①～④のうち一つをマークせよ。 10

- ① 菅原道真を遣唐大使に任命したのは、醍醐天皇であった。
- ② 菅原道真が遣唐使の派遣中止を建言したのは、唐が衰退しているため、危険をおかしてまで公的な交渉を行う必要がないという理由からであった。
- ③ 遣唐使の停止以後、日本は中国を再統一した宋と公式の外交関係を結んだ。
- ④ 遣唐使の停止以後、平氏による日宋貿易の開始まで、日本と中国との間における商船の往来は中断した。

Ⅱ 次の源頼朝についてのA～Hの文を読み、下の問い（問1～10）に答えよ。

A 挙兵するが、1の戦いで敗れた。

B 後白河法皇より東国の支配権を認められた。  
(a)

C 鎌倉に本拠を構えた。  
(b)

D 奥州を平定した。  
(c)

E 征夷大將軍となった。  
(d)

F 諸国に守護を、莊園や公領に地頭を設置する権限を認められた。  
(e)

G 侍所を設置した。  
(f)

H 公文所・問注所を設置した。  
(g)

問1 空欄1に入れる語句として最も適当なものはどれか。次の①～④のうち一つをマークせよ。11

- ① 一の谷                      ② 富士川                      ③ 倶利伽羅峠                      ④ 石橋山

問2 下線部(a)の人物についての文として誤りを含んでいるものはどれか。次の①～④のうち一つをマークせよ。12

- ① 後白河天皇と崇徳上皇の対立に摂関家の継承争いがからんで保元の乱がおこった。
- ② 後白河上皇の近臣のあいだの対立が原因で平治の乱がおこった。
- ③ 平清盛によって鳥羽殿に幽閉された。
- ④ 民間の流行歌謡である今様を学んで『愚管抄』を編纂した。

問3 下線部(b)についての文として誤りを含んでいるものはどれか。次の①～④のうち一つをマークせよ。 13

- ① 相模国にある。
- ② 三方を山に囲まれ、通行は切通で制限された。
- ③ 南は海にのぞみ、港湾施設として大輪田泊がつくられた。
- ④ 鶴岡八幡宮から海辺までのびる若宮大路が中軸となっていた。

問4 下線部(c)のときに滅ぼされた人物として最も適当なものはどれか。次の①～④のうち一つをマークせよ。 14

- ① 藤原基衡              ② 藤原泰衡              ③ 藤原清衡              ④ 藤原秀衡

問5 同じく下線部(c)に関連して、奥州藤原氏が平泉に建立した寺院として最も適当なものはどれか。次の①～④のうち一つをマークせよ。 15

- ① 富貴寺              ② 尊勝寺              ③ 三仏寺              ④ 毛越寺

問6 下線部(d)についての文として最も適当なものはどれか。次の①～④のうち一つをマークせよ。 16

- ① 2代将軍源頼家は、北条時政を後見として政治をおこなったが、公暁に暗殺された。
- ② 3代将軍源実朝は、金沢文庫をつくり、『山家集』を残した。
- ③ 摂関家出身で頼朝の遠縁にあたる藤原頼経が鎌倉に迎えられて4代将軍となった。
- ④ 後鳥羽上皇の子の宗尊親王が鎌倉に迎えられて5代将軍となった。

問7 下線部(e)に関連して、百姓が片仮名書きの訴状を書いて地頭の非法を訴えた荘園として最も適当なものはどれか。次の①～④のうち一つをマークせよ。

17

- ① 紀伊国阿氏河荘                              ② 紀伊国杵田荘
- ③ 伯耆国東郷荘                                ④ 肥後国鹿子木荘

問8 下線部(f)の初代別当に任じられた人物として最も適当なものはどれか。次の

①～④のうち一つをマークせよ。 18

- ① 比企能員      ② 和田義盛      ③ 梶原景時      ④ 三浦泰村

問9 下線部(g)についての文として最も適当なものはどれか。次の①～④のうち一

つをマークせよ。 19

- ① 御家人の統率，軍事・警察を担当した。  
② 一般政務や財政事務を担当した。  
③ 御家人たちの所領に関する訴訟を専門に担当した。  
④ 京都の内外の警備を担当した。

問10 A～Hを時期の早い順に並べ替えた場合，最も適当なものはどれか。次の

①～④のうち一つをマークせよ。 20

- ①  $A \rightarrow C \rightarrow G \rightarrow B \rightarrow H \rightarrow F \rightarrow D \rightarrow E$   
②  $A \rightarrow B \rightarrow C \rightarrow G \rightarrow H \rightarrow F \rightarrow E \rightarrow D$   
③  $A \rightarrow B \rightarrow C \rightarrow H \rightarrow G \rightarrow F \rightarrow D \rightarrow E$   
④  $A \rightarrow C \rightarrow B \rightarrow F \rightarrow H \rightarrow G \rightarrow E \rightarrow D$

### Ⅲ 次の老中についての文を読み、下の問い（問1～10）に答えよ。

農村復興策としては、幕領の農政の担い手である代官を大幅に入れかえるとともに、飢饉<sup>(a)</sup>に備えて各地に米穀貯蔵用の施設をたてさせ、大名にも米穀を蓄えさせた。また、旧里帰農令を発して農村から江戸に流入した者の帰農を奨励した。

江戸の都市政策としては、同地の有力商人を勘定所御用達に登用して米価調節にあたせるとともに、に人足寄場をつくって無宿人を収容した。また、を設けて、町費の節約分を毎年町会所に蓄えさせ、その運用によって貧民救済や米・銭の備蓄、また中・下層町人への低利融資をおこなわせた。

外国船の日本への接近に危機感を持ち、みずから相模・伊豆<sup>(b)</sup>の海岸を視察して、江戸湾警備の見直しなど海防を強化しようとした。また、儉約令を出すとともに出版統制令を出して政治批判や風俗をきびしく取り締まった。林子平<sup>(c)</sup>の行為を幕政批判とみなして罰するとともに、黄表紙作者の<sup>(d)</sup>や洒落本作者の山東京伝<sup>(d)</sup>、出版業者のらを処罰した。

儉約の強制や統制のきびしさにより人々の反感を買うことになった。尊号一件<sup>(e)</sup>や徳川家斉<sup>(f)</sup>との対立などをきっかけに、1793年、老中職を退いた。

問1 空欄に入れる語句として最も適当なものはどれか。次の①～④のうち一つをマークせよ。

- ① 日本橋                      ② 湯 島                      ③ 小石川                      ④ 石川島

問2 空欄に入れる語句として最も適当なものはどれか。次の①～④のうち一つをマークせよ。

- ① 義 倉    ② 結  
③ 七分積金の法    ④ 仲 間

問3 空欄   に入れる人名の組み合わせとして最も適当なものはどれか。次の①～④のうち一つをマークせよ。

- ① ア＝恋川春町      イ＝蔦屋重三郎
- ② ア＝為永春水      イ＝蔦屋重三郎
- ③ ア＝恋川春町      イ＝司馬江漢
- ④ ア＝為永春水      イ＝司馬江漢

問4 下線部(a)に関連して、冷害から始まり浅間山の噴火を経て数年間におよぶ大飢饉が起きたときの年号として、最も適当なものはどれか。次の①～④のうち一つをマークせよ。

- ① 文 政                  ② 天 明                  ③ 天 保                  ④ 寛 政

問5 下線部(b)に関連して、伊豆韮山の代官で反射炉を築造した人物として最も適当なものはどれか。次の①～④のうち一つをマークせよ。

- ① 江川太郎左衛門（坦庵）                  ② 高島秋帆
- ③ 村田清風                                      ④ 佐久間象山

問6 下線部(c)の著作の一節として最も適当なものはどれか。次の①～④のうち一つをマークせよ。

- ① 泰平のねむりをさますじようきせん たつた四はいで夜も寝られず
- ② 世の中に蚊ほどうるさきものはなし ぶんぶといふて夜もねられず
- ③ 細カに思へば江戸の日本橋より唐，阿蘭陀迄境なしの水路也。然ルを此に備ずして長崎にのミ備ルは何ぞや。
- ④ 此節米価弥高直に相成，大坂の奉行並諸役人とも万物一体の仁を忘れ，得手勝手の政道をいたし

問7 下線部(d)の作品として最も適当なものはどれか。次の①～④のうち一つをマークせよ。

- ① 浮世風呂                  ② 好色一代男                  ③ 雨月物語                  ④ 仕懸文庫

問8 下線部(e)についての文として最も適当なものはどれか。次の①～④のうち一つをマークせよ。 28

- ① 朝廷は光格天皇の実父である閑院宮典仁親王に，太上天皇（上皇）の尊号を宣下したいと幕府に同意を求めたが，老中は拒否した。
- ② 朝廷は後水尾天皇の実父である閑院宮典仁親王に，太上天皇（上皇）の尊号を宣下したいと幕府に同意を求めたが，老中は拒否した。
- ③ 朝廷は光格天皇の実父である閑院宮典仁親王に，太上天皇（上皇）の尊号を宣下したいと幕府に同意を求め，老中は承諾した。
- ④ 朝廷は後水尾天皇の実父である閑院宮典仁親王に，太上天皇（上皇）の尊号を宣下したいと幕府に同意を求め，老中は承諾した。

問9 下線部(f)の将軍在任中のできごととして最も適当なものはどれか。次の①～④のうち一つをマークせよ。 29

- ① 貞享暦の完成
- ② 元文の貨幣改鑄
- ③ ラクスマンの根室来航
- ④ ペリーの浦賀来航

問10 問題文の人物の著作として最も適当なものはどれか。次の①～④のうち一つをマークせよ。 30

- ① 宇下人言              ② 政 談              ③ 夢の代              ④ 折たく柴の記

Ⅳ 次の史料を読み、下の問い（問1～10）に答えよ。

満洲某重大事件といって世間に伝えられてゐるが、が北京から引上げて<sup>(a)</sup>に帰る途中、あの爆破があった時に、その報道が新聞に出ると、その日には自分に向つて、「どうも怪しいぞ、人には言へぬが、どうも日本の陸軍あたりが元兇ぢやあるまいか。」と言って心配してをられた。その後（略）は、「（略）事実日本の軍人であるといふことが判つたら、その瞬間に処罰しろ。」と勧告せられたが、<sup>(b)</sup>総理は近く即位の御大典を控へ、漸く人気もよくなり、<sup>(c)</sup>議会もその内開かれるといふやうな考慮から、（略）曖昧な返答をした（略）。<sup>(d)</sup>五月の中頃になっていよいよ総理はこの顛末を上奏して、「（略）日本の陸軍には幸ひにして犯人はないといふことが判明致しました。（略）警備上責任者の手落であつた事実については、これを行政処分を以て始末致します。」と申上げて、後日に至り司令官を予備にし、<sup>(e)</sup>下手人であつた参謀を転任させたといふことで済ませておいた。（『と政局』）

問1 空欄に入れる人名として最も適当なものはどれか。次の①～④のうち一つをマークせよ。

- ① 孫 文                      ② 蔣介石                      ③ 張作霖                      ④ 袁世凱

問2 空欄に入れる地名として最も適当なものはどれか。次の①～④のうち一つをマークせよ。

- ① 旅 順                      ② 大 連                      ③ 奉 天                      ④ 重 慶

問3 空欄に該当する元老として最も適当なものはどれか。次の①～④のうち一つをマークせよ。

- ① 桂太郎                      ② 西園寺公望                      ③ 松方正義                      ④ 大隈重信



問10 下線部(e)に相当する人物として最も適当なものはどれか。次の①～④のうち  
一つをマークせよ。

① 難波大助

② 河本大作

③ 石原莞爾

④ 北一輝

# 世界史

(解答番号 1 ～ 40)

I 次の文章を読んで、下の問い（問1～19）に答えよ。

<sup>1</sup>1929年10月24日、aの株式市場で株価が大暴落したことから、アメリカ合衆国は未曾有の恐慌におちいった。世界経済・<sup>2</sup>金融の中心であるアメリカ合衆国でおこった恐慌は、世界恐慌に発展した。その後大統領に当選したフランクリン＝ローズヴェルトは、bと呼ばれる経済政策を実行した。これらの政策の<sup>3</sup>効果は限られたものであったが、ローズヴェルトは新しいメディアであるcを通じて自身の政策を国民に説明し、支持を集めた。また、d<sup>4</sup>外交を展開した。

イギリスは、eでイギリス連邦経済会議を開き、イギリス連邦（コモンウェルス）内の商品への無税もしくは低関税、連邦外の商品への高関税を課す特惠関税制度を設けて、スターリング（ポンド）＝ブロックを形成した。これは、世界各地でブロック経済圏がうまれる先がけとなった。

ドイツでは、世界恐慌の多大なる打撃から経済的・政治的不安定が広がるなかで、ヒトラー率いる<sup>5</sup>国民社会主義ドイツ労働者党（ナチ党）が支持を拡大させた。農民や都市の中産層だけでなく、保守的な産業界や軍部もナチ党に期待し、f年1月にヒトラーは首相に任命された。それから間もなく、ナチ党による一党独裁が実現し、<sup>6</sup>ヴェルサイユ体制の打破が明確に目指されるようになった。

また、ムッソリーニ率いるイタリアは、世界恐慌からの活路を対外拡張に求め、1935年にはgへ侵攻し、翌年にはこれを併合した。

ファシズム諸国の脅威の高まりは、それ以外の諸国と<sup>7</sup>ソ連との関係改善をもたらした。ソ連が指導するコミンテルンは反ファシズムの立場で広範な連帯を呼びかけるhを打ち出し、この方針に沿った政府が1936年にはフランスでiを首相として成立した。同年にはスペインでもh政府が成立したが、保守勢力を率いたjが反乱をおこして<sup>8</sup>スペイン内戦が始まり、最終

的に  側の勝利で終わった。一方,  のような国際的な反ファシズム運動に対抗して, ドイツ・イタリア・日本は外交関係を深めていった。

9

問 1  に最も適する語を次の①～④から一つ選んで, マークせよ。

- |            |          |
|------------|----------|
| ① サンフランシスコ | ② シカゴ    |
| ③ フィラデルフィア | ④ ニューヨーク |

問 2  に最も適する語を次の①～④から一つ選んで, マークせよ。

- |               |              |
|---------------|--------------|
| ① 新経済政策 (ネップ) | ② 第 1 次五カ年計画 |
| ③ ニューディール     | ④ マーシャル=プラン  |

問 3  に最も適する語を次の①～④から一つ選んで, マークせよ。

- |           |       |
|-----------|-------|
| ① インターネット | ② テレビ |
| ③ 電 報     | ④ ラジオ |

問 4  に最も適する語を次の①～④から一つ選んで, マークせよ。

- |       |       |       |       |
|-------|-------|-------|-------|
| ① 棍 棒 | ② 宣教師 | ③ 善 隣 | ④ ド ル |
|-------|-------|-------|-------|

問 5  に最も適する語を次の①～④から一つ選んで, マークせよ。

- |          |          |
|----------|----------|
| ① エディンバラ | ② オタワ    |
| ③ カルカッタ  | ④ ケープタウン |

問6 f に最も適する語を次の①～④から一つ選んで、マークせよ。

6

- ① 1931                      ② 1932                      ③ 1933                      ④ 1934

問7 g に最も適する語を次の①～④から一つ選んで、マークせよ。

7

- ① アルバニア    ② エチオピア  
③ ユーゴスラヴィア                                      ④ リビア

問8 h に最も適する語を次の①～④から一つ選んで、マークせよ。

8

- ① 人民戦線    ② 人民民主主義  
③ 戦時共産主義                                      ④ 総力戦体制

問9 i に最も適する語を次の①～④から一つ選んで、マークせよ。

9

- ① シューマン              ② ダラディエ              ③ ド=ゴール              ④ ブルム

問10 j に最も適する語を次の①～④から一つ選んで、マークせよ。

10

- ① サラザール              ② ピウスツキ              ③ フランコ              ④ ホルティ

問11 下線部1に関連して、この年にペニシリンを発見した人物（1881～1955）は  
だれか、最も適するものを次の①～④から一つ選んで、マークせよ。

11

- ① コッホ    ② フレミング  
③ ヘルムホルツ                                      ④ メンデル

問12 下線部2に関連して、17世紀後半に国際金融の中心だった都市はどこか、最も適するものを次の①～④から一つ選んで、マークせよ。 12

- ① アムステルダム
- ② アントウェルペン（アントワープ）
- ③ ハンブルク
- ④ パリ

問13 下線部3について説明した文として正しいものはどれか、最も適するものを次の①～④から一つ選んで、マークせよ。 13

- ① 恐慌の拡大を防ぐために、賠償と戦債の1年間の支払い停止を宣言した。
- ② 金の流出を防ぐために、金本位制を強化した。
- ③ 農産物価格の引き上げのために、農業調整法（AAA）を制定した。
- ④ 労働者の団結権と団体交渉権を禁止するために、ワグナー法を制定した。

問14 下線部4に関連して、プラット条項が1934年に廃止されるが、この条項によりアメリカ合衆国の保護国となっていた国はどこか、最も適するものを次の①～④から一つ選んで、マークせよ。 14

- ① キューバ
- ② パナマ
- ③ フィリピン
- ④ プエルトリコ

問15 下線部5に関連して、次の(1)、(2)に答えよ。

(1) 第二次世界大戦開戦以前のナチ党の政策を説明した文として誤っているものはどれか、次の①～④から一つ選んで、マークせよ。 15

- ① 当時のイタリアにならって、団体旅行などのレクリエーションを組織した。
- ② 軍人のストレスを軽減させるものとして、喫煙を奨励した。
- ③ 多産家庭に対する補助金など、保守的な家庭観・女性観にもとづく福祉事業を整備した。
- ④ ロマ（ジプシー）、障害者、同性愛者を組織的に迫害した。

(2) ナチ党は、第二次世界大戦で東欧への支配を拡大するなかで、ユダヤ人の絶滅政策を実行に移した。この大量虐殺のことをなんというか、最も適するものを次の①～④から一つ選んで、マークせよ。 16

- |           |         |
|-----------|---------|
| ① アパルトヘイト | ② パルチザン |
| ③ ホロコースト  | ④ シオニズム |

問16 下線部6について、ヴェルサイユ体制の打破を進めたナチ党の政策について述べた以下の文（ア）～（ウ）が、おこった順に正しく配列されているものはどれか、次の①～⑥から一つ選んで、マークせよ。 17

- （ア） 国際連盟から脱退した。
- （イ） 住民投票によって、ザール地方を編入した。
- （ウ） 徴兵制の復活と再軍備を宣言した。

- |               |               |
|---------------|---------------|
| ① （ア）→（イ）→（ウ） | ② （ア）→（ウ）→（イ） |
| ③ （イ）→（ア）→（ウ） | ④ （イ）→（ウ）→（ア） |
| ⑤ （ウ）→（ア）→（イ） | ⑥ （ウ）→（イ）→（ア） |

問17 下線部7に関連して、ソ連は1939年に国際連盟を除名されたが、その直接の理由はなにか、最も適するものを次の①～④から一つ選んで、マークせよ。

18

- ① 安全保障の名目でフィンランドに宣戦したため。
- ② 独ソ不可侵条約の秘密議定書にもとづいてバルト3国を併合したため。
- ③ ポーランドをドイツと分割占領したため。
- ④ ルーマニアからベッサラビアを割譲させたため。

問18 下線部8について、スペイン内戦をめぐる状況を説明した以下の文（ア）、

（イ）の正誤の組み合わせとして正しいものはどれか、次の①～④から一つ選んで、マークせよ。 19

（ア） イギリスは、スペインの h 政府を積極的に支援した。

（イ） フランスは、スペインの h 政府を積極的に支援した。

① （ア）－正 （イ）－正

② （ア）－正 （イ）－誤

③ （ア）－誤 （イ）－正

④ （ア）－誤 （イ）－誤

問19 下線部9について、この時期のイタリアの外交について述べた以下の文

（ア）～（ウ）が、おこった順に正しく配列されているものはどれか、次の①～⑥から一つ選んで、マークせよ。 20

（ア） 国際連盟から脱退した。

（イ） 日独防共協定に加入した。

（ウ） ミュンヘン会談に参加した。

① （ア）→（イ）→（ウ）

② （ア）→（ウ）→（イ）

③ （イ）→（ア）→（ウ）

④ （イ）→（ウ）→（ア）

⑤ （ウ）→（ア）→（イ）

⑥ （ウ）→（イ）→（ア）

Ⅱ 次の文A, Bを読んで, 下の問い (問1 ~20) に答えよ。

A 13世紀初頭に大モンゴル国をたてた a は, 西方の b 朝などに遠征し, 領域を拡大した。彼の死後も, <sup>1</sup>その子孫が遠征を継続し, <sup>2</sup>13世紀後半に<sup>3</sup>はモンゴル諸政権がユーラシア各地に並び立つ状況となった。このうち中国の華北<sup>4</sup>に拠点をおいた c は, <sup>5</sup>大都に都をおいたのち, d を滅ぼした。<sup>6</sup>その結果, 豊かな江南の物資が海運や運河を通じて大都に運び込まれるようになった。

問1 a に最も適する語を次の①～④から一つ選んで, マークせよ。

21

① チンギス=ハン

② ティムール

③ スルハチ

④ バーブル

問2 b に最も適する語を次の①～④から一つ選んで, マークせよ。

22

① ガズナ

② サーマーン

③ セルジューク

④ ホラズム=シャー

問3 c に最も適する語を次の①～④から一つ選んで, マークせよ。

23

① オゴデイ

② クビライ

③ グユク

④ ホンタイジ

問4 d に最も適する語を次の①～④から一つ選んで, マークせよ。

24

① 西 夏

② 西 遼

③ 南 詔

④ 南 宋

問5 下線部1に関連して、この国よりも後に成立した中国の王朝はどれか、最も適するものを次の①～④から一つ選んで、マークせよ。 25

- ① 後 漢                      ② 後 金                      ③ 後 晋                      ④ 後 唐

問6 下線部2に関連して、モンゴル軍による遠征やその結果について述べた文として誤っているものはどれか、次の①～④から一つ選んで、マークせよ。

26

- ① バトゥがチャガタイ=ハン国をたてた。  
② バトゥがロシアや東ヨーロッパに遠征した。  
③ フレグがアッバース朝を滅ぼした。  
④ フレグがイル=ハン国をたてた。

問7 下線部3に関連して、13世紀後半におこった出来事として正しいものはどれか、最も適するものを次の①～④から一つ選んで、マークせよ。 27

- ① アユタヤ朝が成立した。  
② アンカラの戦いがおこった。  
③ デリー=スルタン朝が始まった。  
④ マジャパヒト王国がたてられた。

問8 下線部4に関連して、南北朝時代の華北について述べた文として誤っているものはどれか、次の①～④から一つ選んで、マークせよ。 28

- ① 東魏が北斉にとってかわられた。  
② 北魏が東魏と西魏に分裂した。  
③ 北魏の孝文帝が三長制を実施した。  
④ 北周が北斉に併合された。

問9 下線部5に関連して、大都是現在の北京にあたる。明から清にかけての北京をめぐりて出来事について述べた文として正しいものはどれか、最も適するものを次の①～④から一つ選んで、マークせよ。 29

- ① 1644年、清の都が北京から盛京に移された。
- ② エセン＝ハンが土木堡で明の正統帝をとらえ、北京を包圍した。
- ③ 明の建文帝のときに首都が金陵から北京に移された。
- ④ 明は李時珍の反乱軍に北京を占領されて滅亡した。

問10 下線部6に関連して、江南に成立した王朝について述べた文として正しいものはどれか、最も適するものを次の①～④から一つ選んで、マークせよ。

30

- ① 五代十国時代の江南では後梁など五つの王朝が交替した。
- ② 三国時代の呉は魏に滅ぼされた。
- ③ 司馬睿が建康で即位し晋を復興させた。
- ④ 南朝の陳は唐に滅ぼされた。

B 大モンゴル国は、13世紀後半以降、<sup>7</sup>軍事拡大路線から<sup>8</sup>経済や流通を重視する路線へと方針転換していった。そして<sup>9</sup>モンゴル系の諸政権は経済的な結びつきを保持したため、<sup>10</sup>ユーラシア規模の海陸の交通が活発化した。当時、西方から東方に向かった<sup>11</sup>人物として、フランス王 e の使節だった f や、c に仕えたとされる商人 g らが挙げられる。一方、東方から西方へは、コバルト顔料を用いてつくられた h と呼ばれる陶磁器が<sup>12</sup>「海の道」を通して輸出された。

問11 e に最も適する語を次の①～④から一つ選んで、マークせよ。

31

- ① フィリップ2世
- ② フィリップ4世
- ③ ルイ9世
- ④ ルイ13世

問12 f に最も適する語を次の①～⑥から一つ選んで、マークせよ。

32

- |             |            |
|-------------|------------|
| ① カスティリオーネ  | ② プラノ＝カルピニ |
| ③ マテオ＝リッチ   | ④ マルコ＝ポーロ  |
| ⑤ モンテ＝コルヴィノ | ⑥ ルブルック    |

問13 g に最も適する語を次の①～⑥から一つ選んで、マークせよ。

33

- |             |            |
|-------------|------------|
| ① カスティリオーネ  | ② プラノ＝カルピニ |
| ③ マテオ＝リッチ   | ④ マルコ＝ポーロ  |
| ⑤ モンテ＝コルヴィノ | ⑥ ルブルック    |

問14 h に最も適する語を次の①～④から一つ選んで、マークせよ。

34

- |       |       |       |       |
|-------|-------|-------|-------|
| ① 青 磁 | ② 染 付 | ③ 唐三彩 | ④ 白 磁 |
|-------|-------|-------|-------|

問15 下線部 7 に関連して、大モンゴル国の軍事・行政の制度ないし組織はどれか、最も適するものを次の①～④から一つ選んで、マークせよ。

35

- |       |       |       |         |
|-------|-------|-------|---------|
| ① 千戸制 | ② 八 旗 | ③ 府兵制 | ④ 猛安・謀克 |
|-------|-------|-------|---------|

問16 下線部 8 に関連して、世界史上の経済や流通について述べた文として誤っているものはどれか、次の①～④から一つ選んで、マークせよ。

36

- |                                 |
|---------------------------------|
| ① 王安石は募役法で物資流通の円滑化と物価安定をはかった。   |
| ② 戦国時代には農具の形をした布銭などの青銅貨幣が用いられた。 |
| ③ 大モンゴル国では銀錠と呼ばれる銀塊が流通した。       |
| ④ 唐代には飛銭と呼ばれる送金手形が用いられた。        |

問17 下線部9に関連して、モンゴル系・トルコ系の民族や国家について述べた文として正しいものはどれか、最も適するものを次の①～④から一つ選んで、マークせよ。 37

- ① 5世紀前半、鮮卑の拓跋氏が西晋をたてた。
- ② 9世紀、柔然がキルギスに滅ぼされた。
- ③ 10世紀末から、ガズナ朝が西北インドへの侵攻をくりかえした。
- ④ 11世紀初め、キタイが金との間に澶淵の盟を結んだ。

問18 下線部10に関連して、ユーラシアの東西を結ぶ交易にたずさわったソグド人やその文化について述べた文として誤っているものはどれか、次の①～④から一つ選んで、マークせよ。 38

- ① サマルカンドなどのオアシス都市を拠点とした。
- ② ソグド文字をもとにアラム文字がつくられた。
- ③ 突厥やウイグルの発展に貢献した。
- ④ ビザンツ帝国と交易をおこなった。

問19 下線部11に関連して、世界史上の使節について述べた文として正しいものはどれか、最も適するものを次の①～④から一つ選んで、マークせよ。 39

- ① 漢の武帝は張騫を大月氏に派遣した。
- ② シュリーヴィジャヤ王国は明朝に朝貢使節を派遣した。
- ③ ピョートル1世はラクスマンを根室に派遣した。
- ④ マカートニーは清の雍正帝に謁見した。

問20 下線部12に関連して、「海の道」やこれを通じた交易事情について述べた文として誤っているものはどれか、次の①～④から一つ選んで、マークせよ。

40
----

- ① インド洋方面の「海の道」ではダウ船が往来した。
- ② 「海の道」に沿って東南アジアなどに港市や港市国家が出現した。
- ③ 「海の道」の交易にはモンスーンと呼ばれる季節風が利用された。
- ④ 匈奴は「海の道」をおさえ、東西交易の利益を得た。