

地 理(解答番号

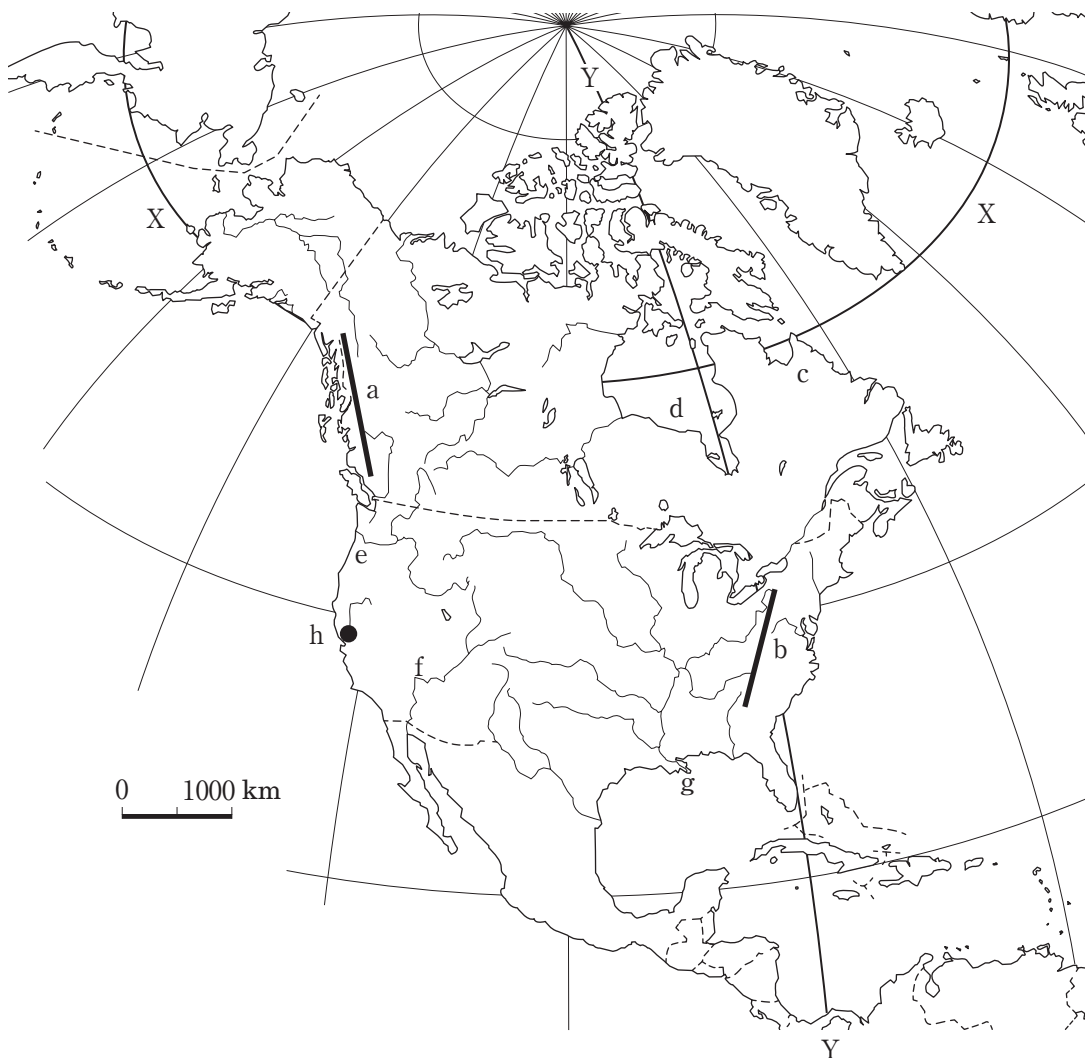
1

 ~

40

)

I 次の北アメリカの図を見て、下の問い（問1～13）に答えよ。



問1 X・Yの線の組合せとして最も適当なものを、次の①～④のうちから一つ選びマークせよ。

- ① X：北緯50度 Y：西経50度 ② X：北緯50度 Y：西経60度
③ X：北緯60度 Y：西経70度 ④ X：北緯60度 Y：西経80度

問2 a～cの組合せとして最も適当なものを、次の①～④のうちから一つ選びマークせよ。

- ① a：アパラチア山脈 b：海岸山地 c：フロリダ半島
② a：アパラチア山脈 b：海岸山地 c：ラブラドル半島
③ a：海岸山地 b：アパラチア山脈 c：フロリダ半島
④ a：海岸山地 b：アパラチア山脈 c：ラブラドル半島

問3 d～fの組合せとして最も適当なものを、次の①～④のうちから一つ選びマークせよ。

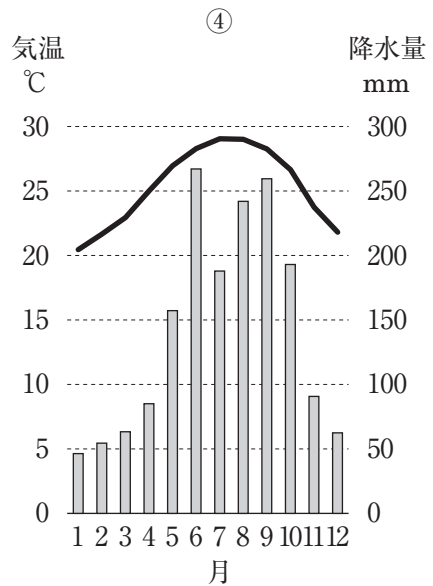
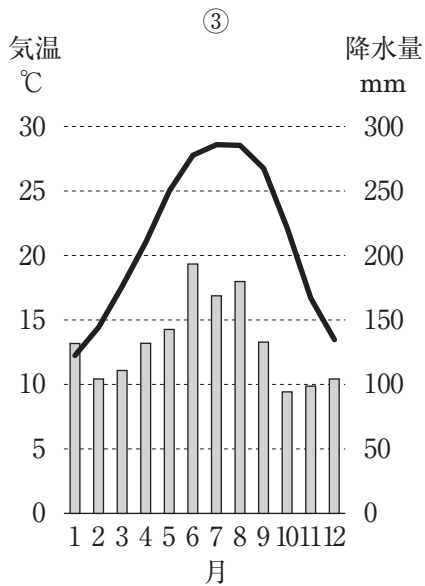
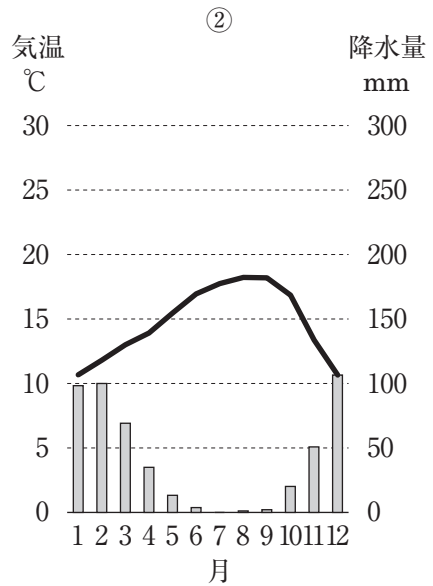
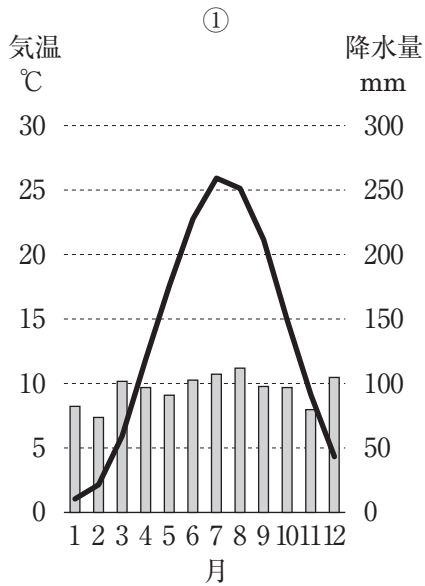
- ① d：ハドソン湾 e：コロラド川 f：コロンビア川
② d：ハドソン湾 e：コロンビア川 f：コロラド川
③ d：メキシコ湾 e：コロラド川 f：コロンビア川
④ d：メキシコ湾 e：コロンビア川 f：コロラド川

問4 gの河口に見られる地形として最も適当なものを、次の①～④のうちから一つ選びマークせよ。

- ① 円弧状三角州 ② カスプ状三角州
③ 三角江 ④ 鳥趾状三角州

問5 都市hの雨温図として最も適当なものを、次の①～④のうちから一つ選びマークせよ。

5



(『理科年表』による)

問6 アメリカ合衆国の移民について述べた文として最も適当なものを、次の①～

④のうちから一つ選びマークせよ。 6

- ① 16世紀に入ると、イギリスなどヨーロッパの人々が大西洋岸に入植し、西側に領土を広げていった。
- ② 建国当初からのアメリカ合衆国の政治・経済・文化の発展をけん引したのは、ワスパ（WASP）であった。
- ③ 現在でも経済的な豊かさと仕事を求めて多くの移民が流入しているが、年間50万人（2018年）には満たない。
- ④ 移民の多くは、仕事をリタイアした高齢者なので、アメリカ合衆国は他の先進国と同様に高齢化が急激に進んでいる。

問7 アメリカ合衆国への留学生数（2018年）が最も多い出身地域として最も適当なものを、次の①～④のうちから一つ選びマークせよ。 7

- ① アジア ② アフリカ ③ 南アメリカ ④ ヨーロッパ

問8 アメリカ合衆国の農牧業を東西に大きく二分する経度として最も適当なものを、次の①～④のうちから一つ選びマークせよ。 8

- ① 90° ② 95° ③ 100° ④ 105°

問9 アメリカ合衆国の農業の特徴について述べた文として誤っているものを、次の①～④のうちから一つ選びマークせよ。 9

- ① 労働生産性が高く経営規模が大きい。
- ② 農業従事者の割合は人口の1割内外である。
- ③ 穀物の生産では、大型農業機械やリモートセンシング技術が用いられる。
- ④ 農薬や化学肥料、遺伝子組み換え作物などを多用する。

問10 アメリカ合衆国の工業地域の特徴について述べた文として最も適当なものを、次の①～④のうちから一つ選びマークせよ。 10

- ① 五大湖沿岸は、大消費地や豊富な石油資源を背景に石油化学工業が発達した。
- ② 中西部は、早くから鉄鋼・自動車・機械などの重工業が発達してきた。
- ③ 中部大西洋岸は、農業地域を背景に、食品加工や農業機械が中心である。
- ④ ニューイングランドは、アメリカ合衆国で最も早く発達した工業地帯である。

問11 アメリカ合衆国のサンベルトに立地していない工業地域として最も適当なものを、次の①～④のうちから一つ選びマークせよ。 11

- ① エレクトロニクスベルト ② シリコンデザート
- ③ シリコンフォレスト ④ シリコンプレーン

問12 世界におけるパルプの生産量（2020年）の順位の組合せとして最も適当なものを、次の①～④のうちから一つ選びマークせよ。 12

	1 位	2 位	3 位	4 位
①	アメリカ合衆国	ブラジル	中 国	カナダ
②	カナダ	アメリカ合衆国	ブラジル	中 国
③	中 国	カナダ	アメリカ合衆国	ブラジル
④	ブラジル	中 国	カナダ	アメリカ合衆国

問13 カナダの各州における住民（2016年）について最も適当なものを、次の①～④のうちから一つ選びマークせよ。 13

- ① アルバータ州は、フランス系住民が最も多い。
- ② オンタリオ州は、イギリス系住民が最も多い。
- ③ ケベック州は、イギリス系住民が最も多い。
- ④ ブリティッシュコロンビア州は、フランス系住民が最も多い。

Ⅱ 次の地形図（図1）（平成19年発行）を見て、下の問い（問1～13）に答えよ。



図1

問6 「広島城跡」付近に見られない地図記号の組合せとして最も適当なものを、次の①～④のうちから一つ選びマークせよ。 19

- | | |
|-----------|-----------|
| ① 官公署・裁判所 | ② 市役所・保健所 |
| ③ 消防署・税務署 | ④ 病院・郵便局 |

問7 「平和記念公園（△で表示）」のある中州において、複数見られる地図記号として最も適当なものを、次の①～④のうちから一つ選びマークせよ。 20

- | | | | |
|-------|-------|-------|-------|
| ① 煙 突 | ② 官公署 | ③ 図書館 | ④ 博物館 |
|-------|-------|-------|-------|

問8 交通インフラについて述べた文として最も適当なものを、次の①～④のうちから一つ選びマークせよ。 21

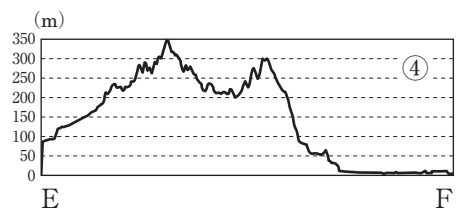
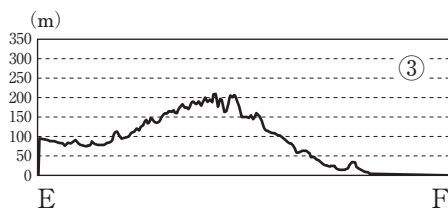
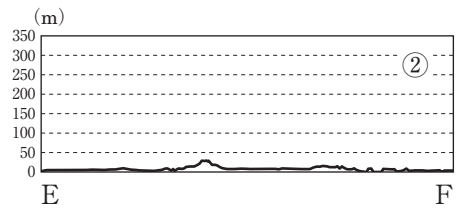
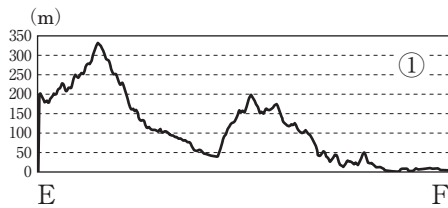
- ① 己斐トンネルにはJR線（単線）の普通鉄道が通っている。
- ② 己斐トンネルには片側1車線の高速道路が通っている。
- ③ 広島高速4号線は建設中である。
- ④ 広島高速4号線は上下線を分離した片側2車線の有料道路である。

問9 己斐峠付近に見られない地図記号として最も適当なものを、次の①～④のうちから一つ選びマークせよ。 22

- | | | | |
|-------|-------|--------|--------|
| ① 荒 地 | ② 果樹園 | ③ 広葉樹林 | ④ 針葉樹林 |
|-------|-------|--------|--------|

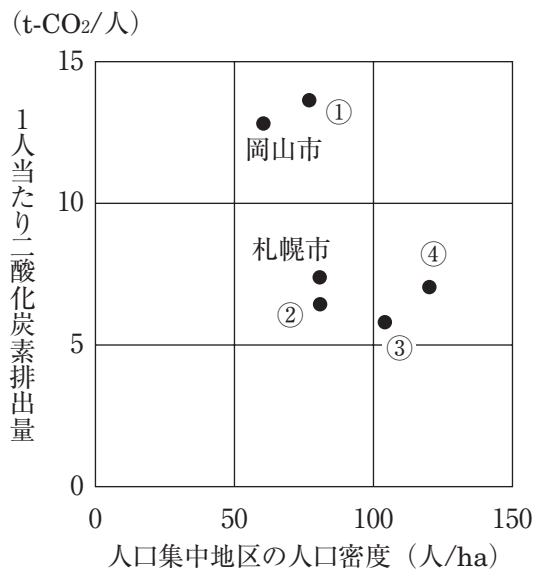
問10 「よこがわ」駅（Fとする）から西方に進み、己斐トンネルの西にある寺院（Eとする）とを結んだ地形断面図として最も適当なものを、次の①～④のうちから一つ選びマークせよ。

23



問11 次の図2は国内6都市における1人当たり二酸化炭素排出量と人口集中地区の人口密度（2015年）を示したものであり、①～④は大阪市・名古屋市・広島市・横浜市のいずれかである。広島市に該当する最も適当なものを、図中の①～④のうちから一つ選びマークせよ。

24



（環境省「自治体排出量カルテ」, 「国勢調査」により作成）

図2


問12 政令指定都市の面積（2022年）が大きな順に並べたものとして最も適当なものを、次の①～④のうちから一つ選びマークせよ。

25

- ① さいたま市＞北九州市＞広島市＞浜松市
- ② さいたま市＞広島市＞北九州市＞浜松市
- ③ 浜松市＞広島市＞北九州市＞さいたま市
- ④ 広島市＞さいたま市＞北九州市＞浜松市

問13 次の図3は、岡山県・広島県・山口県における製造品出荷額等割合（2021年）を示したものである。広島県・山口県の組合せとして最も適当なものを、下の①～⑥のうちから一つ選びマークせよ。

26



（「データブック オブ・ザ・ワールド 2024年版」による）
図3

- ① あ：広島県 い：山口県

② あ：山口県 い：広島県

③ あ：広島県 う：山口県

④ あ：山口県 う：広島県

⑤ い：広島県 う：山口県

⑥ い：山口県 う：広島県

Ⅲ 以下の問い（A・B）に答えよ。

A. 地形に関する次の文を読み、下の問い（問1～7）に答えよ。

地球を卵にたとえると、殻にあたる地殻、白身にあたる（ ア ）、黄身にあたる核の、大きく三つの部分から成っている。このうち、地殻は十数枚の（ イ ）に分かれており、その1枚1枚が（ ア ）の動きにつれてゆっくりと移動している。このため、地表上のある部分では（ イ ）どうしが互いに押し合い、ある部分では互いに引き離される。日本列島は押し合う（ イ ）相互の境界付近に位置するので、大地はゆっくりねじ曲げられ、しばしば地震が起こったり火山が噴火したりする。このように、現在地殻変動が活発な部分を新期造山帯と呼ぶ。

これに対して、（ イ ）上ではこうした動きがほとんど見られず、安定陸塊と呼ばれる。このうち、地質年代で最も古い（ ウ ）に活発な地殻変動を生じたものの、その後は安定し、侵食が進んでいる地域を（ エ ）と呼ぶ。一方、（ ウ ）の後の時代に一度海面下に沈んだ後、再びゆっくりと陸化したものを（ オ ）と呼び、これと区別する。

問1 （ ア ）（ イ ）に当てはまる組合せとして最も適当なものを、次の①～

④のうちから一つ選びマークせよ。 27

- | | | | |
|----------|-------|----------|--------|
| ① ア：マグマ | イ：トラフ | ② ア：マグマ | イ：プレート |
| ③ ア：マントル | イ：トラフ | ④ ア：マントル | イ：プレート |

問2 （ ウ ）に当てはまる最も適当なものを、次の①～④のうちから一つ選びマークせよ。 28

- | | |
|-------|------------|
| ① 古生代 | ② 古第三紀 |
| ③ 石炭紀 | ④ 先カンブリア時代 |

問3 (エ)(オ)に当てはまる組合せとして最も適当なものを、次の①～

④のうちから一つ選びマークせよ。 29

- ① エ：古期造山帯 オ：卓状地 ② エ：古期造山帯 オ：楕状地
③ エ：卓状地 オ：楕状地 ④ エ：楕状地 オ：卓状地

問4 下線部aに該当しないものを、次の①～④のうちから一つ選びマークせよ。

30

- ① アイスランド島 ② アフリカ大地溝帯
③ インド洋中央海嶺 ④ サンアンドレアス断層

問5 下線部bに該当する最も適当なものを、次の①～④のうちから一つ選びマークせよ。 31

- ① アパラチア山脈 ② ウラル山脈
③ 小スンダ列島 ④ ドラケンスバーグ山脈

問6 下線部cに典型的に見られる地形として最も適当なものを、次の①～④のうちから一つ選びマークせよ。 32

- ① カルスト地形 ② 海岸段丘
③ ケスタ ④ リアス海岸

問7 下線部dに典型的に見られる地下資源として最も適当なものを、次の①～④のうちから一つ選びマークせよ。 33

- ① 金 鉱 ② 石 炭 ③ 石 油 ④ 鉄鉱石

B. 気候に関する次の文を読み、下の問い（問8～14）に答えよ。

ある土地で毎年一定の順序で繰り返される大気の総合的・平均的な状態を気候という。その特徴は、気温^e、降水^f、風^gなどの気候要素で具体的に把握され、その状態は、緯度^h、海拔高度ⁱ、水陸分布^j、隔海度^k、海流、地形などの気候因子が影響して決まる。地球上には実に様々な気候が見られ、世界の農牧業や生活・文化^kに大きな影響を与えている。

問8 下線部eについて述べた文として**適当でないもの**を、次の①～④のうちから一つ選びマークせよ。 34

- ① 沿岸部と内陸部とでは、一般に沿岸部で気温の日較差がより大きい。
- ② 高緯度と低緯度とでは、一般に高緯度で気温の年較差がより大きい。
- ③ 冷たい空気は重く、山地中腹より山麓でより低温になることがある。
- ④ フェーン現象では、山地の風上側より風下側でより高温になりやすい。

問9 下線部fに関して、地形の影響を強く受けた雨の例について述べた文として最も適当なものを、次の①～④のうちから一つ選びマークせよ。 35

- ① アッサム地方では、雨季になると連日のように強い雨の日が続く。
- ② ジャカルタでは、午後になると連日のように強いスコールがある。
- ③ 6～7月の本州は、梅雨前線が停滞して長雨の季節となる。
- ④ 8～9月の九州では、台風が到来して暴風雨に見舞われることがある。

問10 下線部gに関して、局地風のうち暖気をともなうものとして最も適当なものを、次の①～④のうちから一つ選びマークせよ。 36

- ① シロッコ ② プリザード ③ やませ ④ 六甲おろし

問11 下線部 h に関して、近畿大学（標高約 5 m）の気温が30℃の時、生駒山頂（標高約640m）の気温として最も適当なものを、次の①～④のうちから一つ選びマークせよ。ただし、気温の通減率を 6℃/1,000m とする。 37

- ① 約23℃ ② 約26℃ ③ 約29℃ ④ 約32℃

問12 下線部 i に関して、陸と海が接する海岸部では海風・陸風・なぎ（風）が周期的に循環する。その通常の順序として最も適当なものを、次の①～④のうちから一つ選びマークせよ。 38

- ① 〔日出〕海風→なぎ→陸風→〔日没〕→陸風→なぎ→海風
② 〔日出〕海風→陸風→なぎ→〔日没〕→海風→なぎ→陸風
③ 〔日出〕陸風→海風→なぎ→〔日没〕→陸風→なぎ→海風
④ 〔日出〕陸風→なぎ→海風→〔日没〕→海風→なぎ→陸風

問13 下線部 j に関して、海流の多くは地球規模の恒常風がおもな推進力となっている。その例として適当でないものを、次の①～④のうちから一つ選びマークせよ。 39

- ① カリフォルニア海流 ② 北太平洋海流
③ 西風海流 ④ 南赤道海流

問14 下線部 k について述べた文として適当でないものを、次の①～④のうちから一つ選びマークせよ。 40

- ① アンデスの高地では、保存食である乾燥じゃがいもが広く食されてきた。
② 地中海沿岸では、夏作の小麦や冬作のぶどうの栽培がさかんである。
③ 熱帯地域では、焼畑による雑穀の無肥料耕作が古くから行われてきた。
④ モンスーンアジアでは、夏の高温多雨を利用して稲作がさかんである。

日 本 史

(解答番号 ～)

I 次の文を読み、下の問い（問1～10）に答えよ。

南山城地域を北流する木津川の右岸段丘上に、「井手左大臣」と号した橘諸兄にゆかりの深い井手寺跡が残っている。橘諸兄は光明子^(a)の異父兄にあたり、藤原4兄弟^(b)が天然痘の流行によって病死した後に政権を握った人物である。彼の政権下では、唐から帰国した や吉備真備が聖武天皇に信任されて活躍した。諸兄は、743年には左大臣、749年には正一位に叙され位階を上り詰めた。しかし、聖武天皇^(c)の子である の時代には藤原仲麻呂^(d)が次第に勢力をのぼし、諸兄が亡くなった757年には子の橘奈良麻呂が藤原仲麻呂を倒そうとして逆に滅ぼされた。

平安時代になると、諸兄の曾孫である橘嘉智子が嵯峨天皇^(e)の皇后となり、貴族社会における橘氏の地位は上昇する。嘉智子は仏教^(f)に厚く帰依し、嵯峨野に檀林寺を建立したことから檀林皇后とも呼ばれた。近年、井手寺跡でも中心伽藍の東側で塔跡が発見された。基壇内から本朝（皇朝）十二銭^(g)の一つで、818年に鑄造された富寿神宝が出土しており、屋根瓦は平安宮や檀林寺などと同じ文様のものであった。嘉智子が皇后となったのは815年であることから、井手寺の塔の造営に嘉智子が関与した可能性も指摘されている。橘逸勢^(h)は嘉智子のいここにあたる。

問1 空欄 に入れる僧名として最も適当なものはどれか。次の①～④のうち一つをマークせよ。

- ① 行 基 ② 玄 昉 ③ 鑑 真 ④ 道 鏡

問2 空欄 に入れる天皇名として最も適当なものはどれか。次の①～④のうち一つをマークせよ。

- ① 文武天皇 ② 元正天皇 ③ 光仁天皇 ④ 孝謙天皇

問3 下線部(a)が皇后となる直前のできごととして最も適当なものはどれか。次の

①～④のうち一つをマークせよ。 3

- ① 三世一身法の施行 ② 百万町歩開墾計画の策定
③ 長屋王の変 ④ 『日本書紀』の完成

問4 下線部(b)に関連して、式家の祖となる人物として最も適当なものはどれか。

次の①～④のうち一つをマークせよ。 4

- ① 武智麻呂 ② 房前 ③ 宇合 ④ 麻呂

問5 下線部(c)に起きたできごととして最も適当なものはどれか。次の①～④のう

ち一つをマークせよ。 5

- ① 藤原広嗣の乱
② 恭仁京への遷都
③ 国分寺・国分尼寺建立の詔の発布
④ 墾田永年私財法の制定

問6 下線部(d)についての文として誤りを含んでいるものはどれか。次の①～④の

うち一つをマークせよ。 6

- ① 光明皇太后の信任を得て勢力をのばした。
② 自身が後援する淳仁天皇の即位を実現して独裁的な権力を獲得した。
③ 淳仁天皇から恵美押勝（藤原恵美押勝）の名を与えられた。
④ 重祚した称徳天皇との対立が深まり、武力衝突で敗死した。

問7 下線部(e)の時代に編纂されたものとして適当でないものはどれか。次の①～

④のうち一つをマークせよ。 7

- ① 古今和歌集 ② 弘仁格式 ③ 文華秀麗集 ④ 凌雲集

問8 下線部(f)に関連して、『入唐求法巡礼行記』を著した僧として最も適切なものはどれか。次の①～④のうち一つをマークせよ。 8

- ① 最澄 ② 空海 ③ 円仁 ④ 円珍

問9 下線部(g)の最後となった乾元大宝を発行した天皇として最も適切なものはどれか。次の①～④のうち一つをマークせよ。 9

- ① 村上天皇 ② 宇多天皇 ③ 清和天皇 ④ 醍醐天皇

問10 下線部(h)についての文として最も適切なものはどれか。次の①～④のうち一つをマークせよ。 10

- ① 令の解釈を公式に統一した『令義解』を編纂した。
② 伴健岑とともに承和の変を企てたとして、流罪となった。
③ 左大臣源信の失脚をねらって応天門に放火し、発覚して流罪となった。
④ 優れた書を残した三蹟（三跡）のひとりである。

Ⅱ 次の史料と文を読み、下の問い（問1～10）に答えよ。

所領配分の事

嫡男大炊助入道分

ア

 国大友郷

イ

 郷司職

次男宅万別当分

ウ

 国大野庄内志賀村半分

イ

 職 別に注文あり、

大和太郎兵衛尉分 同庄内上村半分

イ

 職 別に注文あり、

八郎分 同庄内志賀村半分

イ

 職 別に注文あり、

九郎入道分 同庄内下村

イ

 職 但し、故豊前々司墓堂寄附院主職なり、

女子犬御前分 同庄内中村

イ

 職

女子美濃局分 同庄内上村半分

イ

 職 別に注文あり、

帯刀左衛門尉後家分 数子これあり、同庄中村内保多田名

右、件の所領等は、故豊前々司能直朝臣、代々の將軍家の御下文を賜り、相違無く知行し来たる所なり。しかして尼深妙、亡夫能直の譲りを得て、將軍家の御下文を賜はり、領掌せしむる所なり。^(a)これにより能直の遺言に任せ、孚数子等のために、かくの如く配分する所なり。しからば均分の状に任せ、依違なく領掌せしむべきなり。ただし、^(b)関東御公事仰せ下さる時は、嫡男大炊助入道の支配を守り、所領の多少に随い、その沙汰を致すべきなり。よって後日の証文のため惣配分の状、くだんの如し。

延応貳年四月六日 尼深妙（花押）

大友能直は奥州の

1

 との合戦に従軍し、源頼朝の信任を得て豊前・

ウ

 の

エ

 および

2

 をつとめた。能直は1223年に亡くなり、^(c)その所領は妻の深妙に譲られる。1240年、深妙が能直の遺言に従い、諸子へ所領を配分したことを示すのが本史料である。

大友氏は、

ア

 国大友郷に本拠を置く東国御家人で、^(d)小田原城の近くには、現在でも大友の地名が残っている。後に大友氏は九州に本拠を移し、

ウ

オ

 に城下町を築いた。大友義鎮は

カ

 の勧めにより、^(e)天正遣欧使節

を派遣したことで知られる。

問1 空欄 に入れる人名として最も適当なものはどれか。次の①～④のうち一つをマークせよ。

- ① 藤原泰衡 ② 藤原秀衡 ③ 藤原基衡 ④ 藤原清衡

問2 空欄 に入れる語句として最も適当なものはどれか。次の①～④のうち一つをマークせよ。

- ① 九州探題 ② 征西大將軍 ③ 鎮西探題 ④ 鎮西奉行

問3 空欄 に入れる国名の組み合わせとして最も適当なものはどれか。次の①～④のうち一つをマークせよ。

- ① ア＝伊 豆 ウ＝豊 後 ② ア＝相 模 ウ＝豊 後
③ ア＝伊 豆 ウ＝筑 後 ④ ア＝相 模 ウ＝筑 後

問4 空欄 に入れる語句の組み合わせとして最も適当なものはどれか。次の①～④のうち一つをマークせよ。

- ① イ＝公 文 エ＝地 頭 ② イ＝地 頭 エ＝守 護
③ イ＝守 護 エ＝地 頭 ④ イ＝地 頭 エ＝公 文

問5 空欄 に入れる語句の組み合わせとして最も適当なものはどれか。次の①～④のうち一つをマークせよ。

- ① オ＝府 内 カ＝ヴァリニャーノ
② オ＝府 内 カ＝ガスパル＝ヴィレラ
③ オ＝島 原 カ＝ヴァリニャーノ
④ オ＝島 原 カ＝ガスパル＝ヴィレラ

問6 下線部(a)中の将軍として最も適当なものはどれか。次の①～④のうち一つをマークせよ。

16

- ① 源頼家 ② 源実朝 ③ 藤原頼経 ④ 宗尊親王

問7 下線部(b)についての文として最も適当なものはどれか。次の①～④のうち一つをマークせよ。

- ① 関東知行国の徴税を大友氏が請け負うことになっていた。
- ② 一族が関わる訴訟は、嫡男が代表して鎌倉幕府へ訴えることになっていた。
- ③ 嫡男が一族内で最も多くの知行を獲得することになっていた。
- ④ 所領の規模に応じて、鎌倉幕府からの負担を配分することになっていた。

問8 下線部(c)より後のできごととして最も適当なものはどれか。次の①～④のうち一つをマークせよ。

- ① 宝治合戦 ② 和田合戦 ③ 比企氏の乱 ④ 承久の乱

問9 下線部(d)が豊臣秀吉に攻め落とされたのはいつか。次の①～④のうち最も適当なものを一つマークせよ。

- ① 1585年 ② 1587年 ③ 1590年 ④ 1592年

問10 下線部(e)の帰国後に発せられた法令として最も適当なものはどれか。次の
①～④のうち一つをマークせよ。 20

- ① 海賊取締令 ② パテレン追放令
③ 刀狩令 ④ 人掃令

Ⅲ 次の文を読み、下の問い（問１～１０）に答えよ。

徳川綱吉の政治は、大老の が補佐しておこなわれたが、 が暗殺されたのちは側用人の がこれにかわった。

３年に綱吉の代替わりの武家諸法度が出され、^(a) 令の第１条は元和令以来の第１条から改められた。

綱吉は に学び、 に聖堂を建てるとともに を大学頭に任じた。

綱吉の時代は、幕府財政も転換期を迎えた。比較的豊かだった各地の鉱山で金・銀産出量が減少し、財政は収入減となった。そのうえ前代の徳川家綱の治世時に起きた の大火後の江戸城と市街の再建費用、引き続き寺社造営事業は大きな支出増となり、幕府財政の悪化をまねいた。

そこで勘定吟味役（のちに勘定奉行）の萩原重秀は、収入増の方策として貨幣の改鑄を上申し、綱吉はこれを採用した。改鑄で金の含有率を減らして質の劣った 小判を発行し、幕府は多大な収益を上げたが、貨幣価値の下落は物価の騰貴を引き起こし、人々の生活を圧迫した。さらに宝永４年には富士山^(b)が大噴火し、駿河・相模などの国々に降砂による大被害をもたらした。

問１ 空欄 に入れる人名として最も適当なものはどれか。次の①～④のうち一つをマークせよ。

- ① 保科正之 ② 堀田正睦 ③ 堀田正俊 ④ 井伊直弼

問２ 空欄 に入れる人名として最も適当なものはどれか。次の①～④のうち一つをマークせよ。

- ① 田沼意次 ② 柳沢吉保 ③ 安藤信正 ④ 阿部正弘

問３ 空欄 に入れる語句として最も適当なものはどれか。次の①～④のうち一つをマークせよ。

- ① 慶長 ② 慶安 ③ 寛永 ④ 天和

問4 空欄 に入れる人名として最も適当なものはどれか。次の①～④のうち一つをマークせよ。

- ① 木下順庵 ② 山片蟠桃 ③ 柴野栗山 ④ 平田篤胤

問5 空欄 に入れる地名として最も適当なものはどれか。次の①～④のうち一つをマークせよ。

- ① 日本橋 ② 小石川 ③ 石川島 ④ 湯 島

問6 空欄 に入れる人名として最も適当なものはどれか。次の①～④のうち一つをマークせよ。

- ① 林羅山 ② 林鷲峰
③ 林鳳岡（信篤） ④ 林子平

問7 空欄 に入れる語句として最も適当なものはどれか。次の①～④のうち一つをマークせよ。

- ① 明 暦 ② 明 和 ③ 文 化 ④ 寛 文

問8 空欄 に入れる語句として最も適当なものはどれか。次の①～④のうち一つをマークせよ。

- ① 元 禄 ② 万 延 ③ 正 徳 ④ 享 保

問9 下線部(a)の条文として最も適当なものはどれか。次の①～④のうち一つをマークせよ。

- ① 天子諸芸能の事，第一御学問也。
② 大名小名，在江戸交替，相定ル所也。
③ 文武弓馬ノ道，専ラ相嗜ムベキ事。
④ 文武忠孝を励し，礼儀を正すべき事。

問10 下線部(b)に関連して、『富嶽三十六景』を描いた人物として最も適切なものはどれか。次の①～④のうち一つをマークせよ。

30

- ① 鈴木春信 ② 尾形光琳 ③ 葛飾北斎 ④ 菱川師宣

IV

A 江戸に生まれた。幕府の英国留学生派遣に同行し、英国市民社会の実状にふれた。幕府の崩壊で帰国したのち、(a)スマイルズやミルの訳書を著して青年たちに大きな影響を与え、また森有礼らとともにア(b)の設立にも参画するなど、啓蒙思想の普及につとめた。

B 土佐国に生まれた。 [1] の演説を聞いて政治思想に目を開いた。1877年に [イ] に入り、国会開設を求める意見書「 [イ] 建白」の起草に関わった。その後、私擬憲法「東洋大日本国国憲按」を起草し、さらには [1] を総理（党首）とする自由党の結成にも参画した。

C 相模国に生まれた。『新潟新聞』の主筆として活動をしたのち、2を
総理（党首）とする立憲改進黨の結成にも携わった。ウ年に三大事件建
白運動が起こると、これに加わって民権派の団結と政府批判を呼びかけたが、そ
の年の12月にエにより東京退去を命じられた。のちに、第1次護憲運動
では立憲政友会の中心的人物として、桂首相を議会で糾弾して退陣に追い込んだ。

問1 空欄 1 に入れる人名として最も適当なものはどれか。次の①～④のうち一つをマークせよ。 31

- ① 板垣退助 ② 犬養毅 ③ 後藤象二郎 ④ 大久保利通

問2 空欄 2 に入れる人名として最も適当なものはどれか。次の①～④のうち一つをマークせよ。 32

- ① 伊藤博文 ② 井上馨 ③ 大隈重信 ④ 松方正義

問3 空欄 に入れる語句の組み合わせとして最も適当なものはどれか。次の①～④のうち一つをマークせよ。

- ① ア＝明六社 イ＝立志社 ② ア＝民友社 イ＝立志社
③ ア＝明六社 イ＝愛国社 ④ ア＝民友社 イ＝愛国社

問4 空欄 に入れる語句の組み合わせとして最も適当なものはどれか。次の①～④のうち一つをマークせよ。

- ① ウ＝1872 エ＝讒謗律 ② ウ＝1880 エ＝集会条例
③ ウ＝1887 エ＝保安条例 ④ ウ＝1900 エ＝治安警察法

問5 下線部(a)の著書の訳書名として最も適当なものはどれか。次の①～④のうち一つをマークせよ。

- ① 西洋事情 ② 民約訳解 ③ 自由之理 ④ 西国立志編

問6 下線部(b)に参画した人物として適当でないものはどれか。次の①～④のうち一つをマークせよ。

- ① 福沢諭吉 ② 西 周 ③ 加藤弘之 ④ 徳富蘇峰

問7 下線部(c)を総代として天皇に提出しようとした人物として最も適当なものはどれか。次の①～④のうち一つをマークせよ。

- ① 片岡健吉 ② 河野広中 ③ 大井憲太郎 ④ 三島通庸

問8 下線部(d)の条文として最も適当なものはどれか。次の①～④のうち一つをマークせよ。 38

- ① 日本臣民ハ法律ノ範圍内ニ於テ言論著作印行集会及結社ノ自由ヲ有ス
- ② 政府恣ニ国憲ニ背キ擅ニ人民ノ自由權利ヲ残害シ建国ノ旨趣ヲ妨クルトキハ日本国民ハ之ヲ覆滅シテ新政府ヲ建設スルコトヲ得
- ③ 帝国議會ハ貴族院衆議院ノ兩院ヲ以テ成立ス
- ④ 夫レ人民政府ニ対シテ租税ヲ払フノ義務アル者ハ、乃チ其政府ノ事ヲ予知可否スルノ權利ヲ有ス

問9 A・Bの人物名の組み合わせとして最も適当なものはどれか。次の①～④のうち一つをマークせよ。 39

- ① A = 中江兆民 B = 植木枝盛 ② A = 中村正直 B = 植木枝盛
- ③ A = 中江兆民 B = 星 亨 ④ A = 中村正直 B = 星 亨

問10 Cの人物についての文として最も適当なものはどれか。次の①～④のうち一つをマークせよ。 40

- ① いわゆる共和演説事件で首相を辞任した。
- ② 五・一五事件で暗殺された。
- ③ 「平民宰相」と称された。
- ④ 翼賛選挙では非推薦の候補であった。

世界史

(解答番号 ～)

I 次の文を読んで、下の問い（問1～17）に答えよ。

第一次世界大戦後のヨーロッパ諸国は、大戦で受けた経済的打撃の影響に苦しみ、政治においても変化を経験した。イギリスでは、1918年の第4回選挙法改正によって有権者が増加し、¹ 党に対する国民の支持が拡大した。1924年には 党の を首相とする内閣が誕生した。

フランスでは、1923年、右派の を首班とする政府が、ドイツの賠償支²払いの不履行を理由に、 とともにドイツのルール工業地帯を³占領した。⁴

しかし、国際世論の批判をまねき、翌年に成立した左派連合政権は、外相 の主導のもとでルールから撤兵した。 は、ドイツ外相の と協力して国際協調を模索し、⁵1925年には地域安全保障条約である 条約を成立させた。

ドイツは、1919年に を⁶大統領に⁷選出して、ヴァイマル共和国を発足させたが、政局は安定しなかった。賠償支払いとハイパーインフレーションに苦しむなか、1923年に首相に就任した はレンテンマルクを発行してインフレを鎮静化した。翌24年には各国の経済専門家による提案である 案によって賠償支払いが緩和され、ドイツ経済は回復していった。

問1 に最も適する語を次の①～④から一つ選んで、マークせよ。

① 自由

② 労働

③ 共和

④ 保守

問2 b に最も適する語を次の①～④から一つ選んで、マークせよ。

2

- | | |
|------------|---------------|
| ① ロイド=ジョージ | ② ネヴィル=チェンバレン |
| ③ マクドナルド | ④ ジョゼフ=チェンバレン |

問3 c に最も適する語を次の①～⑥から一つ選んで、マークせよ。

3

- | | | |
|---------|---------|----------|
| ① ブルム | ② ド=ゴール | ③ クレマンソー |
| ④ ティエール | ⑤ ポワンカレ | ⑥ ブリアン |

問4 d に最も適する語を次の①～④から一つ選んで、マークせよ。

4

- | | | | |
|--------|---------|--------|---------|
| ① ベルギー | ② ポーランド | ③ オランダ | ④ デンマーク |
|--------|---------|--------|---------|

問5 e に最も適する語を次の①～⑥から一つ選んで、マークせよ。

5

- | | | |
|---------|---------|----------|
| ① ブルム | ② ド=ゴール | ③ クレマンソー |
| ④ ティエール | ⑤ ポワンカレ | ⑥ ブリアン |

問6 f に最も適する語を次の①～⑧から一つ選んで、マークせよ。

6

- | | |
|------------|---------------|
| ① ベルンシュタイン | ② ヒンデンブルク |
| ③ ブラント | ④ カール=リープクネヒト |
| ⑤ シュトレーゼマン | ⑥ ローザ=ルクセンブルク |
| ⑦ アデナウアー | ⑧ エーベルト |

問7 g に最も適する語を次の①～④から一つ選んで、マークせよ。

7

- | | | | |
|--------|---------|-------|--------|
| ① セーヴル | ② トリアノン | ③ 不 戦 | ④ ロカルノ |
|--------|---------|-------|--------|

問8 h に最も適する語を次の①～⑧から一つ選んで、マークせよ。

8

- | | |
|------------|---------------|
| ① ベルンシュタイン | ② ヒンデンプルク |
| ③ ブラント | ④ カール＝リープクネヒト |
| ⑤ シュトレーゼマン | ⑥ ローザ＝ルクセンブルク |
| ⑦ アデナウアー | ⑧ エーベルト |

問9 i に最も適する語を次の①～④から一つ選んで、マークせよ。

9

- | | | | |
|-------|---------|-------|--------|
| ① ヤング | ② フーヴァー | ③ ドーズ | ④ ケロッグ |
|-------|---------|-------|--------|

問10 下線部1に関連して、次の(1), (2)に答えよ。

- (1) 14世紀のイギリスで、フランスとの百年戦争を始めた国王（在位1327～77）はだれか、最も適するものを次の①～④から一つ選んで、マークせよ。

10

- | | |
|-----------|---------|
| ① ヘンリ2世 | ② ジョン王 |
| ③ エドワード3世 | ④ ヘンリ7世 |

- (2) 18世紀のイギリスでおきた農業革命について述べた以下の文（ア），（イ）の正誤の組み合わせとして正しいものはどれか、次の①～④から一つ選んで、マークせよ。 11

（ア）「囲い込み」と呼ばれる土地制度改革によって促進された。

（イ） 農業生産が拡大し、大量の非農業人口をやしなえるようになった結果、都市化が進展した。

- | | |
|---------------|---------------|
| ① （ア）－正 （イ）－正 | ② （ア）－正 （イ）－誤 |
| ③ （ア）－誤 （イ）－正 | ④ （ア）－誤 （イ）－誤 |

問11 下線部2に関連して、次の(1), (2)に答えよ。

- (1) フランスの微生物学者で、狂犬病予防接種の開発に成功した人物（1822～95）はだれか、最も適するものを次の①～④から一つ選んで、マークせよ。

12

- | | |
|--------|----------|
| ① コッホ | ② パストゥール |
| ③ キュリー | ④ ファラデー |

- (2) 1898年に、フランスがイギリスとの衝突の危機に直面した出来事はどれか、最も適するものを次の①～④から一つ選んで、マークせよ。

13

- | | |
|-----------|------------|
| ① モロッコ事件 | ② ファショダ事件 |
| ③ ドレフュス事件 | ④ ブーランジェ事件 |

問12 下線部3に関連して、次の(1), (2)に答えよ。

- (1) 1834年に発足したドイツ関税同盟について述べた以下の文（ア）、（イ）の正誤の組み合わせとして正しいものはどれか、次の①～④から一つ選んで、マークせよ。

14

- （ア） プロイセンを中心としたものであった。
（イ） オーストリアも参加した。

- | | |
|---------------|---------------|
| ① （ア）－正 （イ）－正 | ② （ア）－正 （イ）－誤 |
| ③ （ア）－誤 （イ）－正 | ④ （ア）－誤 （イ）－誤 |

- (2) 第二次世界大戦後の西ドイツで、ソ連や東欧諸国との関係改善をめざして東方外交を開始した首相（在任1969～74）はだれか、最も適するものを次の①～⑧から一つ選んで、マークせよ。

15

- | | |
|------------|---------------|
| ① ベルンシュタイン | ② ヒンデンブルク |
| ③ ブラント | ④ カール＝リープクネヒト |
| ⑤ シュトレーゼマン | ⑥ ローザ＝ルクセンブルク |
| ⑦ アデナウアー | ⑧ エーベルト |

問13 下線部4に関連して、1804年に世界初の黒人共和国として独立しながら、独立の承認と引きかえにフランスに多額の賠償金を支払ったラテンアメリカの国はどれか、最も適するものを次の①～④から一つ選んで、マークせよ。

16

- ① キューバ ② ドミニカ ③ ベネズエラ ④ ハイチ

問14 下線部5に関連して、1925年の出来事はどれか、最も適するものを次の①～

④から一つ選んで、マークせよ。 17

- ① イランでパフレヴィー朝がひらかれた。
② ソ連で第1次五カ年計画が開始された。
③ 国民革命軍が北伐を開始した。
④ ムッソリーニが「ローマ進軍」を組織した。

問15 下線部6に関連して、1919年に亡くなったフランス印象派の画家ルノワールの代表作はどれか、最も適するものを次の①～④から一つ選んで、マークせよ。

18

- ① 「ムーラン=ド=ラ=ギャレット」 ② 「石割り」
③ 「サント=ヴィクトワール山」 ④ 「落ち穂拾い」

問16 下線部7に関連して、アメリカの大統領（ア）～（ウ）が、就任年の古いものから順に正しく配列されているものはどれか、次の①～⑥から一つ選んで、マークせよ。 19

- （ア） セオドア=ローズヴェルト
（イ） ウィルソン
（ウ） マッキンリー

- ① （ア）→（イ）→（ウ） ② （ア）→（ウ）→（イ）
③ （イ）→（ア）→（ウ） ④ （イ）→（ウ）→（ア）
⑤ （ウ）→（ア）→（イ） ⑥ （ウ）→（イ）→（ア）

問17 下線部8に関連して、ドイツの文豪ゲーテは、かつてドイツに存在したヴァイマル公国の宰相を務めた経験を有する。次のうちゲーテの作品はどれか、最も適するものを次の①～④から一つ選んで、マークせよ。

20

① 『悪の華』

② 『人間喜劇』

③ 『罪と罰』

④ 『ファウスト』

Ⅱ 次の文A, Bを読んで, 下の問い (問1～18) に答えよ。

A 北メソポタミアにおこったアッシリア王国は a を都とし, エジプトに進出していた b ¹王国を南方に退けるなどして, 全オリエントを征服した。しかし, やがて服属民の反抗をまねいて, アッシリアは前7世紀には崩壊した。²その後, オリエント世界には4つの王国が分立することとなった。

前6世紀半ばに c の政権を奪取してイラン人 (ペルシア人) の d ³がたてたアケメネス朝は, ユダヤ人を e から解放した。第3 ⁴代の王は広大な大帝国を建設し, オリエント世界を再び統一した。また, アケメネス朝は f を表音化して, ペルシア文字をつくった。

問1 a に最も適する語を次の①～⑧から一つ選んで, マークせよ。

21

- | | | |
|----------|----------|----------|
| ① ス サ | ② クテシフォン | ③ ペルセポリス |
| ④ ダマスクス | ⑤ テーベ | ⑥ ニネヴェ |
| ⑦ イエルサレム | ⑧ バビロン | |

問2 b に最も適する語を次の①～⑧から一つ選んで, マークせよ。

22

- | | | |
|---------|--------|----------|
| ① メディア | ② アッカド | ③ リディア |
| ④ マケドニア | ⑤ ミタンニ | ⑥ 新バビロニア |
| ⑦ クシュ | ⑧ ソンガイ | |

問3 c に最も適する語を次の①～⑧から一つ選んで, マークせよ。

23

- | | | |
|---------|--------|----------|
| ① メディア | ② アッカド | ③ リディア |
| ④ マケドニア | ⑤ ミタンニ | ⑥ 新バビロニア |
| ⑦ クシュ | ⑧ ソンガイ | |

問4 d に最も適する語を次の①～⑧から一つ選んで、マークせよ。

24

- | | | |
|--------------|--------------|--------------|
| ① ダレイオス 1 世 | ② シャープール 1 世 | ③ アルダシール 1 世 |
| ④ アッバース 1 世 | ⑤ ホスロー 1 世 | ⑥ キュロス 2 世 |
| ⑦ パフレヴィー 2 世 | ⑧ アルサケス | |

問5 e に最も適する語を次の①～⑧から一つ選んで、マークせよ。

25

- | | | |
|----------|----------|----------|
| ① ス サ | ② クテシフォン | ③ ペルセポリス |
| ④ ダマスクス | ⑤ テーベ | ⑥ ニネヴェ |
| ⑦ イエルサレム | ⑧ バビロン | |

問6 f に最も適する語を次の①～④から一つ選んで、マークせよ。

26

- | | | | |
|--------|--------|---------|---------|
| ① 楔形文字 | ② 線文字B | ③ アラム文字 | ④ メロエ文字 |
|--------|--------|---------|---------|

問7 下線部1について、アッシリア王国は前15世紀に一時ある国の支配下におかれたが、その国はどれか。最も適するものを次の①～⑧から一つ選んで、マークせよ。 27

- | | | |
|---------|--------|----------|
| ① メディア | ② アッカド | ③ リディア |
| ④ マケドニア | ⑤ ミタンニ | ⑥ 新バビロニア |
| ⑦ クシュ | ⑧ ソンガイ | |

問8 下線部2に関連して、前7世紀以降におこった出来事はどれか、最も適するものを次の①～④から一つ選んで、マークせよ。 28

- ① イスラエル王国が建国された。
- ② 周の王都が鎬京から洛邑にうつされた。
- ③ アンデス北部にチャビン文化が成立した。
- ④ ローマで十二表法が制定された。

問9 下線部3に関連して、次の(1), (2)に答えよ。

(1) イラン人と同じインド=ヨーロッパ語系に属する人々はどれか、最も適するものを次の①～④から一つ選んで、マークせよ。 29

- | | |
|----------|----------|
| ① フェニキア人 | ② シンハラ人 |
| ③ ヘブライ人 | ④ アヴァール人 |

(2) イラン人の民族的宗教であるゾロアスター教について述べた以下の文(ア), (イ)の正誤の組み合わせとして正しいものはどれか、次の①～④から一つ選んで、マークせよ。 30

- (ア) ゾロアスター教はユダヤ教やキリスト教に影響を与えたとされる。
- (イ) 前6世紀に教典『アヴェスター』がペルシア語で編纂された。

- | | |
|---------------|---------------|
| ① (ア)－正 (イ)－正 | ② (ア)－正 (イ)－誤 |
| ③ (ア)－誤 (イ)－正 | ④ (ア)－誤 (イ)－誤 |

問10 下線部4に関連して、アケメネス朝第3代の王がおこなったことについて述べた以下の文（ア）、（イ）の正誤の組み合わせとして正しいものはどれか、次の①～④から一つ選んで、マークせよ。 31

（ア） ギリシア人に対してペルシア戦争を始めた。

（イ） 全土を州に分け、それぞれに派遣した知事は「王の目」「王の耳」と呼ばれた。

- | | |
|---------------|---------------|
| ① （ア）－正 （イ）－正 | ② （ア）－正 （イ）－誤 |
| ③ （ア）－誤 （イ）－正 | ④ （ア）－誤 （イ）－誤 |

B 前3世紀のなかばに、⁵パルティアがカスピ海東南部に建国された。パルティアはティグリス川河畔の g を都と定め、東西貿易の利益を独占して栄えた。このパルティアをたおして h が建国したのが、⁶ササン朝である。ササン朝はシリアに侵入して⁷ローマ皇帝を捕らえ、さらに i は突厥と組んでエフタルを滅ぼした。ササン朝のもとで東西交易が成長すると、⁸イランの文化や文物の伝播は東アジアにまで及んだ。しかしその後ササン朝は新興勢力の j 人との戦いに敗れ、7世紀中ごろに滅んだ。

問11 g に最も適する語を次の①～⑧から一つ選んで、マークせよ。

32

- | | | |
|----------|----------|----------|
| ① ス サ | ② クテシフォン | ③ ペルセポリス |
| ④ ダマスクス | ⑤ テーベ | ⑥ ニネヴェ |
| ⑦ イエルサレム | ⑧ バビロン | |

問12 h に最も適する語を次の①～⑧から一つ選んで、マークせよ。

33

- ① ダレイオス 1 世 ② シャープール 1 世 ③ アルダシール 1 世
④ アッバース 1 世 ⑤ ホスロー 1 世 ⑥ キュロス 2 世
⑦ パフレヴィー 2 世 ⑧ アルサケス

問13 i に最も適する語を次の①～⑧から一つ選んで、マークせよ。

34

- ① ダレイオス 1 世 ② シャープール 1 世 ③ アルダシール 1 世
④ アッバース 1 世 ⑤ ホスロー 1 世 ⑥ キュロス 2 世
⑦ パフレヴィー 2 世 ⑧ アルサケス

問14 j に最も適する語を次の①～④から一つ選んで、マークせよ。

35

- ① アラブ ② ラテン ③ ソグド ④ トルコ

問15 下線部 5 に関連して、次の(1), (2)に答えよ。

(1) アケメネス朝の滅亡からパルティアの建国までの間は約何年か、最も適するものを次の①～④から一つ選んで、マークせよ。 36

- ① 約30年 ② 約80年 ③ 約130年 ④ 約180年

(2) パルティアは古代中国で何と呼ばれていたか、最も適するものを次の①～④から一つ選んで、マークせよ。 37

- ① 烏 孫 ② 安 息 ③ 大 宛 ④ 大 秦

問16 下線部 6 に関連して、ササン朝と同時期には存在していなかった王朝または国はどれか、次の①～④から一つ選んで、マークせよ。 38

- ① 隋 ② ヴァルダナ朝
③ 西ローマ帝国 ④ カロリング朝

問17 下線部7について、ササン朝と戦い捕虜となった皇帝（在位253～260）はどれか、最も適するものを次の①～④から一つ選んで、マークせよ。 39

① ユスティニアヌス

② ヘラクレイトス

③ テオドシウス

④ ウァレリアヌス

問18 下線部8に関連して、イランの文化や文物が東アジアに伝わったことについて述べた以下の文（ア）、（イ）の正誤の組み合わせとして正しいものはどれか、次の①～④から一つ選んで、マークせよ。 40

（ア） ペルシア伝来のポロが唐の貴族の間で流行した。

（イ） 法隆寺の獅子狩文錦の図案には、ササン朝文化の影響が見られる。

① （ア）－正 （イ）－正

② （ア）－正 （イ）－誤

③ （ア）－誤 （イ）－正

④ （ア）－誤 （イ）－誤