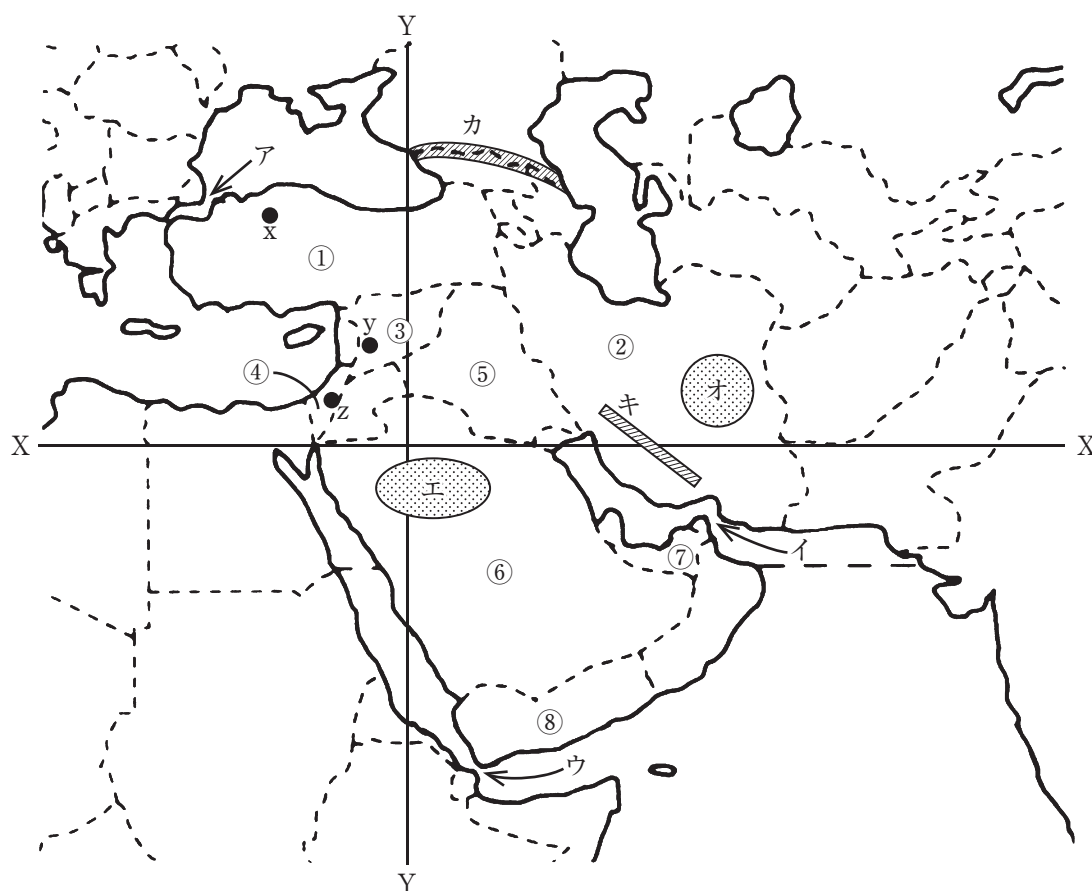


地 理(解答番号 ~)

I 次の西アジアの地図を見て、下の問い（問1～13）に答えよ。



問1 X・Yの組合せとして最も適当なものを、次の①～④のうちから一つ選びマークせよ。 1

- ① X：北緯20° Y：東経40° ② X：北緯20° Y：東経60°
③ X：北緯30° Y：東経40° ④ X：北緯30° Y：東経60°

問2 ア～ウの組合せとして最も適当なものを、次の①～④のうちから一つ選びマークせよ。 2

- ① ア：ボスポラス海峡 イ：ホルムズ海峡 ウ：マンダブ海峡
② ア：ボスポラス海峡 イ：マンダブ海峡 ウ：ホルムズ海峡
③ ア：マンダブ海峡 イ：ボスポラス海峡 ウ：ホルムズ海峡
④ ア：マンダブ海峡 イ：ホルムズ海峡 ウ：ボスポラス海峡

問3 エ・オの組合せとして最も適当なものを、次の①～④のうちから一つ選びマークせよ。 3

- ① エ：ネフド砂漠 オ：シリア砂漠
② エ：ネフド砂漠 オ：ルート砂漠
③ エ：ルブアルハリ砂漠 オ：シリア砂漠
④ エ：ルブアルハリ砂漠 オ：ルート砂漠

問4 カ・キのいずれかに該当する組合せとして最も適当なものを、次の①～④のうちから一つ選びマークせよ。 4

- ① カ：カフカス山脈・安定陸塊 ② キ：カフカス山脈・古期造山帯
③ カ：ザグロス山脈・古期造山帯 ④ キ：ザグロス山脈・新期造山帯

問5 x～zの各首都の気候について、気温の年較差が最大の都市と最小の都市の組合せとして最も適当なものを、次の①～④のうちから一つ選びマークせよ。

5

- ① 最大：x 最小：y ② 最大：x 最小：z
③ 最大：y 最小：x ④ 最大：z 最小：x

問6 x～zの各首都の気候について、冬季における降水量が最多の都市と最少の都市の組合せとして最も適当なものを、次の①～④のうちから一つ選びマークせよ。 6

- | | |
|-------------|-------------|
| ① 最多：x 最少：y | ② 最多：x 最少：z |
| ③ 最多：y 最少：x | ④ 最多：z 最少：y |

問7 次の文に該当する国を、地図中の①～⑧のうちから一つ選びマークせよ。

7

山地と高原が国土の大半を占め、現在の首都は内陸の高原上に位置する。かつての首都は海峡に臨む東西交通の要衝に立地していたので、東洋と西洋の文明が融合した独自の文化様式が見られる。隣国との国境地帯^aには国家を持たない少数民族が居住している。

問8 問7の文中の下線部aとして最も適当なものを、次の①～④のうちから一つ選びマークせよ。 8

- | | |
|-----------|----------|
| ① クルディスタン | ② トルキスタン |
| ③ パレスチナ | ④ メソポタミア |

問9 次の文に該当する国を、地図中の①～⑧のうちから一つ選びマークせよ。

9

イスラーム世界に属するものの、イスラームでは非主流のシーア派教徒が多数を占める。言語的にも多くがアラビア語で共通する他のイスラーム世界と異なり、ペルシア語を公用語としている。乾燥気候下にあり、農村では伝統的に地下水路^bが利用されてきた。

問10 問9の文中の下線部bとして最も適当なものを、次の①～④のうちから一つ選びマークせよ。 10

- | | |
|----------|--------|
| ① カナート | ② カレーズ |
| ③ カンアルチン | ④ フォガラ |

問11 次の文に該当する国を，地図中の①～⑧のうちから一つ選びマークせよ。

11

第二次世界大戦後に建国された新しい国家であるが、その歴史は古く、首都はユダヤ教・キリスト教・イスラームの共通の聖地ともなっている。建国以来、アラブ人との軋轢が絶えず、南部のアラブ人入植地では激しい戦闘が現在も行われている（2024年7月現在）。

問12 問11の文中の下線部cのうち、この国の宗教的シンボルとして最も適当なものを、次の①～④のうちから一つ選びマークせよ。

12

12

- ① 岩のドーム ② カーバ神殿 ③ 聖墳墓教会 ④ 嘆きの壁

問13 問11の文中の下線部dとして最も適当なものを、次の①～④のうちから一つ
 選びマークせよ。

13

- ① ガザ地区 ② ゴラン高原
- ③ ネゲヴ ④ ヨルダン川西岸地区

Ⅱ 次の地形図（平成17年発行）を見て、下の問い（問1～13）に答えよ。



問1 縮尺と等高線について述べた文として最も適当なものを、次の①～④のうちから一つ選びマークせよ。

- ① 2万5千分の1の縮尺で、300mの計曲線が見られる。
- ② 2万5千分の1の縮尺で、350mの主曲線が見られる。
- ③ 5万分の1の縮尺で、300mの主曲線が見られる。
- ④ 5万分の1の縮尺で、350mの計曲線が見られる。

問2 三角点のうち最高地点と最低地点の高度差として最も適当なものを、次の①～④のうちから一つ選びマークせよ。

- ① 約285m ② 約345m ③ 約405m ④ 約465m

問3 a 駅から b 駅までは図上で約5.5cmである。分速80m で歩いた場合にかかる時間として最も適当なものを、次の①～④のうちから一つ選びマークせよ。

- ① 約11分 ② 約14分 ③ 約17分 ④ 約20分

問4 a 駅付近に見られないものとして最も適当なものを、次の①～④のうちから一つ選びマークせよ。

- ① 交 番 ② 裁判所 ③ 小・中学校 ④ 郵便局

問5 魚崎浜町に見られないものとして最も適当なものを、次の①～④のうちから一つ選びマークせよ。

- ① 煙 突 ② 官公署 ③ 工 場 ④ 稅務署

問6 鉄道について述べた文として最も適当なものを、次の①～④のうちから一つ
選びマークせよ。 19

- ① JR 線は 1 線, JR 線以外も 1 線である。
- ② JR 線は 1 線, JR 線以外は 2 線である。
- ③ JR 線は 2 線, JR 線以外も 2 線である。
- ④ JR 線は 2 線, JR 線以外は 3 線である。

問7 国道の本数として最も適当なものを、次の①～④のうちから一つ選びマーク
せよ。 20

- ① 0 ② 1 ③ 2 ④ 3

問8 博物館・美術館を示す地図記号の数として最も適当なものを、次の①～④の
うちから一つ選びマークせよ。 21

- ① 0 ② 1 ③ 2 ④ 3

問9 山地部で卓越する植生として最も適当なものを、次の①～④のうちから一つ
選びマークせよ。 22

- ① 笹 地 ② 針葉樹林 ③ 竹 林 ④ ヤシ科樹林

問10 住吉川の説明として最も適当なものを、次の①～④のうちから一つ選びマー
クせよ。 23

- ① 上流から下流まで緩やかな勾配になっている。
- ② 上流部は建物密集地となっている。
- ③ 河口付近では岩がけが見られる。
- ④ 天井川となっている箇所が見られる。

問11 渦森台四丁目の説明として最も適当なものを、下の①～④のうちから一つ選
びマークせよ。

- ① 環濠集落として成立した。
- ② 宿場町としての名残を残している。
- ③ 住宅団地として造成された。
- ④ 門前町として発展してきた。

問12 次の表中の①～④は、大阪市・京都市・神戸市・堺市の面積と人口密度（2023年）を示したものである。神戸市に該当するものを、①～④のうちから一つ選びマークせよ。

	面積 (km ²)	人口密度 (人/km ²)
①	149. 83	5, 482. 4
②	225. 33	12, 167. 0
③	557. 03	2, 712. 5
④	827. 83	1, 673. 8

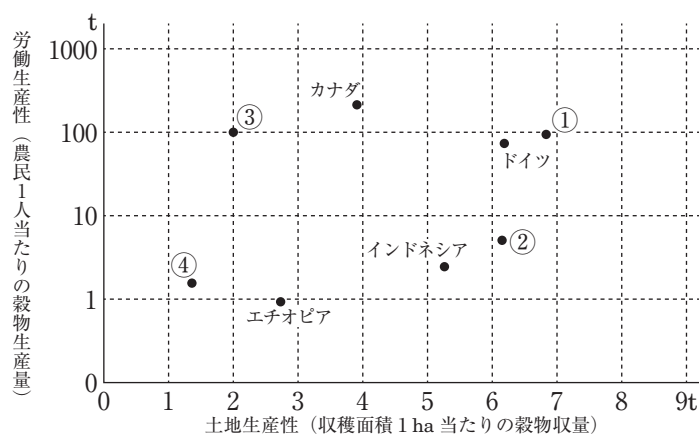
問13 日本の政令指定都市（2023年）の数として最も適当なものを，次の①～④のうちから一つ選びマークせよ。

- ① 10 ② 20 ③ 30 ④ 40

Ⅲ 農業と食料・食品問題に関する以下の問い（問 1～13）に答えよ。

問 1 次の図は、8 か国の労働生産性と土地生産性（2012年）を示したものであり、
①～④は、オーストラリア・ナイジェリア・日本・フランスいずれかである。
日本に該当する最も適当なものを、図 1 中の①～④のうちから一つ選びマーク
せよ。

27



(『FAOSTAT』による)

図 1

問2 次の表1中のA～Cは、アメリカ合衆国・オーストラリア・中国いずれかに
 おける日本への輸出農林水産物上位5品目（2023年，金額ベース）を示したも
 のである。A～Cと国名の組合せとして最も適当なものを，下の①～⑥のうち
 から一つ選びマークせよ。

28

表1

	A	B	C
1位	牛 肉	とうもろこし	冷凍野菜
2位	砂 糖	大 豆	鶏肉調製品
3位	菜 種	牛 肉	大豆油粕
4位	木材チップ	豚 肉	うなぎ（調整品）
5位	小 麦	小 麦	生鮮野菜

（『農林水産物輸出入概況』による）

	A	B	C
①	アメリカ合衆国	オーストラリア	中 国
②	アメリカ合衆国	中 国	オーストラリア
③	オーストラリア	アメリカ合衆国	中 国
④	オーストラリア	中 国	アメリカ合衆国
⑤	中 国	アメリカ合衆国	オーストラリア
⑥	中 国	オーストラリア	アメリカ合衆国

問3 次の表2は、日本のおもな農産物の輸入先上位3か国（2021年、重量ベース）を示したものであり、①～⑥はえび・かんきつ類・コーヒー生豆・植物性油脂・天然ゴム・バナナ（生鮮）のいずれかである。えびと植物性油脂に該当するものを、表2中の①～⑥のうちから一つずつ選び、えびは

 に、植物性油脂は

 にマークせよ。

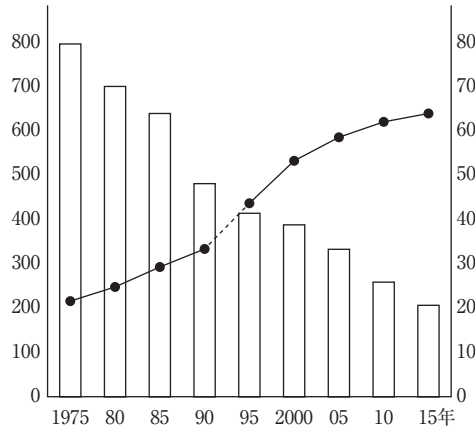
表2

	1 位	2 位	3 位
①	アメリカ合衆国	オーストラリア	南アフリカ共和国
②	インド	ベトナム	インドネシア
③	インドネシア	タ イ	ベトナム
④	フィリピン	エクアドル	メキシコ
⑤	ブラジル	ベトナム	コロンビア
⑥	マレーシア	インドネシア	スペイン

（『貿易統計』による）

問4 日本の農業について、次の図2中の棒グラフと折れ線グラフの組合せとして最も適当なものを、下の①～④のうちから一つ選びマークせよ。

31



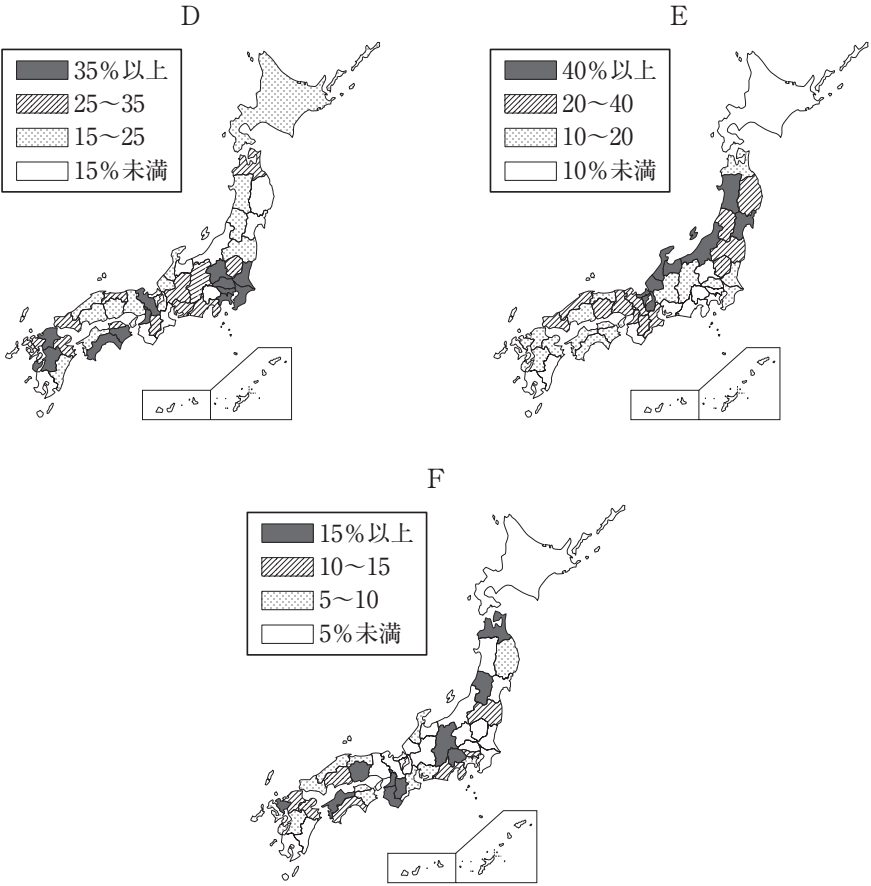
(『農林業センサス』による)

図2

- ① 棒グラフ：稲作の収穫量（左軸，万トン）
折れ線グラフ：農業産出額に占める稲作の割合（右軸，％）
- ② 棒グラフ：耕地面積（左軸，ha）
折れ線グラフ：耕地1ha当たりの農業産出額（右軸，千ドル）
- ③ 棒グラフ：農家数（左軸，万戸）
折れ線グラフ：農家数に占める主業農家の割合（右軸，％）
- ④ 棒グラフ：農業就業人口（左軸，万人）
折れ線グラフ：農業人口に占める65歳以上の割合（右軸，％）

問5 次の図3中のD～Fは、稲作・果樹栽培・野菜栽培いずれかにおける農業産出額割合上位の都道府県（2020年）を示したものである。D～Fと稲作・果樹栽培・野菜栽培の組合せとして最も適当なものを、下の①～⑥のうちから一つ選びマークせよ。

32



(『生産農業所得統計』による)

図3

	①	②	③	④	⑤	⑥
稲 作	D	D	E	E	F	F
果樹栽培	E	F	D	F	D	E
野菜栽培	F	E	F	D	E	D

問9 日本の農業政策の変遷として最も適当なものを、次の①～⑥のうちから一つ
選びマークせよ。 36

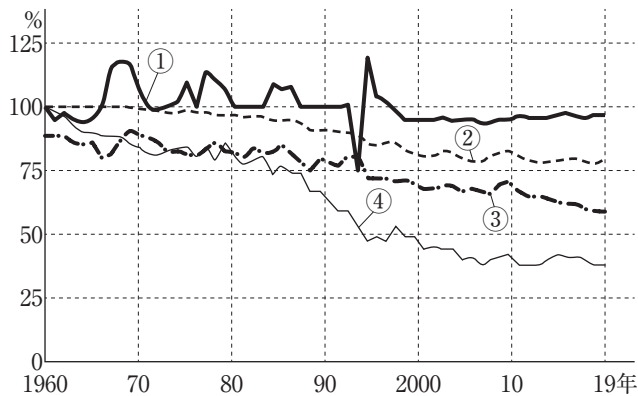
- ① 減反政策→米の輸入関税化→農地改革
- ② 減反政策→農地改革→米の輸入関税化
- ③ 米の輸入関税化→減反政策→農地改革
- ④ 米の輸入関税化→農地改革→減反政策
- ⑤ 農地改革→減反政策→米の輸入関税化
- ⑥ 農地改革→米の輸入関税化→減反政策

問10 近年の日本における農業の変化について述べた文として最も適当なものを、
次の①～④のうちから一つ選びマークせよ。 37

- ① おもにアジア諸国の富裕層に向けて、安価な日本ブランドの農産物輸出が増えている。
- ② 情報通信技術（ICT）を活用して農作業を効率化する、スマートアグリ of 技術開発が進んでいる。
- ③ 農業産出額の減少を受け、農業分野の外国人技能実習生の受け入れ数は減っている。
- ④ 和牛やいちごなど、日本で開発された新しい品種を海外にも積極的に普及させている。

問11 次の図4は、日本のおもな農産物の自給率（重量ベース）を示したものであり、①～④は果実、牛乳・乳製品、米、野菜のいずれかである。果実に該当する最も適当なものを、図4中の①～④のうちから一つ選びマークせよ。

38



(『食料需給表』による)

図4

問12 フードマイレージを活用した取組みの説明として最も適当なものを、次の①～④のうちから一つ選びマークせよ。

39

- ① 地元で生産された農産物の魅力を他地域に広く発信する取組み
- ② 食に関する知識とバランスのよい食を選択する力を習得する取組み
- ③ 先進国が発展途上国の農産物を適正な価格で輸入する取組み
- ④ 農産物の輸送が環境に与える影響を数値化して把握する取組み

問13 食品のトレーサビリティの説明として最も適当なものを、次の①～④のうちから一つ選びマークせよ。

40

- ① 健康被害を抑制するための残留農薬や食品添加物に関する規制の強化
- ② 原産地表示や遺伝子組換え食品表示の義務化
- ③ 食品が生産加工されて消費者に届くまでの流通経路が把握できる状態
- ④ 鳥インフルエンザなど伝染病の発生に備えた国際的な監視システムの強化

日 本 史

(解答番号 ～)

I 次の史料と文を読み、下の問い（問1～10）に答えよ。

高野領 国太田庄ならびに桑原方地頭職・尾道倉敷以下の事、下地においては知行を致し、年貢に至りては、毎年千石寺納すべきの旨、山名右衛門佐入道常熙に仰せられ畢んぬ。^(a)早く存知すべきの由、仰せ下さるるところなり。よって執達くだんの如し。

九年七月十九日
当寺衆徒中

沙弥（花押）

1402年、 畠山基国が將軍 の命令を受けて高野山金剛峯寺に出した文書である。文中の山名右衛門佐入道常熙は、山名時熙を指す。時熙は、 の乱で一族が討伐された後、^(c)山名氏の家督を認められ、 国守護をつとめた。

太田莊は、^(d)治承4年に南都を焼き打ちしたことで知られる から^(e)後白河上皇に寄進され、後に後白河から高野山に寄進された。鎌倉時代初期には、問注所の であった が地頭をつとめた。莊内の尾道には倉敷（倉庫の敷地）が設定され、年貢輸送の拠点として機能した。

問1 空欄 に入れる国名として最も適当なものはどれか。次の①～④のうち一つをマークせよ。

- ① 周 防 ② 備 後 ③ 但 馬 ④ 紀 伊

問2 空欄 に入れる人名として最も適当なものはどれか。次の①～④のうち一つをマークせよ。

- ① 和田義盛 ② 大江広元 ③ 三善康信 ④ 梶原景時

問3 空欄 に入れる年号の組み合わせとして最も適当なものはどれか。次の①～④のうち一つをマークせよ。

- ① ア=応 永 エ=明 徳 ② ア=明 徳 エ=応 永
③ ア=応 永 エ=観 応 ④ ア=観 応 エ=明 徳

問4 空欄 に入れる語句の組み合わせとして最も適当なものはどれか。次の①～④のうち一つをマークせよ。

- ① イ=執 事 カ=別 当 ② イ=別 当 カ=管 領
③ イ=管 領 カ=執 事 ④ イ=管 領 カ=別 当

問5 空欄 に入れる人名の組み合わせとして最も適当なものはどれか。次の①～④のうち一つをマークせよ。

- ① ウ=足利義満 オ=平清盛 ② ウ=足利義持 オ=平清盛
③ ウ=足利義満 オ=平重衡 ④ ウ=足利義持 オ=平重衡

問6 下線部(a)の内容として最も適当なものはどれか。次の①～④のうち一つをマークせよ。

- ① 山名時熙が年貢を徴収し、高野山に納めることを室町幕府が命じた。
② 高野山が年貢を徴収し、山名時熙に納めることを室町幕府が命じた。
③ 山名時熙が年貢を徴収し、室町幕府に納めることを高野山が命じた。
④ 高野山が年貢を徴収し、室町幕府に納めることを山名時熙が命じた。

問7 下線部(b)を開いた空海の作品として最も適当なものはどれか。次の①～④のうち一つをマークせよ。

- ① 離洛帖 ② 風信帖 ③ 秋萩帖 ④ 白氏詩卷

問8 下線部(c)とともに四職と称された氏族として適当でないものはどれか。次の①～④のうち一つをマークせよ。

- ① 大内氏 ② 一色氏 ③ 赤松氏 ④ 京極氏

問9 下線部(d)のできごととして最も適当なものはどれか。次の①～④のうち一つをマークせよ。 9

- | | |
|------------|----------|
| ① 屋島の戦い | ② 一の谷の戦い |
| ③ 倶利伽羅峠の戦い | ④ 富士川の戦い |

問10 下線部(e)についての文として最も適当なものはどれか。次の①～④のうち一つをマークせよ。 10

- | | |
|--------------|--------------|
| ① 白河上皇の孫である。 | ② 鳥羽上皇の弟である。 |
| ③ 高倉天皇の父である。 | ④ 以仁王の兄である。 |

Ⅱ 次の文を読み、下の問い（問1～10）に答えよ。

福井市内に左内町という町名がある。同町にある左内公園内には橋本左内の墓所がある。左内は福井藩の藩医の子として生まれた。大坂に出て の開いた適塾で蘭学・医学を学んだ。海外の文明や学問に強い関心を持った。彼の才能は藩主である にも認められ、藩政改革の一翼を担うことになった。左内は將軍継嗣問題では 家の慶喜を推し、大老の井伊直弼らと対立した。いわゆる安政の大獄で左内は処刑された。

また、左内町に近い、足羽川にかけられた幸橋のそばに由利公正の像がある。公正は左内とほぼ同じ時期に藩政改革をおこない、財政の立て直しで貢献した。明治に入り、 五箇条の誓文を起草した。

問1 空欄 に入れる人名として最も適当なものはどれか。次の①～④のうち一つをマークせよ。

- ① 荻生徂徠 ② 伊藤仁斎 ③ 林子平 ④ 緒方洪庵

問2 空欄 に入れる人名として最も適当なものはどれか。次の①～④のうち一つをマークせよ。

- ① 松平定信 ② 松平慶永 ③ 松平容保 ④ 松平定敬

問3 空欄 に入れる語句として最も適当なものはどれか。次の①～④のうち一つをマークせよ。

- ① 田 安 ② 一 橋 ③ 清 水 ④ 尾 張

問4 下線部(a)で学んだ人物として最も適当なものはどれか。次の①～④のうち一つをマークせよ。

- ① 福沢諭吉 ② 渋沢栄一 ③ 塙保己一 ④ 柳沢吉保

問5 下線部(b)に関連して、『ターヘル=アナトミア』の邦訳本として最も適切なものはどれか。次の①～④のうち一つをマークせよ。 15

- ① 蘭学階梯 ② 暦象新書 ③ 解体新書 ④ 西洋紀聞

問6 下線部(c)が就いた職名として最も適切なものはどれか。次の①～④のうち一つをマークせよ。 16

- ① 政事総裁職 ② 京都守護職 ③ 将軍後見職 ④ 大坂城代

問7 下線部(d)に就いた人物として最も適切なものはどれか。次の①～④のうち一つをマークせよ。 17

- ① 水野忠邦 ② 田沼意次 ③ 新井白石 ④ 堀田正俊

問8 下線部(e)が勅許を得ずに締結した条約として最も適切なものはどれか。次の①～④のうち一つをマークせよ。 18

- ① 日米和親条約 ② 日米修好通商条約
③ 日英和親条約 ④ 日露和親条約

問9 下線部(f)で処刑された人物として最も適切なものはどれか。次の①～④のうち一つをマークせよ。 19

- ① 高杉晋作 ② 佐久間象山 ③ 吉田松陰 ④ 坂本龍馬

問10 下線部(g)の一節として最も適当なものはどれか。次の①～④のうち一つを選び、マークせよ。

20

- ① 一 人タルモノ五倫ノ道ヲ正シクスベキ事
一 鰥寡孤独廢疾ノモノヲ憫ムベキ事
- ② 一 大ニ斯国是ヲ定メ制度規律ヲ建ツルハ御誓文ヲ以テ目的トス（略）
一 天下ノ権力総テコレヲ太政官ニ帰ス（略）
- ③ 然ルニ太政維新列藩版図ヲ奉還シ、辛未ノ歳ニ及ヒ遠ク郡県ノ古ニ復ス
- ④ 一 広ク会議ヲ興シ万機公論ニ決スベシ
（略）
一 官武一途庶民ニ至ル迄各其志ヲ遂ゲ人心ヲシテ倦ザラシメン事ヲ要ス
一 旧来ノ陋習ヲ破リ天地ノ公道ニ基クベシ

Ⅲ 次の文を読み、下の問い（問1～10）に答えよ。

日清戦争前後の産業革命期に入ると、待遇改善や賃金上げを要求する工業労働者のストライキが始まった。1897年にはアメリカの労働運動の影響を受けた ア ・ イ らが労働組合期成会を結成して労働運動の指導に乗り出し、熟練工を中心に労働者が団結して資本家に対抗する動きが現れた。

また1891年には 1 の鉱毒が渡良瀬川流域の農漁業に深刻な被害をもたらした公害事件^(a)が発生し、15年余りにわたって大きな社会問題となった。

こうした社会運動の盛り上がりに対して政府は、1900年に治安警察法^(b)を制定し、労働者の団結権・ストライキ権を制限して労働運動を取り締まった。^(c)その反面で、政府は労働条件を改善して労資対立を緩和しようとする社会政策の立場から、日本で最初の労働者保護法である 2 制定に向かった。しかし 2 は資本家の反対もあって、1911年によく制定されたが、きわめて不備な内容であったうえ、その実施も1916年^(d)にずれ込んだ。

第一次世界大戦が始まると、日本は産業の急速な発展によって好景気となり、労働者の数が大幅に増加した。その中で賃金上げを求める労働運動は大きく高揚し、労働争議の件数も急激に増加した。1912年、労働者階級の地位向上と労働組合育成とを目的に 3 によって組織された友愛会は、この時期、修養団体から労働組合の全国組織へと急速に発展した。1921年^(e)には名称を 4 と改めて、労資協調主義からしだいに階級闘争主義に方向を転換した。

問1 空欄 1 に入れる語句として最も適当なものはどれか。次の①～④のうち一つをマークせよ。 21

- ① 別子銅山 ② 生野銀山 ③ 高島炭鉱 ④ 足尾銅山

問2 空欄 2 に入れる語句として最も適当なものはどれか。次の①～④のうち一つをマークせよ。 22

- ① 労働組合法 ② 労働争議調停法
③ 工場法 ④ 労働基準法

問3 空欄 に入れる人名として最も適当なものはどれか。次の①～④のうち一つをマークせよ。

- ① 鈴木文治 ② 堺利彦 ③ 幸徳秋水 ④ 山川均

問4 空欄 に入れる語句として最も適当なものはどれか。次の①～④のうち一つをマークせよ。

- ① 日本労働組合総評議会 ② 日本労働総同盟
③ 日本労働組合総同盟 ④ 日本労働組合評議会

問5 空欄 に入れる人名の組み合わせとして最も適当なものはどれか。次の①～④のうち一つをマークせよ。

- ① ア＝賀川豊彦 イ＝片山潜
② ア＝片山潜 イ＝杉山元治郎
③ ア＝高野房太郎 イ＝片山潜
④ ア＝賀川豊彦 イ＝高野房太郎

問6 下線部(a)に関連して、この問題を帝国議会で取り上げ、のちに谷中村に住み、解決に奔走した人物として最も適当なものはどれか。次の①～④のうち一つをマークせよ。

- ① 田中正造 ② 木下尚江 ③ 安部磯雄 ④ 尾崎行雄

問7 下線部(b)に伊藤博文を総裁として結成された政党として最も適当なものはどれか。次の①～④のうち一つをマークせよ。

- ① 立憲民政党 ② 立憲政友会 ③ 立憲改進黨 ④ 立憲自由党

問8 下線部(c)を根拠として1901年に解散を命じられた政党として最も適当なものはどれか。次の①～④のうち一つをマークせよ。

- ① 日本社会党 ② 日本共産党 ③ 社会民主党 ④ 労働農民党

問9 下線部(d)に民本主義を提唱する論文を『中央公論』誌上に発表した人物として最も適当なものはどれか。次の①～④のうち一つをマークせよ。 29

- ① 河上肇 ② 吉野作造 ③ 石橋湛山 ④ 柳田国男

問10 下線部(e)に暗殺された首相として最も適当なものはどれか。次の①～④のうち一つをマークせよ。 30

- ① 高橋是清 ② 犬養毅 ③ 浜口雄幸 ④ 原 敬

Ⅳ 次の文を読み、下の問い（問 1～10）に答えよ。

高度経済成長期^(a)の1964年^(b)には東京^(c)で第18回オリンピック競技大会が開催され、
1970年^(d)には大阪で日本万国博覧会が開催された。経済面・文化面^(e)での日本の発展を
世界に示す、国家的イベントとなった。

問 1 下線部(a)における景気の上昇局面を年代の早い順に並べた場合、最も適切なものはどれか。次の①～④のうち一つをマークせよ。 31

- ① 神武景気 → 岩戸景気 → いざなぎ景気
- ② 神武景気 → いざなぎ景気 → 岩戸景気
- ③ 岩戸景気 → 神武景気 → いざなぎ景気
- ④ いざなぎ景気 → 岩戸景気 → 神武景気

問 2 同じく下線部(a)において家庭への普及が進み、1950年代後半には「三種の神器」と呼ばれた製品の組み合わせとして最も適切なものはどれか。次の①～④のうち一つをマークせよ。 32

- ① 白黒テレビ・電気洗濯機・クーラー
- ② 白黒テレビ・電気冷蔵庫・電気洗濯機
- ③ 電気冷蔵庫・電気洗濯機・自動車
- ④ 電気冷蔵庫・電気洗濯機・クーラー

問 3 同じく下線部(a)において「国民所得倍增計画」を打ち出した首相として最も適切なものはどれか。次の①～④のうち一つをマークせよ。 33

- ① 吉田茂 ② 岸信介 ③ 池田勇人 ④ 田中角栄

問9 下線部(e)に関連して、1965年に日本人でノーベル賞を受賞した人物として最も適当なものはどれか。次の①～④のうち一つをマークせよ。

39

- ① 長岡半太郎 ② 北里柴三郎 ③ 湯川秀樹 ④ 朝永振一郎

問10 同じく下線部(e)に関連して、『点と線』などの社会派推理小説の作家として最も適当なものはどれか。次の①～④のうち一つをマークせよ。

40

- ① 大岡昇平 ② 松本清張 ③ 司馬遼太郎 ④ 大江健三郎

世 界 史

(解答番号 ～)

I あゆみさん、まやさん、ますみさんはヨーロッパの文化を専攻する学生である。
三人の会話文を読み、以下の問い（問1～20）に答えよ。

あゆみ 19世紀のヨーロッパ文化を特徴づける潮流として¹ロマン主義がある。美術
では「月をながめる2人の男」を描いたドイツの や「キオス島の
虐殺」で知られるフランスの が有名だよ。

まや ほかに文学では、『ドイツ冬物語』の や『大尉の娘』の
 , 『草の葉』の などがいるね。

ますみ ロマン主義芸術の特徴は、言語や伝統のなかに民族の精神が宿っていると
考え、²ナショナリズムの風潮と結びついている点だね。

あゆみ 思想に関しては、この時代にはさまざまな³哲学者もいるよ。弁証法哲学を
確立したドイツの や、イギリスの の社会進化論なども
この時代に出てきたんだ。

まや 経済思想では、『資本論』を著したドイツの が⁴資本主義経済を
批判的に分析し、またイギリスの は古典派経済学の発展に貢献し
ているね。

ますみ 自然科学の分野でもさまざまな発展があったよ。とりわけ がと
なえた進化論は、⁵19世紀後半において宗教的な価値観をも揺るがす大きな衝
撃を与えたんだ。

あゆみ ほかに、⁶無線電信や電話や映画など、現代社会には欠かせない技術の原
型がつくられたのがこの時代だったよね。

まや 科学技術の分野では、⁷17世紀の科学革命によって基礎がつくれ、⁸18世紀
以降には⁹産業革命と結びついて発展し、さらに19世紀に第2次産業革命がお
こって¹⁰重化学工業や鉄鋼業などの産業の振興につながったんだね。

問1 に最も適する語を次の①～⑥から一つ選んで、マークせよ。

- | | |
|---------------|--------|
| ① ロダン | ② ゴーガン |
| ③ カスパー＝フリードリヒ | ④ ダヴィド |
| ⑤ ドラクロワ | ⑥ ミレー |

問2 に最も適する語を次の①～⑥から一つ選んで、マークせよ。

- | | |
|---------------|--------|
| ① ロダン | ② ゴーガン |
| ③ カスパー＝フリードリヒ | ④ ダヴィド |
| ⑤ ドラクロワ | ⑥ ミレー |

問3 に最も適する語を次の①～④から一つ選んで、マークせよ。

- | | | | |
|-------|-------|-------|--------|
| ① ゲーテ | ② シラー | ③ ハイネ | ④ ワグナー |
|-------|-------|-------|--------|

問4 に最も適する語を次の①～④から一つ選んで、マークせよ。

- | | |
|------------|---------|
| ① トゥルゲーネフ | ② プーシキン |
| ③ ドストエフスキー | ④ トルストイ |

問5 に最も適する語を次の①～④から一つ選んで、マークせよ。

- | | |
|------------|---------|
| ① ホイットマン | ② デイケンズ |
| ③ メアリ＝シェリー | ④ バイロン |

問6 f に最も適する語を次の①～⑥から一つ選んで、マークせよ。

6

- | | | |
|--------|--------|---------|
| ① ベンサム | ② ヘーゲル | ③ スペンサー |
| ④ デカルト | ⑤ ランケ | ⑥ コント |

問7 g に最も適する語を次の①～⑥から一つ選んで、マークせよ。

7

- | | | |
|--------|--------|---------|
| ① ベンサム | ② ヘーゲル | ③ スペンサー |
| ④ デカルト | ⑤ ランケ | ⑥ コント |

問8 h に最も適する語を次の①～⑥から一つ選んで、マークせよ。

8

- | | | |
|-------|--------|---------|
| ① ケネー | ② マルクス | ③ ヴェーバー |
| ④ リスト | ⑤ リカード | ⑥ ケインズ |

問9 i に最も適する語を次の①～⑥から一つ選んで、マークせよ。

9

- | | | |
|-------|--------|---------|
| ① ケネー | ② マルクス | ③ ヴェーバー |
| ④ リスト | ⑤ リカード | ⑥ ケインズ |

問10 j に最も適する語を次の①～④から一つ選んで、マークせよ。

10

- | | | | |
|-------|---------|---------|---------|
| ① リンネ | ② ファラデー | ③ レントゲン | ④ ダーウィン |
|-------|---------|---------|---------|

問11 下線部1に関連して、ロマン主義とその前後の時代における芸術思潮について述べた文（ア）、（イ）の正誤の組み合わせとして正しいものはどれか、次の

①～④から一つ選んで、マークせよ。

11

（ア） 絵画の分野ではロマン主義が盛んになる前には印象派が栄えていた。

（イ） 文学の分野では古典主義に代わってロマン主義が盛んになった。

① （ア）－正 （イ）－正

② （ア）－正 （イ）－誤

③ （ア）－誤 （イ）－正

④ （ア）－誤 （イ）－誤

問12 下線部2に関連して、ナショナリズムと各地での出来事について述べた文として正しいものはどれか、最も適するものを次の①～④から一つ選んで、マークせよ。

12

① ムスタファ＝ケマルは抵抗運動を組織し、1923年にトルコ共和国を樹立した。

② レザー＝ハーンはパフレヴィー朝を開き、国名をイラクと改めた。

③ ウィーン会議の結果、ナショナリズムに基づくウィーン体制がつくられた。

④ イタリアでは国民国家の形成をめざしてブルシェンシャフト運動がおこった。

問13 下線部3に関連して、ヨーロッパの哲学者について述べた文として正しいものはどれか、最も適するものを次の①～④から一つ選んで、マークせよ。

13

① プロタゴラスは『国家』で哲人政治を理想とした。

② ニーチェは実証主義の哲学を確立した。

③ スコラ学者のアベラールは唯名論をとらえた。

④ ライプニッツは汎神論をとらえた。

問14 下線部4に関連して、資本主義陣営と共産主義陣営の対立である冷戦について述べた文（ア），（イ）の正誤の組み合わせとして正しいものはどれか，次の

①～④から一つ選んで，マークせよ。 14

（ア） トルーマンはギリシア・トルコの共産主義化を阻止する封じ込め政策を実施した。

（イ） スターリンの死後，フルシチョフはアイゼンハワーと会談した。

- | | |
|---------------|---------------|
| ① （ア）－正 （イ）－正 | ② （ア）－正 （イ）－誤 |
| ③ （ア）－誤 （イ）－正 | ④ （ア）－誤 （イ）－誤 |

問15 下線部5に関連して、19世紀後半の科学技術について述べた文として正しいものはどれか，最も適するものを次の①～④から一つ選んで，マークせよ。

15

- ① コッホが放射性物質を発見した。
- ② マイヤーが遺伝の法則を発見した。
- ③ ヘルムホルツがX線を発見した。
- ④ ノーベルがダイナマイトを発明した。

問16 下線部6に関連して、無線電信を開発したイタリアの技術者（1874～1937）はだれか，最も適するものを次の①～④から一つ選んで，マークせよ。

16

- ① エディソン ② マルコーニ ③ ベル ④ モールス

問17 下線部7に関連して、17世紀の出来事はどれか，最も適するものを次の①～④から一つ選んで，マークせよ。 17

- ① イギリスがヴァージニア植民地を建設した。
- ② ユグノー戦争がおこった。
- ③ 北方戦争が終結した。
- ④ プロイセンが王国となった。

問18 下線部8に関連して、18世紀の出来事はどれか、最も適するものを次の①～

④から一つ選んで、マークせよ。 18

- ① アメリカ＝イギリス戦争がおこった。
- ② ピョートル1世が清との間にネルチンスク条約を結んだ。
- ③ オスマン帝国が第2次ウィーン包囲をおこなった。
- ④ コシュエシコ（コシチューシコ）が義勇軍を率いて蜂起した。

問19 下線部9に関連して、産業革命について述べた文として正しいものはどれか、

最も適するものを次の①～④から一つ選んで、マークせよ。 19

- ① ジョン＝ケイが水力紡績機を開発し綿糸の生産が増加した。
- ② スティーヴンソンが蒸気船を実用化した。
- ③ カートライトが蒸気機関を改良し、多方面への利用を可能にした。
- ④ ダービーがコークス製鉄法を開発した。

問20 下線部10に関連して、南北戦争後のアメリカで鉄鋼業の巨大トラストを形成した人物（1835～1919）はだれか、最も適するものを次の①～④から一つ選ん

で、マークせよ。 20

- | | |
|-----------|-----------|
| ① ロックフェラー | ② フォード |
| ③ カーネギー | ④ ロスチャイルド |

Ⅱ 次の文を読んで、下の問い（問1～14）に答えよ。

前7世紀～前5世紀ごろのインドでは、ヒンドゥスターン平原を流れる
[a] 川流域に多数の都市国家が生まれた。そのなかでも [b] を滅ぼし
た [c] が勢力を伸ばした。農業や商業の発展を背景に新しい¹宗教も生まれた。
前4世紀には [d] の遠征軍が [e] 川流域まで進出し、その後
[f] が南アジア最初の統一王朝となる [g] 朝をたてた。[h] の
死後衰退した [g] 朝ののち、1世紀にたてられた [i] 朝は、
[j] のもとで最盛期を迎えた。一方、デカン高原で前1世紀ごろに成立した
[k] 朝はインド洋²交易を盛んにおこなった。また、インド南端部では
[l] 系の [m] 語による³文学が栄えた。

問1 [a] に最も適する語を次の①～⑥から一つ選んで、マークせよ。

21

- | | |
|---------|------------------|
| ① インダス | ② エーヤワディー（イラワディ） |
| ③ ガンジス | ④ チャオプラヤ |
| ⑤ ニジェール | ⑥ メコン |

問2 [b] ・ [c] に最も適する語の組み合わせはどれか、次の①～⑥

から一つ選んで、マークせよ。

22

- | | |
|--------------|------------|
| ① b - アッカド王国 | c - コーサラ国 |
| ② b - アッカド王国 | c - マガダ国 |
| ③ b - コーサラ国 | c - アッカド王国 |
| ④ b - コーサラ国 | c - マガダ国 |
| ⑤ b - マガダ国 | c - アッカド王国 |
| ⑥ b - マガダ国 | c - コーサラ国 |

問3 d に最も適する語を次の①～④から一つ選んで、マークせよ。

23

- | | |
|------------|-----------|
| ① アレクサンドロス | ② ダレイオス1世 |
| ③ テミストクレス | ④ ペリクレス |

問4 e に最も適する語を次の①～⑥から一つ選んで、マークせよ。

24

- | | |
|---------|------------------|
| ① インダス | ② エーヤワディー（イラワディ） |
| ③ ガンジス | ④ チャオプラヤ |
| ⑤ ニジェール | ⑥ メコン |

問5 f に最も適する語を次の①～⑧から一つ選んで、マークせよ。

25

- | | |
|------------|-------------|
| ① アショーカ王 | ② アッシェルバニパル |
| ③ アルダシール1世 | ④ カニシカ王 |
| ⑤ シャープール1世 | ⑥ チャンドラグプタ |
| ⑦ ハルシャ王 | ⑧ ホスロー1世 |

問6 g に最も適する語を次の①～⑧から一つ選んで、マークせよ。

26

- | | | |
|-----------|---------|------------|
| ① ウマイヤ | ② クシャーナ | ③ サータヴァーハナ |
| ④ シャイレンドラ | ⑤ スコータイ | ⑥ チョーラ |
| ⑦ パガン | ⑧ マウリヤ | |

問7 h に最も適する語を次の①～⑧から一つ選んで、マークせよ。

27

- | | |
|------------|-------------|
| ① アショーク王 | ② アッシェルバニパル |
| ③ アルダシール1世 | ④ カニシカ王 |
| ⑤ シャープール1世 | ⑥ チャンドラグプタ |
| ⑦ ハルシャ王 | ⑧ ホスロー1世 |

問8 i に最も適する語を次の①～⑧から一つ選んで、マークせよ。

28

- | | | |
|-----------|---------|------------|
| ① ウマイヤ | ② クシャーナ | ③ サータヴァーハナ |
| ④ シャイレンドラ | ⑤ スコータイ | ⑥ チョーラ |
| ⑦ パガン | ⑧ マウリヤ | |

問9 j に最も適する語を次の①～⑧から一つ選んで、マークせよ。

29

- | | |
|------------|-------------|
| ① アショーク王 | ② アッシェルバニパル |
| ③ アルダシール1世 | ④ カニシカ王 |
| ⑤ シャープール1世 | ⑥ チャンドラグプタ |
| ⑦ ハルシャ王 | ⑧ ホスロー1世 |

問10 k に最も適する語を次の①～⑧から一つ選んで、マークせよ。

30

- | | | |
|-----------|---------|------------|
| ① ウマイヤ | ② クシャーナ | ③ サータヴァーハナ |
| ④ シャイレンドラ | ⑤ スコータイ | ⑥ チョーラ |
| ⑦ パガン | ⑧ マウリヤ | |

問11 l ・ m に最も適する語の組み合わせはどれか、次の①～⑥から一つ選んで、マークせよ。 31

- | | | | | | | |
|---|---|---|-------|---|---|---------|
| ① | l | － | アルタイ | m | － | サンスクリット |
| ② | l | － | アルタイ | m | － | タミル |
| ③ | l | － | ドラヴィダ | m | － | サンスクリット |
| ④ | l | － | ドラヴィダ | m | － | タミル |
| ⑤ | l | － | バントゥー | m | － | サンスクリット |
| ⑥ | l | － | バントゥー | m | － | タミル |

問12 下線部 1 に関連して、次の(1)～(3)に答えよ。

(1) ヴェーダを聖典とし、のちのヒンドゥー教の原型となった宗教はどれか、最も適するものを次の①～⑧から一つ選んで、マークせよ。 32

- | | |
|----------------|----------|
| ① シク教 | ② ジャイナ教 |
| ③ ゴロアスター教 | ④ チベット仏教 |
| ⑤ ネストリウス派キリスト教 | ⑥ バラモン教 |
| ⑦ マニ教 | ⑧ ユダヤ教 |

(2) 中国で祆教と呼ばれた宗教はどれか、最も適するものを次の①～⑧から一つ選んで、マークせよ。 33

- | | |
|----------------|----------|
| ① シク教 | ② ジャイナ教 |
| ③ ゴロアスター教 | ④ チベット仏教 |
| ⑤ ネストリウス派キリスト教 | ⑥ バラモン教 |
| ⑦ マニ教 | ⑧ ユダヤ教 |

(3) 3世紀に創始され、北アフリカや中央ユーラシアに広まった宗教はどれか、最も適するものを次の①～⑧から一つ選んで、マークせよ。 34

- | | |
|----------------|----------|
| ① シク教 | ② ジャイナ教 |
| ③ ゴロアスター教 | ④ チベット仏教 |
| ⑤ ネストリウス派キリスト教 | ⑥ バラモン教 |
| ⑦ マニ教 | ⑧ ユダヤ教 |

問13 下線部2に関連して、次の(1)～(3)に答えよ。

(1) 1～2世紀に書かれた紅海からインド洋にかけての交易や地理について記したものはどれか、最も適するものを次の①～④から一つ選んで、マークせよ。 35

- | | |
|-----------------|------------------|
| ① 『エリュトウラー海案内記』 | ② 『大唐西域記』 |
| ③ 『南海寄帰内法伝』 | ④ 『大旅行記（三大陸周遊記）』 |

(2) 交易に関する以下の文（ア）、（イ）の正誤の組み合わせとして正しいものはどれか、次の①～④から一つ選んで、マークせよ。 36

（ア）グプタ朝は突厥の侵入による西方交易の不振などで弱体化し、6世紀半ばに滅亡した。

（イ）ジャンク船は中国商人による南シナ海交易で活用された。

- | | |
|---------------|---------------|
| ① （ア）－正 （イ）－正 | ② （ア）－正 （イ）－誤 |
| ③ （ア）－誤 （イ）－正 | ④ （ア）－誤 （イ）－誤 |

(3) アナトリア方面との交易で繁栄したが、前7世紀に崩壊した国はどれか、最も適するものを次の①～④から一つ選んで、マークせよ。 37

- | | |
|-----------|---------|
| ① アッシリア王国 | ② クシュ王国 |
| ③ 新バビロニア | ④ リディア |

問14 下線部3に関連して、次の(1)～(3)に答えよ。

(1) カーリダーサが著した文学作品はどれか、最も適するものを次の①～④から一つ選んで、マークせよ。 38

- | | |
|--------------|-------------|
| ① 『シャクンタラー』 | ② 『マハーバーラタ』 |
| ③ 『バーブル=ナーマ』 | ④ 『ラーマーヤナ』 |

(2) 白話（口語）文学を提唱したのはだれか、最も適するものを次の①～④から一つ選んで、マークせよ。 39

- | | | | |
|-------|-------|-------|-------|
| ① 胡 適 | ② 司馬光 | ③ 錢大昕 | ④ 韓 愈 |
|-------|-------|-------|-------|

(3) 『旧約聖書』やギリシア神話に影響を与えた作品はどれか、最も適するものを次の①～④から一つ選んで、マークせよ。 40

- | | |
|-------------|---------------|
| ① 『対比列伝』 | ② 『ギルガメシュ叙事詩』 |
| ③ 『シャー=ナーメ』 | ④ 『千夜一夜物語』 |