

地 理

(解答番号 ～)

I カルロスさんとモエさんは、大学構内で写真を見ながら夏休みの帰郷について話している。次の写真と会話文を見て、下の問い（問1～13）に答えよ。

(写真は掲載していません)

カルロス：夏の母国ブラジルへの帰郷は楽しかった。久しぶりにボクの国の母国語^aでたくさん話したよ。故郷のマナオス^bだけでなく、兄の住むポルトアレグレにも滞在し、二人でイグアスの滝も見に行ったんだ。

モエ：左上の写真がポルトアレグレね。きれいな都市だわ。でもイグアスの滝^cで、ブラジルの首都よりもかなり南で、三つの国^dの国境付近にあるって聞いたわ。広域にわたる移動だったのね。

カルロス：そうなんだ。実はそのまま足をのばしてパタゴニア^eにも行きたかったけど、案内してくれるはずだった日本で働いている日系ブラジル人^fの友人が忙しくて帰国できなかったの、残念ながら延期したよ。

モエ：いつか私も南米へ行ってみたいな。アンデス山脈^gにも行きたいの。アンデス^hの高地に住む人々の暮らしにとっても興味があるもの。

カルロス：アンデスといえば、昨年チチカカ湖ⁱに行ったよ。右上の写真にある湖上の集落に驚いたね。あと、湖の東南部^jが属する国の首都から400kmほど南東に向かつて、世界遺産に登録された鉱山都市^kも見に行ったんだ。

モエ：南米の国々や都市は多種多様で、どこも魅力的よね。

カルロス：でも、南米の国々や都市には多くの問題があるんだ。下の写真は姉の住んでいるサンパウロだけど、ここをはじめ南米諸国の大都市にはスラム地区も多く、所得格差や治安の問題がある。また国レベルでみると、経済共同体^lをはじめとした地域経済統合が進み、経済的に発展してきたものの^m、一方で課題も多く残っているんだ。ボクの故郷周辺の環境破壊も、地球レベルの大きな問題だよ。

問1 下線部aについて、この国の公用語として最も適当なものを、次の①～④のうちから一つ選びマークせよ。 1

- ① 英語 ② オランダ語 ③ スペイン語 ④ ポルトガル語

問2 下線部bが属する気候区（ケッペンの気候区分）として最も適当なものを、次の①～④のうちから一つ選びマークせよ。 2

- ① Af ② BS ③ Cfa ④ Cw

問3 下線部cについて、旧首都と現首都の組合せとして最も適切なものを、次の

①～④のうちから一つ選びマークせよ。

3

- | | |
|----------------|--------------|
| ① 旧首都：サンパウロ | 新首都：ブラジリア |
| ② 旧首都：サンパウロ | 新首都：リオデジャネイロ |
| ③ 旧首都：ブラジリア | 新首都：サンパウロ |
| ④ 旧首都：リオデジャネイロ | 新首都：ブラジリア |

問4 下線部dに該当しないものを、次の①～④のうちから一つ選びマークせよ。

4

- | | |
|----------|---------|
| ① アルゼンチン | ② ウルグアイ |
| ③ パラグアイ | ④ ブラジル |

問5 下線部eについて述べた事柄として最も適切なものを、次の①～④のうちから一つ選びマークせよ。

5

- | | |
|--------------------|---------------|
| ① アンデス山脈の西側に位置する | ② 寒冷な南西風が卓越する |
| ③ 大部分が南緯40度より北側にある | ④ 南西部に首都が立地する |

問6 下線部fに関連する事項を述べた文として最も適切なものを、次の①～④のうちから一つ選びマークせよ。

6

- ① 日本人が南米への移住を開始したのは、昭和初期からである。
- ② 当初、南米へ渡った日本人の多くは、現地でおもに工業技術者として雇用された。
- ③ 1990年の入管法（出入国管理及び難民認定法）の改正により、来日し在留する日系人が増加した。
- ④ 2024年末の日本における在留外国人数の中で、ブラジル人は第2位の人口規模を持つ。

問7 下線部 g と形成期が同じ時期でないものを，次の①～④のうちから一つ選びマークせよ。 7

- | | |
|-----------|-------------|
| ① アペニン山脈 | ② エルブールズ山脈 |
| ③ テンシャン山脈 | ④ ヒンドゥークシ山脈 |

問8 下線部 h について述べた文として最も適当なものを，次の①～④のうちから一つ選びマークせよ。 8

- ① 高地の寒暖差を利用したとうもろこしの保存食チューニョがつけられている。
- ② 山中に居住するインディオにはアイマラ語やケチュア語の話者も多い。
- ③ 標高が高いため沸点が高く，低地と比べて調理法が異なることがある。
- ④ 民族構成をみると，ボリビアとペルーはともに約8割を先住民が占める。

問9 下線部 i について述べた文として最も適当なものを，次の①～④のうちから一つ選びマークせよ。 9

- ① 2000年以降は，沿岸に加え湖底でも採油されるようになった。
- ② 汽船が航行できる湖としては，世界で最も高所にある。
- ③ 世界最高地点にある塩湖であり，塩分濃度は25%を超える。
- ④ 世界最大の深度を持つ，透明度の高い汽水湖である。

問10 下線部 j の都市として最も適当なものを，次の①～④のうちから一つ選びマークせよ。 10

- | | | | |
|-------|-------|-------|-------|
| ① キ ト | ② ボゴタ | ③ ラパス | ④ リ マ |
|-------|-------|-------|-------|

問11 下線部 k にある鉱山とそこで採掘される鉱産資源の組合せとして最も適当なものを，次の①～④のうちから一つ選びマークせよ。 11

- | | |
|------------|------------|
| ① カラジャス・鉄 | ② セロボリバル・銅 |
| ③ チュキカマタ・銀 | ④ ポトシ・亜鉛 |

問12 下線部 l に関連して、アンデス共同体の加盟国でないもの（2023年現在）を、次の①～④のうちから一つ選びマークせよ。

12

- ① エクアドル ② ガイアナ ③ コロンビア ④ ボリビア

問13 下線部 m に関連して、南米の国々における経済的發展や課題について述べた文として最も適当なものを、次の①～④のうちから一つ選びマークせよ。

13

- ① アルゼンチンでは、アシエンダと呼ばれる大農場での小麦やとうもろこしの栽培と牛・豚の飼育がさかんであり、対外債務はほとんどない。
- ② エクアドルは、コーヒー豆の生産量は世界第3位（2021年）で、天然ガス、銀、金、ニッケル、クロムなどの世界有数の産出国であるが、政変や内戦で政情不安にある。
- ③ パラグアイは、石油、銅、すずなどの世界有数の産出国であるが、2013年政権交代後の治安悪化や石油価格の下落などで政情不安定となっている。
- ④ ブラジルは、かつてコーヒー豆のモノカルチャーであったが、現在は大豆栽培ほか農業の多角化が進み、農業開発などによる熱帯林の減少が問題となっている。

Ⅱ 以下の問い（A・B）に答えよ。

A 次の図1を見て、下の問い（問1～5）に答えよ。

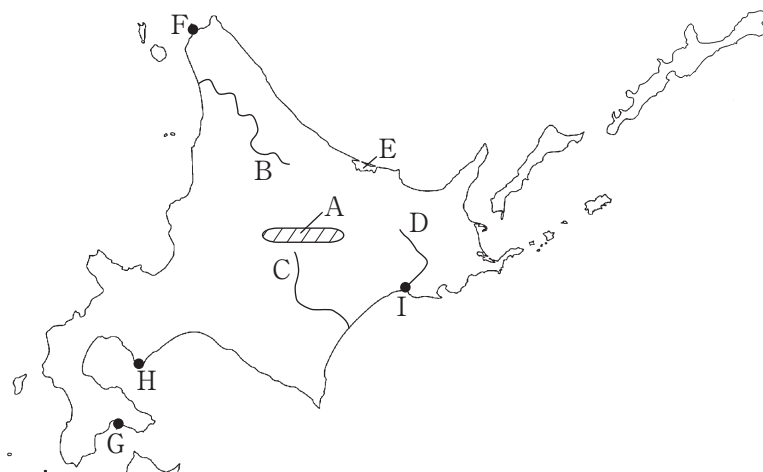


図1

問1 図1中のAの名称として最も適当なものを、次の①～④のうちから一つ選びマークせよ。 14

- ① 石狩山地 ② 奥羽山脈 ③ 北上高地 ④ 北見山地

問2 図1中のB～Dの組合せとして最も適当なものを、次の①～⑥のうちから一つ選びマークせよ。 15

	B	C	D
①	釧路川	天塩川	十勝川
②	釧路川	十勝川	天塩川
③	天塩川	釧路川	十勝川
④	天塩川	十勝川	釧路川
⑤	十勝川	釧路川	天塩川
⑥	十勝川	天塩川	釧路川

問3 図1中のEで見られる最も適当な地形を、次の①～④のうちから一つ選びマークせよ。 16

① エスチュアリー

② カルデラ

③ トンボロ

④ ラグーン

問4 次の表は、図1中の都市F～Iのいずれかにおける製造品出荷額等上位5産業（2020年）の割合を示したものである。表に該当する都市として最も適当なものを、下の①～④のうちから一つ選びマークせよ。 17

1位	鉄鋼業	82.0%
2位	窯業・土石製品製造業	4.7%
3位	化学工業	4.5%
4位	はん用機械器具製造業	2.6%
5位	金属製品製造業	1.7%

（『RESAS 地域経済分析システム』による）

① F

② G

③ H

④ I

問5 次の①～④は、北海道・東北地方・関東地方・九州地方のいずれかにおける農業産出額上位5品目（2021年）の割合と産出額計を示したものである。北海道に該当する最も適当なものを、①～④のうちから一つ選びマークせよ。

18

①	②	③	④
米 26.7%	生乳 31.0%	野菜 36.7%	野菜 23.1%
野菜 18.0%	野菜 16.0%	米 12.5%	肉用牛 17.7%
果実 17.0%	肉用牛 8.6%	豚 10.8%	豚 11.2%
豚 7.7%	米 7.9%	鶏卵 8.9%	ブロイラー 10.2%
肉用牛 7.5%	生乳以外の乳用牛 6.9%	生乳 7.5%	米 8.2%
産出額計 13,591 億円	産出額計 13,108 億円	産出額計 15,215 億円	産出額計 17,905 億円

（『RESAS 地域経済分析システム』による）

B 次の地形図（図2・3）を見て、下の問い（問6～13）に答えよ。ただし、図2は昭和47年発行、図3は平成8年発行のものである。



図2



図3

問6 図2・3の位置として最も適当なものを、図4中の①～④のうちから一つ選びマークせよ。

19



図4

問7 図2の縮尺と等高線について述べた文として最も適当なものを、次の①～④のうちから一つ選びマークせよ。

20

- ① 2万5千分の1の縮尺で、400mの計曲線が見られる。
- ② 2万5千分の1の縮尺で、550mの主曲線が見られる。
- ③ 5万分の1の縮尺で、400mの計曲線が見られる。
- ④ 5万分の1の縮尺で、550mの主曲線が見られる。

問8 図2中の最高地点と市役所の高度差として最も適当なものを、次の①～④のうちから一つ選びマークせよ。

21

- ① 約250m ② 約320m ③ 約390m ④ 約460m

問9 図2中の冷水山に見られない地図記号を、次の①～④のうちから一つ選びマークせよ。

22

- ① 広葉樹林 ② 笹地 ③ 針葉樹林 ④ 竹林

問10 図2中の末広・鹿の谷周辺に見られない地図記号を、次の①～④のうちから一つ選びマークせよ。

23

- ① 高等学校 ② 消防署 ③ 税務署 ④ 保健所

問11 図2・3から読み取れる変化について述べた文として最も適切なものを、次の①～④のうちから一つ選びマークせよ。

24

- ① 「ゆうばり」駅は路線の短縮とともに南に移転した。
② 夕張線は廃線になった。
③ 夕張鉄道は石勝線に改称された。
④ 「ゆうばりほんちょう」駅は「ゆうばり」駅に改称された。

問12 図2・3から読み取れる変化について述べた文として適当でないものを、次の①～④のうちから一つ選びマークせよ。

25

- ① 社光付近にある採鉱地がなくなった。
② 高松付近に「石炭の歴史村」がつくられた。
③ 千代田に住宅地がつくられた。
④ 冷水山にスキー場がつくられた。

問13 図2・3中の地域が属する市における作付面積が最も大きい農作物（2020年）として最も適切なものを、次の①～④のうちから一つ選びマークせよ。

26

- ① いちご ② 西洋なし
③ ブルーベリー ④ メロン

Ⅲ 以下の問い（A・B）に答えよ。

A 世界の自然災害に関する次の文（あ～え）を読み、下の問い（問1～7）に答えよ。

あ 森林火災は、近年世界的に発生件数が増加しており、森林の消失範囲も拡大^aしている。特にオーストラリアや（ア）流域、カリフォルニア州で大きな被害が観測されている。

い 地震は、一般に発生規模が大きいと被害が大きくなる傾向があり、発生形態^bの違いでさらに被害が拡大することもある。特に（イ）やハイチで生じた地震は20万人を超える人的被害が生じた。

う 風水害は、暴風^cと河川の氾濫や（ウ）など水位の上昇によって被害が拡大する。特にベンガル湾周辺では10万人を超える人的被害がたびたび生じている。

え 火山災害は、火山活動^dによる地震や碎屑物の噴出、火砕流などで火山周辺地域に直接の被害があるほか、火山灰が大気中に拡散して（エ）をもたらすこともある。特に、ピナトゥボ山の噴火は地球環境に大きな影響を及ぼした。

問1 （ア）（イ）に当てはまる組合せとして最も適当なものを、次の①～

④のうちから一つ選びマークせよ。 27

① ア：アマゾン川 イ：スマトラ島沖

② ア：アマゾン川 イ：ハワイ諸島沖

③ ア：ガンジス川 イ：スマトラ島沖

④ ア：ガンジス川 イ：ハワイ諸島沖

問2 （ウ）に当てはまる最も適当なものを、次の①～④のうちから一つ選びマークせよ。 28

① エルニーニョ現象

② 高 潮

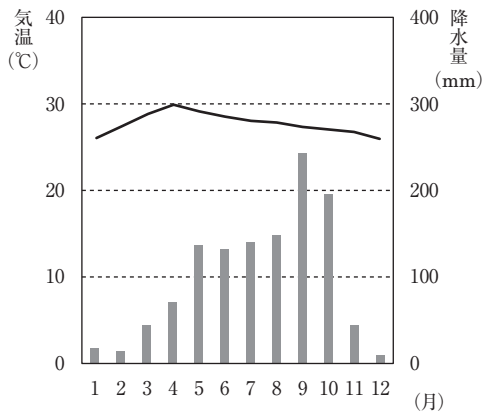
③ 津 波

④ ラニーニャ現象

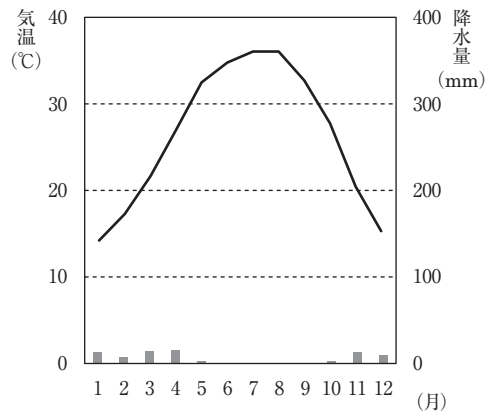
問3 (エ) に当てはまる最も適切なものを、次の①～④のうちから一つ選びマークせよ。 29

- ① 干ばつ ② 雪 害 ③ 熱 波 ④ 冷 害

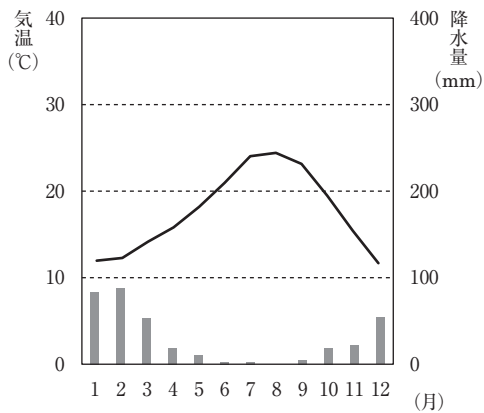
問4 文中の下線部 a が頻繁に見られる地域の雨温図として最も適切なものを、次の①～④のうちから一つ選びマークせよ。 30



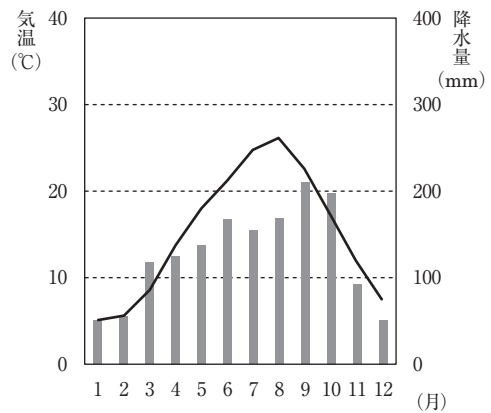
①



②



③



④

問5 文中の下線部bに関して、発生形態や規模の違いによって生じる被害の特徴について述べた文として最も適当なものを、次の①～④のうちから一つ選びマークせよ。 31

- ① 海溝型地震は、規模が大きく近い震源ほど津波被害が生じやすい。
- ② 海溝型地震は、規模が小さく近い震源ほど液状化現象が生じやすい。
- ③ 直下型地震は、規模が大きくとも津波被害は生じない。
- ④ 直下型地震は、規模が小さくとも液状化現象や津波被害が生じる。

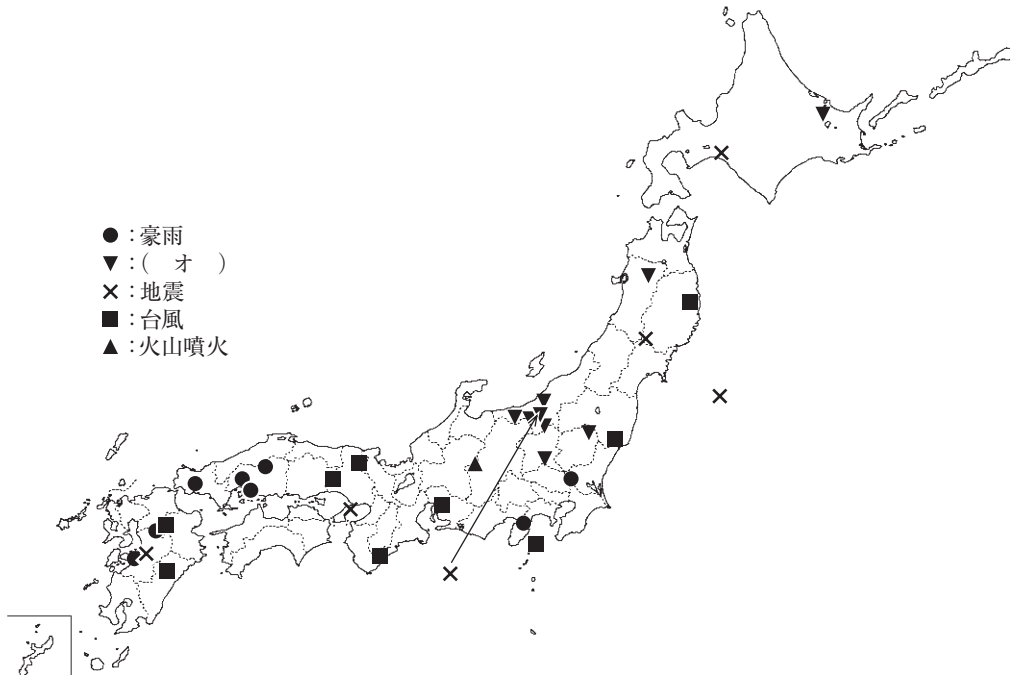
問6 文中の下線部cについて、その名称とその被害が生じる地域の組合せとして最も適当なものを、次の①～④のうちから一つ選びマークせよ。 32

- ① サイクロン・バングラデシュ沿岸部
- ② サイクロン・フロリダ半島
- ③ ハリケーン・オーストラリア北東部
- ④ ハリケーン・マダガスカル島

問7 文中の下線部dの恩恵について述べた文として**適当でないもの**を、次の①～④のうちから一つ選びマークせよ。 33

- ① カルデラ湖は風光明媚なものが多く、観光資源になってきた。
- ② 降灰地域では強アルカリの肥沃な土壌を果樹栽培に役立てている。
- ③ 地中から取り出した蒸気でタービンを回し発電している地域がある。
- ④ 地中から湧き出す温水は、古くから湯治に利用されてきた。

B 日本におけるおもな自然災害（1995年1月～2021年7月：人的被害の著しいもの）を示した次の図1と文を見て、下の問い（問8～14）に答えよ。



（『令和6年版防災白書』により作成）

図1

日本は地形や気象などの自然的条件により、多くの自然災害が発生している。それによる人的被害をできるだけ少なくするため、(カ)など災害被害の発生を防止・軽減することを目的としたハード対策と、ハザードマップの作成や防災教育など(キ)を目的としたソフト対策の両面から対策を講じて、万一の災害発生に備えている。

災害発生時には、被災地への人的支援^e、物資支援^f、資金的支援など、「公助」による取り組みが行われる。しかし、それにも限界があり、「自助」や「共助」の意識が重要視されてきている。

（『令和6年版防災白書』による。一部改）

問8 図1中の（ オ ）に該当するものとして最も適当なものを，次の①～④のうちから一つ選びマークせよ。 34

- ① 干ばつ ② 豪 雪 ③ 森林火災 ④ 竜 巻

問9 図1の特徴について述べた文として最も適当なものを，次の①～④のうちから一つ選びマークせよ。 35

- ① ▼は発生件数や被害が多いものの，経済的被害を予測して損失を最小限に留めてきている。
- ② ×は発生件数が少なく，予測できる災害のため被害も少ない。
- ③ ■は発生件数や被害が多いものの，進路を予測することによって被害を最小限に留めてきている。
- ④ ▲は発生件数が少なく，予測できる災害のため被害も少ない。

問10 図1の災害発生に応じた減災方法を述べた文として最も適当なものを，次の①～④のうちから一つ選びマークせよ。 36

- ① ●は速やかな水平避難が有効である。
- ② ×は発生直後に緊急避難速報が流れるため，身の安全を確保できる空間に速やかに移動することが有効である。
- ③ ■は緊急避難速報が公共放送を通じて流れるため，自宅で速やかにテレビやラジオを点けることが有効である。
- ④ ▲は速やかに下山することが有効である。

問11 文中の（ カ ）に当てはまる最も適当なものを，次の①～④のうちから一つ選びマークせよ。 37

- ① 森林の整備やエネルギー利用の低炭素化
- ② 堤防の建設や構造物の耐震化
- ③ 都市間交通網の整備や交通の高速化
- ④ 舗装道路の建設や道路排水の迅速化

問12 文中の（ キ ）に当てはまる最も適切なものを，次の①～④のうちから一つ選びマークせよ。 38

- ① 災害が頻繁に生じる地域から他地域への移住
- ② 災害発生時の適切な行動の実現
- ③ 自然再生エネルギーの利用促進
- ④ 脱炭素社会の実現

問13 文中の下線部 e に該当する最も適切なものを，次の①～④のうちから一つ選びマークせよ。 39

- ① 国・地方公共団体等職員の現地派遣
- ② 被災者どうしの救助・救命
- ③ 被災地へ自らが赴き行う災害救助
- ④ 避難施設でのボランティア活動

問14 文中の下線部 f について述べた次の文の下線部(1)(2)の正誤について最も適切なものを，下の①～④のうちから一つ選びマークせよ。 40

被災地の支援物資のニーズ情報が不足している場合は，必要性を想定して物
資を支援（プッシュ型支援）し，ニーズ情報がわかる場合はプル型支援が適用
される。特に，甚大な災害時には被災した自治体の機能低下から被災地のニー
ズ情報の把握が遅れる⁽²⁾ため，物品の予測に基づくプッシュ型支援がより重要と
なる。

- ① (1)のみ正しい
- ② (2)のみ正しい
- ③ (1)・(2)とも正しい
- ④ (1)・(2)とも正しくない

日 本 史

(解答番号 ～)

I 次のA～Dの史料を読み、下の問い（問1～10）に答えよ。

A 志癸嶋天皇の御世、戊午年の十月十二日、 国主明王、始めて仏像經教并せて僧等を度し奉る。

B 建武中元二年、倭の奴国、貢を奉じて朝賀す。使人自ら大夫と称す。倭国の極南界なり。光武、賜ふに印綬を以てす。

C 興死して弟 立つ。(略) 順帝の昇明二年、使を遣して上表して曰く、「封国は偏遠にして、藩を外に作す。昔より祖禰躬ら甲冑を擐き、山川を跋涉して寧処に違あらず。(略)」と。

D 景初二年六月、倭の女王、大夫難升米等を遣し郡に詣り、天子に詣りて朝献せんことを求む。太守劉夏、吏を遣し、将て送りて京都に詣らしむ。その年十二月、詔書して倭の女王に報じて曰く、「(略) 今汝を以て と為し、金印紫綬を仮し、装封して帯方の太守に付し仮授せしむ。(略)」と。

問1 空欄 に該当する国名として最も適当なものはどれか。次の①～④のうち一つをマークせよ。

- ① 新 羅 ② 伽 耶 ③ 高句麗 ④ 百 濟

問2 空欄 に入れる語句として最も適当なものはどれか。次の①～④のうち一つをマークせよ。

- ① 帥 升 ② 讃 ③ 武 ④ 壺 与

問3 空欄 に入れる語句として最も適当なものはどれか。次の①～④のうち一つをマークせよ。

- ① 漢委奴国王
- ② 広開土王
- ③ 親魏倭王
- ④ 安東大將軍倭国王

問4 下線部(a)に相当する天皇名として最も適当なものはどれか。次の①～④のうち一つをマークせよ。

- ① 欽明天皇
- ② 推古天皇
- ③ 雄略天皇
- ④ 崇峻天皇

問5 下線部(b)が皇帝であった王朝として最も適当なものはどれか。次の①～④のうち一つをマークせよ。

- ① 前 漢
- ② 後 漢
- ③ 魏
- ④ 宋

問6 下線部(c)の女王についての文として誤りを含んでいるものはどれか。次の①～④のうち一つをマークせよ。

- ① 女王は、大きな争乱をおさめるために諸国が共同してたてた王である。
- ② 女王は巫女として神の意志を聞くことにたけていたらしく、その呪術的權威を背景に政治をおこなった。
- ③ 女王が統治した国は大人と下戸などの身分差があり、ある程度の統治組織や租税・刑罰の制度も整っていた。
- ④ 女王が亡くなった後、一族の女性が王にたったが内乱が起こり、男王がたつことで乱はおさまった。

問7 史料Aに関連して、倭国に伝えられた仏教についての文として誤りを含んでいるものはどれか。次の①～④のうち一つをマークせよ。 7

- ① 北方仏教（大乘仏教）の系統に属するものが伝えられた。
- ② 仏教は物部氏など渡来系の豪族にまず受け入れられ、やがて大王家や蘇我氏などの豪族にも広がった。
- ③ 飛鳥の地には、蘇我氏によって飛鳥寺（法興寺）が造営された。
- ④ 渡来人の間では、仏教が公式に伝えられる以前から信仰されていた可能性が高い。

問8 史料Bのころの倭人の社会についての文として最も適当なものはどれか。次の①～④のうち一つをマークせよ。 8

- ① 人々はあらゆる自然現象や自然物に靈魂がやどると信じ、呪術や儀礼には女性をかたどった土偶や男性の生殖器を石で表現した石棒が用いられた。
- ② 前方後円墳をはじめとする古墳が全国に広がり、大和の首長たちを中心とする広範囲の政治連合が成立した。
- ③ 祭りには青銅製祭器が用いられ、近畿地方を中心に銅矛・銅戈、九州北部を中心に銅鐸が分布しており、共通の祭器を用いる地域圏が出現していた。
- ④ 岡山県の楯築墳丘墓や山陰地方の四隅突出型墳丘墓など、西日本の各地にかなり大規模な墳丘をもつ墓が出現した。

問9 史料Cのころの対外交渉についての文として最も適当なものはどれか。次の

①～④のうち一つをマークせよ。 9

- ① 中国の南朝に朝貢し，倭国王の地位の承認と朝鮮半島南部への影響力を示す称号を求めた。
- ② 中国に使者を送り，三角縁神獣鏡をはじめとする多数の銅鏡などが贈られた。
- ③ 国書を携えて使者が中国に派遣されたが，中国皇帝に臣属しない形式をとったため無礼とされた。
- ④ 多くの留学生・学問僧が使者に同行し，中国の制度・思想・文化についての新知識を伝えた。

問10 史料A～Dのできごとを年代の早い順に並べたものとして最も適当なものはどれか。次の①～④のうち一つをマークせよ。 10

- | | |
|-----------|-----------|
| ① B→D→C→A | ② D→B→A→C |
| ③ D→B→C→A | ④ B→D→A→C |

Ⅱ 次の文を読み、下の問い（問 1～10）に答えよ。

宇都宮氏は、アの時、関白藤原道兼の曾孫が安倍頼時調伏祈禱のため下野国に下り、土着したのが始まりとされている。鎌倉幕府の評定衆・引付衆^(a)に任じられ、幕政の中枢に参画した。1283年^(b)、宇都宮景綱が制定した『宇都宮家式条』は、最古の武家家法^(c)とされている。

南北朝の動乱では、宇都宮公綱が南朝方の北畠顕家^(d)らに属した。息子の氏綱は北朝方として戦ったが、鎌倉公方足利基氏^(e)と対立し、上野・越後^(f)両国の守護職を剥奪される。

足利成氏^(g)が上杉憲忠を謀殺したことを発端にイが起き、関東は戦国の世に突入する。下野国では小山・宇都宮・那須などの豪族が互いに対立し、佐竹・北条など外部勢力の介入を受けた。宇都宮国綱は、豊臣秀吉の小田原攻め^(h)に参陣し、本領を安堵される。しかし、1597年、秀吉の命に背いたとして所領を没収され、備前国の宇喜多秀家⁽ⁱ⁾に預けられた。

問 1 空欄 ア イ に入れる語句の組み合わせとして最も適当なものはどれか。次の①～④のうち一つをマークせよ。 11

- | | | |
|---|---------|--------|
| ① | ア＝前九年合戦 | イ＝永享の乱 |
| ② | ア＝前九年合戦 | イ＝享徳の乱 |
| ③ | ア＝後三年合戦 | イ＝永享の乱 |
| ④ | ア＝後三年合戦 | イ＝享徳の乱 |

問2 下線部(a)についての文として最も適当なものはどれか。次の①～④のうち一つをマークせよ。 12

- ① 北条義時は、政務に優れた武士を評定衆に選び、執権・連署とともに幕府の政務処理や裁判に当たらせた。
- ② 北条泰時は、評定衆の会議である評定のもとに新たに引付を置いて引付衆を任命した。
- ③ 北条泰時は、引付衆とはかつて御成敗式目51カ条を制定した。
- ④ 評定衆から選ばれた頭人に数名の引付衆が加わり、判決の原案が作成された。

問3 下線部(b)の2年前のできごととして最も適当なものはどれか。次の①～④のうち一つをマークせよ。 13

- ① 霜月騒動
- ② 永仁の徳政令発令
- ③ 文永の役
- ④ 弘安の役

問4 下線部(c)に関連して、現在の山梨県内に拠点を置いた戦国大名の分国法（家法）の文として最も適当なものはどれか。次の①～④のうち一つをマークせよ。

14

- ① 一 当所中樂市として仰せ付けらるるの上は、諸座・諸役・諸公事等、ことごとく免許の事。
- ② 一 駿・遠両国の輩、或はわたくしとして他国より嫁をとり、或は婿にとり、娘をつかはす事、自今以後停止し畢ぬ。
- ③ 一 喧嘩の事、是非に及ばず成敗を加ふべし。但し、取り懸ると雖も、堪忍せしむるの輩に於ては、罪科に処すべからず。
- ④ 一 其許検地の儀、一昨日仰出され候如く、斗代等の儀、御朱印の旨に任せて、何も所々、いかにも念を入れ申し付くべく候。若しそさうニ仕り候ハバ各越度たるべく候事。

問5 下線部(d)が所属した建武政権の機関として最も適当なものはどれか。次の

①～④のうち一つをマークせよ。 15

- ① 奥州総奉行 ② 陸奥將軍府 ③ 奥州探題 ④ 羽州探題

問6 下線部(e)の父として最も適当なものはどれか。次の①～④のうち一つをマークせよ。 16

- ① 足利尊氏 ② 足利直義 ③ 足利義詮 ④ 足利持氏

問7 下線部(f)についての文として最も適当なものはどれか。次の①～④のうち一つをマークせよ。 17

- ① 鎌倉府は、上野を含む関東8カ国の他、伊豆・甲斐を合わせて10カ国を管轄した。
② 上野の結城氏は、分国法として結城氏新法度を制定した。
③ 上杉謙信は、関東管領上杉氏の出身で、越後の守護をつとめた。
④ 武田信玄は、越後の川中島で上杉謙信と度々激突した。

問8 下線部(g)が拠点を置いた場所とその国名の組み合わせとして最も適当なものはどれか。次の①～④のうち一つをマークせよ。 18

- ① 堀 越——下 総 ② 堀 越——伊 豆
③ 古 河——下 総 ④ 古 河——伊 豆

問9 下線部(h)の後、北条氏の旧領に移封された人物として最も適当なものはどれか。次の①～④のうち一つをマークせよ。 19

- ① 織田信雄 ② 徳川家康 ③ 伊達政宗 ④ 豊臣秀次

問10 下線部(i)とともに豊臣政権の五大老をつとめ、関ヶ原の戦いで西軍方の盟主となった人物はどれか。次の①～④のうち最も適当なものを一つマークせよ。

20

- ① 前田利家 ② 上杉景勝 ③ 毛利輝元 ④ 石田三成

Ⅲ 次のA～Dの人物についての文を読み、下の問い（問1～10）に答えよ。

A 幕府天文方である から天文学を学び、1800年から海岸線の測量を開始した。測量は、最初は蝦夷地^(a)から始まり、のちに日本列島全域の海岸線に及んだ。その成果は死後に「大日本沿海輿地全図」としてまとめられたが、幕府だけの機密とされた。

B 中国古代の言語を研究して古典の解釈を試みた。また、柳沢吉保^(b)や徳川吉宗に用いられ、幕政にも関わった。『 』をあらわし、武士の土着論を唱えた。

C もと大坂町奉行所の与力で の学者であった。洗心洞を開いて子弟の教育にあたった。

D 池田光政^(c)にまねかれて重く用いられ、花鳥教場を設けた。

問1 空欄 に入れる人名として最も適当なものはどれか。次の①～④のうち一つをマークせよ。

- | | |
|--------|--------------|
| ① 高橋至時 | ② 渋川春海（安井算哲） |
| ③ 緒方洪庵 | ④ 関孝和 |

問2 空欄 に入れる著作物として最も適当なものはどれか。次の①～④のうち一つをマークせよ。

- | | | | |
|--------|-------|------|---------|
| ① 大学或問 | ② 経済録 | ③ 政談 | ④ 自然真営道 |
|--------|-------|------|---------|

問3 空欄 に入れる語句として最も適当なものはどれか。次の①～④のうち一つをマークせよ。

- | | | | |
|------|-------|--------|-------|
| ① 国学 | ② 陽明学 | ③ 垂加神道 | ④ 本草学 |
|------|-------|--------|-------|

問4 下線部(a)に関連して、意見書『赤蝦夷風説考』を書いたのは誰か。次の①～④のうち最も適当なものを一つマークせよ。 24

- ① 工藤平助 ② 渡辺崋山 ③ 大原幽学 ④ 本多利明

問5 下線部(b)についての文として最も適当なものはどれか。次の①～④のうち一つをマークせよ。 25

- ① 徳川家綱に側用人として仕えた。
② 徳川家綱に大老として仕えた。
③ 徳川綱吉に側用人として仕えた。
④ 徳川家宣に大老として仕えた。

問6 下線部(c)はどの藩の藩主であったか。次の①～④のうち最も適当なものを一つマークせよ。 26

- ① 福井藩 ② 福岡藩 ③ 広島藩 ④ 岡山藩

問7 Aの人物は誰か。次の①～④のうち最も適当なものを一つマークせよ。 27

- ① 間宮林蔵 ② 近藤重蔵 ③ 大槻玄沢 ④ 伊能忠敬

問8 Bの人物の門人として最も適当なものはどれか。次の①～④のうち一つをマークせよ。 28

- ① 伊藤仁斎 ② 室鳩巢 ③ 山鹿素行 ④ 太宰春台

問9 Cの人物による武装蜂起と同年のできごととして、最も適当なものはどれか。次の①～④のうち一つをマークせよ。 29

- ① フェートン号事件 ② モリソン号事件
③ 蛮社の獄 ④ シーボルト事件

問10 Dの人物についての文として最も適当なものはどれか。次の①～④のうち一つをマークせよ。

30

- ① 中江藤樹の門人であった。
- ② 木下順庵の門人であった。
- ③ 幕府によって赤穂に流された。
- ④ 幕府の命で甘藷（サツマイモ）を普及させた。

IV

日露戦争のとき『平民新聞』などで非戦論を主張した 1 の長女として、1903年、東京に生まれた。成女高等女学校を卒業。1921年、社会主義同盟の周囲にいた女性たちとともに 2 を組織し、最年少で世話人となった。第2回 (a) (b) (c) (d) (e) (f) (g) (h) (i) (j) (k) (l) (m) (n) (o) (p) (q) (r) (s) (t) (u) (v) (w) (x) (y) (z) (aa) (ab) (ac) (ad) (ae) (af) (ag) (ah) (ai) (aj) (ak) (al) (am) (an) (ao) (ap) (aq) (ar) (as) (at) (au) (av) (aw) (ax) (ay) (az) (ba) (bb) (bc) (bd) (be) (bf) (bg) (bh) (bi) (bj) (bk) (bl) (bm) (bn) (bo) (bp) (bq) (br) (bs) (bt) (bu) (bv) (bw) (bx) (by) (bz) (ca) (cb) (cc) (cd) (ce) (cf) (cg) (ch) (ci) (cj) (ck) (cl) (cm) (cn) (co) (cp) (cq) (cr) (cs) (ct) (cu) (cv) (cw) (cx) (cy) (cz) (da) (db) (dc) (dd) (de) (df) (dg) (dh) (di) (dj) (dk) (dl) (dm) (dn) (do) (dp) (dq) (dr) (ds) (dt) (du) (dv) (dw) (dx) (dy) (dz) (ea) (eb) (ec) (ed) (ee) (ef) (eg) (eh) (ei) (ej) (ek) (el) (em) (en) (eo) (ep) (eq) (er) (es) (et) (eu) (ev) (

問1 空欄 に入れる人名として最も適当なものはどれか。次の①～④のうち一つをマークせよ。

- ① 新島襄 ② 山川均 ③ 堺利彦 ④ 与謝野鉄幹

問2 空欄 2 に入れる語句として最も適当なものはどれか。次の①～④のうち一つをマークせよ。 32

- ① 青鞜社 ② 新人会
③ 婦人参政權獲得期成同盟會 ④ 赤瀾會

問3 空欄 3 に入れる人名として最も適当なものはどれか。次の①～④のうち一つをマークせよ。 33

- ① 大杉栄 ② 小林多喜二 ③ 賀川豊彦 ④ 河上肇

問4 下線部(a)に参加した人物として最も適当なものはどれか。次の①～④のうち一つをマークせよ。 34

- ① 高村（長沼）智恵子 ② 山川菊栄
- ③ 市川房枝 ④ 小山内薫

問5 下線部(b)に関連して、第1回メーデーを主催した団体として最も適当なものはどれか。次の①～④のうち一つをマークせよ。 35

- ① 友愛会 ② 日本農民組合
- ③ 大日本労働総同盟友愛会 ④ 日本労働総同盟

問6 下線部(c)に関連して、労働争議・小作争議についての文として最も適当なものはどれか。次の①～④のうち一つをマークせよ。 36

- ① 1910年代後半から1930年代まで、労働争議の件数は年々増え続けた。
- ② 1921年、神戸市の川崎造船所・三菱造船所で大規模な争議が起こった。
- ③ 小作争議は、1930年代に入ると恐慌のために激減した。
- ④ 鈴木文治らが日本農民組合を結成し、小作争議を組織的に展開した。

問7 下線部(d)に1928年から翌年にかけて連載された林芙美子の小説として最も適当なものはどれか。次の①～④のうち一つをマークせよ。 37

- ① たけくらべ ② みだれ髪 ③ 放浪記 ④ 浮雲

問8 下線部(e)の党員に対して普通選挙制による最初の総選挙の翌年におこなわれた一斉検挙として最も適当なものはどれか。次の①～④のうち一つをマークせよ。 38

- ① 三月事件 ② 十月事件
- ③ 三・一五事件 ④ 四・一六事件

問9 下線部(f)に関連して、治安警察法についての文として誤りを含んでいるものはどれか。次の①～④のうち一つをマークせよ。 39

- ① 労働者の団結権・ストライキ権に制限が加えられた。
- ② 第2次山県有朋内閣によって公布された。
- ③ 第5条の撤廃を求めて新婦人協会などが運動した。
- ④ 1924年に第5条が改正され、女性も政治結社に加入できるようになった。

問10 同じく下線部(f)に関連して、治安維持法を制定した内閣と治安維持法を改正して最高刑を死刑に引き上げた内閣の組み合わせとして最も適切なものはどれか。次の①～④のうち一つをマークせよ。 40

- ① 寺内正毅内閣——広田弘毅内閣 ② 寺内正毅内閣——加藤高明内閣
- ③ 田中義一内閣——広田弘毅内閣 ④ 加藤高明内閣——田中義一内閣

世界史

(解答番号 ～)

I 次の文A～Cを読んで、下の問い（問1～15）に答えよ。

A 1789年にルイ16世が三部会を招集すると、特権身分の一部と第三身分の議員が三部会を離脱した。その後、憲法を制定するための議会が成立したが、国王と議会の対立は高まり、7月14日、パリの民衆は自衛のための武器を求めてバスティーユ牢獄を襲った。8月に、議会は封建的特権の廃止を宣言し、アメリカ独立戦争に参加した らの起草による¹人権宣言を採択した。そしてさらに、教会財産の没収も採択され、1790年になると の廃止、²度量衡の統一などが決定された。

問1 に最も適する語を次の①～⑥から一つ選んで、マークせよ。

- ① ダントン ② シエイエス ③ ロベスピエール
④ マラー ⑤ ラ＝ファイエット ⑥ ミラボー

問2 に最も適する語を次の①～④から一つ選んで、マークせよ。

- ① ギルド ② 人頭税 ③ 領主裁判権 ④ 叙任権

問3 下線部1に関連して、人権宣言の2年後の1791年にフランスで『女性の権利宣言』を刊行した人物（1748～93）はだれか、最も適するものを次の①～④から一つ選んで、マークせよ。

- ① マリ＝アントワネット ② ローザ＝ルクセンブルク
③ オランブ＝ド＝グージュ ④ レイチェル＝カーソン

C 1795年にフランスでは が解散して 政府が発足した。しかし、王党派の反乱や私有財産の廃止を主張する の陰謀などで政権は安定しなかった。そのような中で台頭したのが、軍人³ナポレオン=ボナパルトであった。

ナポレオンは1799年に遠征先から戻ると 政府を倒して権力を握り、実質的な国家元首となった。そして、1804年には国民投票によって皇帝ナポレオン1世として即位し、ここにフランスの第一帝政が始まった。

ナポレオンは1805年にオーストリアとロシアの連合軍に勝利し⁴1807年にはプロイセン・ロシアと 条約を結んで、ポーランドにワルシャワ大公国を設立した。さらに⁵イベリア半島にも出兵してスペインを従属させた。

ヨーロッパの主要国の多くを屈服させたナポレオンだが、1813年に 戦争に敗れて退位し、その後一時的に再起したが、 の戦いで敗退して、大西洋の孤島に流された。

問8 に最も適する語を次の①～④から一つ選んで、マークせよ。

- ① 総 裁 ② 統 領 ③ 臨時国防 ④ 自由フランス

問9 に最も適する語を次の①～④から一つ選んで、マークせよ。

- ① プルードン ② バブーフ
③ サン=シモン ④ ルイ=ブラン

問10 に最も適する語を次の①～④から一つ選んで、マークせよ。

- ① ユトレヒト ② ウェストファリア
③ カルロヴィッツ ④ ティルジット

問11 i に最も適する語を次の①～④から一つ選んで，マークせよ。

11

- ① 諸国民 ② 北 方 ③ 七 年 ④ クリミア

問12 j に最も適する語を次の①～④から一つ選んで，マークせよ。

12

- ① アウステルリッツ ② ポワティエ
③ マレngo ④ ワーテルロー

問13 下線部3に関連して，次の(1)～(3)に答えよ。

- (1) 1799年にナポレオンが実権を握ってから1804年に皇帝に即位するまでの間におこった出来事ではないものはどれか，次の①～④から一つ選んで，マークせよ。 13

- ① フランス銀行が創設された。
② トラファルガーの海戦でフランスが敗れた。
③ イギリスとの間にアミアンの和約を結んだ。
④ フランスとローマ教皇が政教協約を結んだ。

- (2) ナポレオンが皇帝として在位していた期間におこった出来事について述べた以下の文（ア），（イ）の正誤の組み合わせとして正しいものはどれか，次の①～④から一つ選んで，マークせよ。 14

- （ア） ヨーロッパの大陸諸国がイギリスとの貿易を禁じられた。
（イ） 神聖ローマ帝国が消滅した。

- ① （ア）－正 （イ）－正 ② （ア）－正 （イ）－誤
③ （ア）－誤 （イ）－正 ④ （ア）－誤 （イ）－誤

- (3) 711年にイベリア半島に進出して西ゴート王国を滅ぼしたイスラーム王朝はどれか，最も適するものを次の①～④から一つ選んで，マークせよ。

20

- | | |
|----------|----------|
| ① ウマイヤ朝 | ② 後ウマイヤ朝 |
| ③ ムラービト朝 | ④ ナスル朝 |

Ⅱ 次の文A、Bを読んで、下の問い（問1～20）に答えよ。

A 最初の人類は類人猿から進化した¹猿人である。2001年にアフリカ中央部の²チャドで発見された猿人の頭蓋骨の化石の測定年代は、約 万年前にさかのぼるとされている。猿人につづいて原人と総称される人類が出現した。そのうち に分類されるジャワ原人の化石はジャワ島中部から発見された。原人のつぎに³旧人が出現した。 人はその代表的なものである。現生人類に⁴直接つながる人類が⁵新人といわれる。新人は、1940年にフランスの で⁶発見されたものなどの洞窟絵画を残した。

問1 に最も適する語を次の①～④から一つ選んで、マークせよ。

- ① 1500 ② 700 ③ 400 ④ 100

問2 に最も適する語を次の①～④から一つ選んで、マークせよ。

- ① ホモ=エレクトゥス ② サヘラントロプス
③ アウストラロピテクス ④ ホモ=ハビリス

問3 に最も適する語を次の①～④から一つ選んで、マークせよ。

- ① ネアンデルタール ② クロマニヨン
③ グリマルディ ④ 周口店上洞

問4 に最も適する語を次の①～④から一つ選んで、マークせよ。

- ① タッシリ・ナジェール ② オルドヴァイ
③ アルタミラ ④ ラスコ

問5 下線部1について述べた以下の文(ア),(イ)の正誤の組み合わせとして正しいものはどれか、次の①～④から一つ選んで、マークせよ。 25

(ア) 猿人の化石の出土はこれまでのところアフリカに限定されている。

(イ) 剥片石器の矢じりをつくる技術を身につけていた。

① (ア)－正 (イ)－正 ② (ア)－正 (イ)－誤

③ (ア)－誤 (イ)－正 ④ (ア)－誤 (イ)－誤

問6 下線部2に関連して、チャド湖周辺にあった王国(8世紀頃～1846)はどれか、最も適するものを次の①～④から一つ選んで、マークせよ。 26

① クシュ王国

② アクスム王国

③ カネム・ボルヌー王国

④ モノモタパ王国

問7 下線部3に関連して、ジャワ島中部にあるボロブドゥール寺院を建設した国はどれか、最も適するものを次の①～④から一つ選んで、マークせよ。

27

① マタラム王国

② シュリーヴィジャヤ

③ シャイレンドラ朝

④ シンガサリ王国

問8 下線部4について述べた以下の文(ア),(イ)の正誤の組み合わせとして正しいものはどれか、次の①～④から一つ選んで、マークせよ。 28

(ア) 火を使用した。

(イ) 毛皮を身に着けた。

① (ア)－正 (イ)－正 ② (ア)－正 (イ)－誤

③ (ア)－誤 (イ)－正 ④ (ア)－誤 (イ)－誤

問9 下線部5について述べた以下の文(ア), (イ)の正誤の組み合わせとして正しいものはどれか, 次の①～④から一つ選んで, マークせよ。 29

(ア) 最初にアフリカで出現し世界各地に広がった。

(イ) 約50万年前に現れた。

- | | |
|---------------|---------------|
| ① (ア)－正 (イ)－正 | ② (ア)－正 (イ)－誤 |
| ③ (ア)－誤 (イ)－正 | ④ (ア)－誤 (イ)－誤 |

問10 下線部6に関連して, この壁画の発見は1940年9月のことだった。この時にヴィシーにあったフランス政府の首班(1856～1951)はだれか, 最も適するものを次の①～④から一つ選んで, マークせよ。 30

- ① ペタン ② ダラディエ ③ タレーラン ④ ブリアン

B 約 e 年前に氷期が終わると地球は温暖化した。人類は多様な環境に適応し, 農耕⁷や牧畜がはじまり f 経済の段階に移った。中央アフリカのサバナ地帯では g などが栽培され, アメリカ大陸では h などが栽培された。やがて大河流域⁸では灌漑農業⁹がおこなわれ, 大規模な農耕文明が栄えた。その一方で, 中央ユーラシアの草原地帯では騎馬の技術が開発され, 遊牧民¹⁰の社会が形成された。文献上の最初の遊牧国家 i は黒海北岸を中心に国家を形成し, j と対抗した。

問11 e に最も適する語を次の①～④から一つ選んで, マークせよ。

31

- ① 100,000 ② 50,000 ③ 10,000 ④ 5,000

問12 f に最も適する語を次の①～④から一つ選んで, マークせよ。

32

- ① 獲得 ② 貨幣 ③ 生産 ④ 市場

問13 g に最も適する語を次の①～④から一つ選んで、マークせよ。

33

- ① ジャガイモ ② カボチャ ③ シコクビエ ④ タロイモ

問14 h に最も適する語を次の①～④から一つ選んで、マークせよ。

34

- ① コメ ② コムギ ③ オオムギ ④ トウモロコシ

問15 i に最も適する語を次の①～④から一つ選んで、マークせよ。

35

- ① スキタイ ② ヒットait ③ アッシリア ④ カッシート

問16 j に最も適する語を次の①～④から一つ選んで、マークせよ。

36

- ① ミタンニ王国 ② アケメネス朝
③ ヒクソス ④ アッカド王国

問17 下線部7に関連して、中国で編纂された農業技術書はどれか、最も適するものを次の①～④から一つ選んで、マークせよ。 37

- ① 『斉民要術』 ② 『水経注』 ③ 『資治通鑑』 ④ 『儒林外史』

問18 下線部8に関連して、大河流域の文明で使用された文字で未解読のものはどれか、最も適するものを次の①～④から一つ選んで、マークせよ。 38

- ① インダス文字 ② フェニキア文字
③ 楔形文字 ④ 甲骨文字

問19 下線部9について述べた以下の文（ア），（イ）の正誤の組み合わせとして正しいものはどれか，次の①～④から一つ選んで，マークせよ。 39

（ア） 中央アジアのオアシスでは地下水路を利用した灌漑農業がおこなわれた。

（イ） ユーフラテス川流域では定期的な川の増水を利用した灌漑農業がおこなわれた。

① （ア）－正 （イ）－正

② （ア）－正 （イ）－誤

③ （ア）－誤 （イ）－正

④ （ア）－誤 （イ）－誤

問20 下線部10に関連して，チベット系の遊牧民はどれか，最も適するものを次の①～④から一つ選んで，マークせよ。 40

① タングート

② キタイ

③ キルギス

④ ソグド