

世界史

(解答番号 ~)

I 次の文を読んで、下の問い(問1~17)に答えよ。

¹西ローマ帝国滅亡後も、東ローマ帝国(ビザンツ帝国)は首都²コンスタンティノープルを中心として繁栄を続けていた。皇帝 は、6世紀に北アフリカの 王国やイタリアの東ゴート王国を滅ぼし、 王国から⁴イベリア半島南部を奪ってローマ帝国の旧地中海領の大半を回復した。しかし、 の死後、ビザンツ帝国はイタリアを奪われ、7世紀には⁵ササン朝ペルシア、ついでイスラーム勢力の進出によってシリア・エジプトを失った。さらに⁷スラヴ人のバルカン半島への移住、また 系のブルガール人によるブルガリア王国(帝国)の建国など、⁸ビザンツ帝国はしだいに支配圏を縮小させていった。

ビザンツ帝国では、11世紀後半には東方から 朝の侵入をうけ、13世紀前半には第 回十字軍が首都を奪って⁹ラテン帝国をたてるなど、国内は混乱した。その後ビザンツ帝国は復活したが、もはやかつての勢いは戻らず、ついに 年オスマン帝国に滅ぼされた。¹⁰

問1 に最も適する語を次の①~④から一つ選んで、マークせよ。

- ① ヘラクレイオス ② レオン3世
③ ユスティニアヌス ④ ユリアヌス

問2 に最も適する語を次の①~⑥から一つ選んで、マークせよ。

- ① 西ゴート ② ヴァンダル ③ フランク
④ アクスム ⑤ ブルグンド ⑥ ランゴバルド

問3 に最も適する語を次の①～⑥から一つ選んで、マークせよ。

- ① 西ゴート ② ヴァンダル ③ フランク
④ アクスム ⑤ ブルグンド ⑥ ランゴバルド

問4 に最も適する語を次の①～④から一つ選んで、マークせよ。

- ① アーリヤ ② イラン ③ ギリシア ④ トルコ

問5 に最も適する語を次の①～④から一つ選んで、マークせよ。

- ① アッバース ② ウマイヤ
③ セルジューク ④ ヴァルダナ

問6 に最も適する語を次の①～④から一つ選んで、マークせよ。

- ① 1 ② 2 ③ 4 ④ 7

問7 に最も適する語を次の①～④から一つ選んで、マークせよ。

- ① 1417 ② 1453 ③ 1473 ④ 1517

問8 下線部1について述べた以下の文(ア)、(イ)の正誤の組み合わせとして正しいものはどれか、最も適するものを次の①～④から一つ選んで、マークせよ。

8

- (ア) ローマ帝国は、カラカラ帝によって東西に分割された。
(イ) 西ローマ帝国は、フン人によって滅ぼされた。

- ① (ア)－正 (イ)－正 ② (ア)－正 (イ)－誤
③ (ア)－誤 (イ)－正 ④ (ア)－誤 (イ)－誤

問9 下線部2に関連して、この地に遷都したコンスタンティヌス帝がつくらせたものはどれか、最も適するものを次の①～④から一つ選んで、マークせよ。

9

- ① ソリドゥス金貨 ② キリル文字
③ ハギア=ソフィア大聖堂 ④ サン=ヴィターレ聖堂

問10 下線部3に関連して、イタリア半島に東ゴート王国をたてた王(在位473頃～526)はだれか、最も適するものを次の①～④から一つ選んで、マークせよ。

10

- ① アッティラ ② アラリック ③ オドアケル ④ テオドリック

問11 下線部4に関連して、次の(1), (2)に答えよ。

(1) イベリア半島にたてられた後ウマイヤ朝の首都はどこか、最も適するものを次の①～④から一つ選んで、マークせよ。 11

- ① マドリード ② トレド ③ コルドバ ④ グラナダ

(2) イベリア半島の歴史について述べた以下の文 (ア), (イ) の正誤の組み合わせとして正しいものはどれか、最も適するものを次の①～④から一つ選んで、マークせよ。 12

(ア) ベルベル人がたてたムワッヒド朝は、イベリア半島に進出した。

(イ) キリスト教徒によるレコンキスタで回復された領土に、カスティリャ・アラゴン・ポルトガルの3王国がたてられた。

- ① (ア)－正 (イ)－正 ② (ア)－正 (イ)－誤
③ (ア)－誤 (イ)－正 ④ (ア)－誤 (イ)－誤

問12 下線部5に関連して、ローマ帝国と戦い皇帝ウァレリアヌスを捕虜にしたササン朝ペルシア第2代の君主(在位241頃～272頃)はだれか、最も適するものを次の①～④から一つ選んで、マークせよ。 13

- ① アルデシール1世 ② シャープール1世
③ ホスロー1世 ④ アルサケス

問13 下線部6に関連して、次の(1), (2)に答えよ。

(1) アイユーブ朝のサラディンが休戦協定をむすんだヨーロッパの君主(在位1189～99)はだれか、最も適するものを次の①～④から一つ選んで、マークせよ。 14

- ① リチャード1世 ② ルイ9世
③ フリードリヒ1世 ④ フリードリヒ2世

(2) イスラーム王朝について述べた以下の文 (ア), (イ) の正誤の組み合わせとして正しいものはどれか, 最も適するものを次の①～④から一つ選んで, マークせよ。

(ア) ブワイフ朝は, イクター制を導入した。

(イ) マムルーク朝は, アッバース家のカリフをバグダードに擁立した。

- ① (ア) - 正 (イ) - 正 ② (ア) - 正 (イ) - 誤
③ (ア) - 誤 (イ) - 正 ④ (ア) - 誤 (イ) - 誤

問14 下線部7に関連して, 次の(1), (2)に答えよ。

(1) ビザンツ最後の皇帝の姪ソフィアと結婚して, モスクワ大公国ではじめてツァーリの称号を用いた君主 (在位1462～1505) はだれか, 最も適するものを次の①～④から一つ選んで, マークせよ。

- ① イヴァン3世 ② イヴァン4世
③ ウラディミル1世 ④ リューリク

(2) バルカン半島に移住した南スラヴ人に含まれないものはどれか, 次の①～④から一つ選んで, マークせよ。

- ① セルビア人 ② チェック人
③ クロアティア人 ④ スロヴェニア人

問15 下線部8に関連して, ビザンツ帝国では7世紀以降異民族の侵入に対処するため, 領土をいくつかの軍管区にわけ, その司令官に軍事と行政の両面の権限が与えられた。この軍管区を何というか, 最も適するものを次の①～④から一つ選んで, マークせよ。

- ① プロノイア ② ワクフ ③ テマ ④ アミール

問16 下線部9に関連して、ラテン帝国がたてられたときのローマ教皇（在位1198～1216）はだれか、最も適するものを次の①～④から一つ選んで、マークせよ。

- ① グレゴリウス7世
- ② ウルバヌス2世
- ③ インノケンティウス3世
- ④ レオ3世

問17 下線部10に関連して、オスマン帝国が1366年に首都にした都市はどこか、最も適するものを次の①～④から一つ選んで、マークせよ。

- ① アドリアノーブル
- ② アンカラ
- ③ アンティオキア
- ④ アッコン

II 次の文A、Bを読んで、下の問い（問1～12）に答えよ。

A 清朝は、 の治世に を滅ぼして支配下におくと、領域が最大となった。しかしアヘン戦争（1840～42）以降は、¹しだいに縮小していった。
ロシアとの間では1858年の² 条約、1860年の³北京条約によって国境線が決められ、清朝の領域は縮小した。また、⁴清仏戦争、⁵日清戦争をへて領域外の朝貢国に対する影響力は弱まっていった。

問1 に最も適する語を次の①～⑥から一つ選んで、マークせよ。

- ① 宣統帝 ② 雍正帝 ③ 同治帝
④ 乾隆帝 ⑤ 康熙帝 ⑥ 順治帝

問2 に最も適する語を次の①～④から一つ選んで、マークせよ。

- ① ハルハ ② チベット ③ チャハル ④ ジュンガル

問3 に最も適する語を次の①～④から一つ選んで、マークせよ。

- ① アイグン ② イリ ③ キャフタ ④ ネルチンスク

問4 下線部1に関連して、清朝の領域が最大となってからアヘン戦争（1840～42）までの期間として、最も適するものを次の①～④から一つ選んで、マークせよ。

- ① 約85年 ② 約125年 ③ 約165年 ④ 約205年

問5 下線部2に関連して、次の(1)~(3)に答えよ。

(1) この戦争の影響について述べた以下の文 (ア), (イ) の正誤の組み合わせとして正しいものはどれか、最も適するものを次の①~④から一つ選んで、マークせよ。 25

(ア) 清は列強諸国に対して関税自主権を喪失した。

(イ) 「坤輿万国全図」が日本や朝鮮半島に伝えられ西洋に対する危機意識を高めた。

① (ア) - 正 (イ) - 正

② (ア) - 正 (イ) - 誤

③ (ア) - 誤 (イ) - 正

④ (ア) - 誤 (イ) - 誤

(2) この戦争後の南京条約で開港した港に含まれないものはどれか、次の①~④から一つ選んで、マークせよ。 26

① 天津

② 寧波

③ 福州

④ 上海

(3) この戦争の開戦より後におこったイギリスの出来事はどれか、最も適するものを次の①~④から一つ選んで、マークせよ。 27

① 第1回選挙法改正

② ヴィクトリア女王の即位

③ 東インド会社の中国貿易独占権廃止

④ 穀物法の廃止

(5) 北京条約によって民間中国人の海外渡航が許されることになり、中国人移民が世界に展開することになった。中国人移民について述べた以下の文(ア)、(イ)の正誤の組み合わせとして正しいものはどれか、最も適するものを次の①～④から一つ選んで、マークせよ。 32

(ア) ハワイでは孫文が華僑を中心に興中会を組織した。

(イ) クーリー(苦力)には単純労働に従事する中国人移民も含まれた。

① (ア)－正 (イ)－正

② (ア)－正 (イ)－誤

③ (ア)－誤 (イ)－正

④ (ア)－誤 (イ)－誤

問7 下線部4に関連して、清仏戦争の開戦より後におこったフランスの出来事やフランスによる活動はどれか、最も適するものを次の①～④から一つ選んで、マークせよ。 33

① ブーランジェ事件

② カンボジアの保護国化

③ パリ＝コミューンの樹立

④ メキシコ出兵

問8 下線部5に関連して、日清戦争の結果、台湾は日本に割譲されることになった。清の台湾領有について述べた文として正しいものはどれか、最も適するものを次の①～④から一つ選んで、マークせよ。 34

① 鄭氏一族を降伏させたのち版図に加えた。

② 占拠していたオランダを追放して領有した。

③ 藩部として間接統治をおこなった。

④ 白蓮教徒の乱を鎮圧して直接統治をおこなった。

B 19世紀の終わりには山東省で宗教結社を中心とした武装蜂起⁶がおこった。蜂起した集団は勢力を増し、1900年には北京⁷にいたり、外国の領事館などを攻撃した。これに対して諸外国は軍隊を派遣⁸し、蜂起を鎮圧した。その後、清は改革を模索したが、1911年に辛亥革命がおこった。これを契機として外モンゴル⁹は独立を宣言し、チベットも独立を求め、中国の領土縮小の傾向は続いた。

問9 下線部6に関連して、次の(1), (2)に答えよ。

(1) この武装蜂起をおこした集団について述べた以下の文 (ア), (イ) の正誤の組み合わせとして正しいものはどれか、最も適するものを次の①～④から一つ選んで、マークせよ。 35

(ア) この集団は「滅満興漢」をスローガンに掲げた。

(イ) この集団はキリスト教徒たちによってつくられたものである。

- ① (ア) - 正 (イ) - 正 ② (ア) - 正 (イ) - 誤
③ (ア) - 誤 (イ) - 正 ④ (ア) - 誤 (イ) - 誤

(2) この武装蜂起鎮圧後におこった出来事はどれか、最も適するものを次の①～④から一つ選んで、マークせよ。 36

- ① 総理各国事務衙門の創設 ② 科挙の廃止
③ 戊戌の変法の開始 ④ 北洋艦隊の創設

問10 下線部7に関連して、次の(1), (2)に答えよ。

(1) この近郊の周口店で発見された化石人類と同じホモ=エレクトゥスに属するものはどれか、最も適するものを次の①～④から一つ選んで、マークせよ。

37

- ① ジャワ原人 ② クロマニヨン人
③ ネアンデルタール人 ④ アウストラロピテクス

(2) 清よりも前にこの地に都をおいた王朝はどれか、最も適するものを次の

①～④から一つ選んで、マークせよ。

38

① 漢

② 魏

③ 元

④ 秦

問11 下線部8に関連して、このとき出兵した国に含まれる国はどれか、最も適するものを次の①～④から一つ選んで、マークせよ。

39

① スペイン

② オランダ

③ ポルトガル

④ イタリア

問12 下線部9に関連して、モンゴル人民共和国が成立したのは下の年表のどの時期か、最も適するものを次の①～⑤から一つ選んで、マークせよ。

40

①

1918年 第一次世界大戦の終結

②

1931年 満州事変

③

1941年 太平洋戦争の開始

④

1945年 第二次世界大戦の終結

⑤

2022 年度

近畿大学

世界史 入学試験問題解説 図説

ゲルマン人による諸国家

王国／民族名	存続期間	居住地 (移動前)	建国地 (移動後)	滅亡(その後)
西ゴート	415～711	黒海西岸	イベリア半島	ウマイヤ朝による
東ゴート	493～555	黒海北岸	イタリア半島	ユスティニアヌス大帝時代の東ローマ帝国による
ブルグンド	443～534	北部ドイツ	ガリア東南部	フランク王国による
ヴァンダル	429～534	中部ドイツ	北アフリカ	ユスティニアヌス大帝時代の東ローマ帝国による
ランゴバルド	568～774	ライン・エルベ 両川間	北イタリア	カール大帝時代のフランク王国による
フランク	481～843	ライン下流	ガリア北部	(東・西・中部フランクに分裂)
アングロ＝ サクソン (人、七王国、 ヘプターキー)	449～1066	デンマーク ドイツ北岸	大ブリテン島 (ブリタニア)南部 (イングランド)*	(統一王国となる)

10 参考

ローマへの侵入者(4C~6C)

あら、あつちで踊つてよ

アラリック
(西ゴート人)

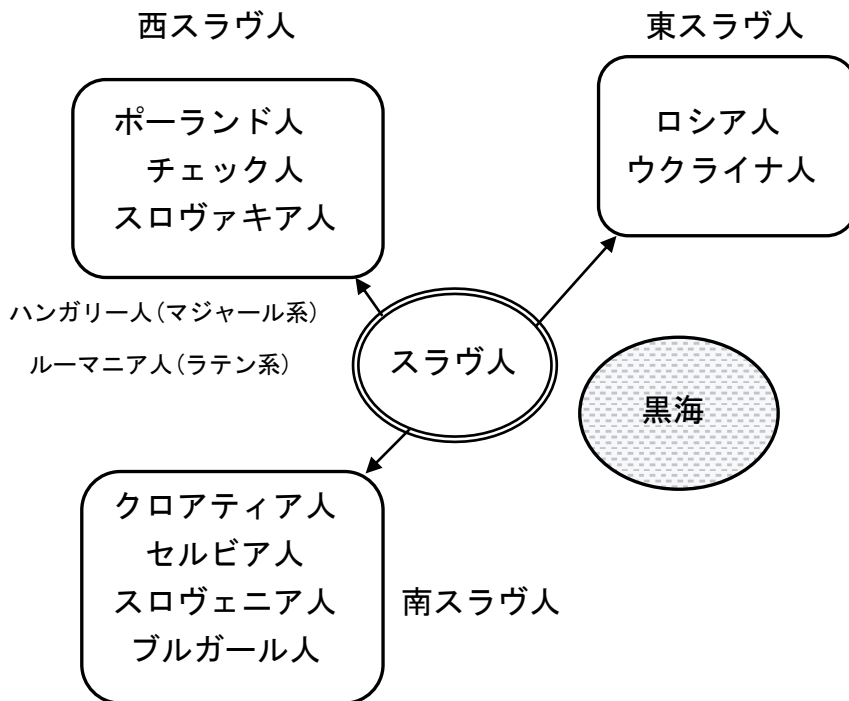
アツティラ
(フン人)

オドアケル
(ゲルマン人
傭兵隊長)

テオドリック
(東ゴート人)

17 参考

スラブ人の移動



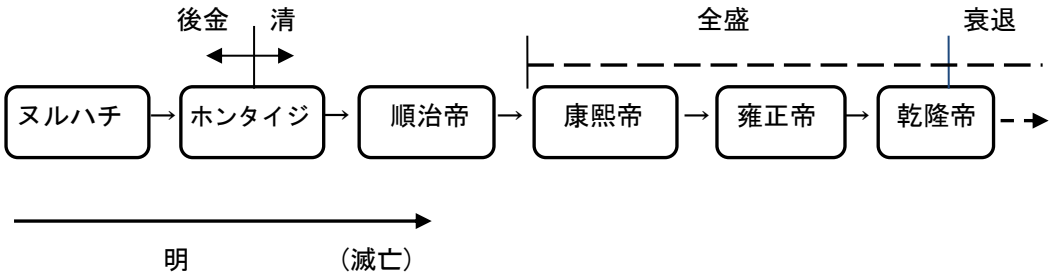
19 参考

教皇と世俗君主の対立(例)

原因	教皇	君主	結果
独の 聖職叙任権 問題	グレゴリウス7世 ○	ハインリヒ4世(独) ×	独帝, 破門に屈服 →カノッサの屈辱 (1077)
英の 聖職叙任権 問題	インノケンティウス 3世 ○	ジョン王(英) ×	英王, 破門に屈服 (13C初)
聖職者への 課税問題	ボニファティウス 8世 ×	フィリップ4世(仏) ○	アナーニ事件 →教皇憤死 (14C初)

21 参考

後金・清(前半期)の皇帝



康熙帝の事績

康熙 帝 さん ちの ベッド で『康熙字典』
編纂鄭氏
滅ぼす三藩の乱
平定チベット進出天 で 寝 る 心 地

典礼問題

ネルチンスク
条約『古今図書集成』
編纂地丁銀

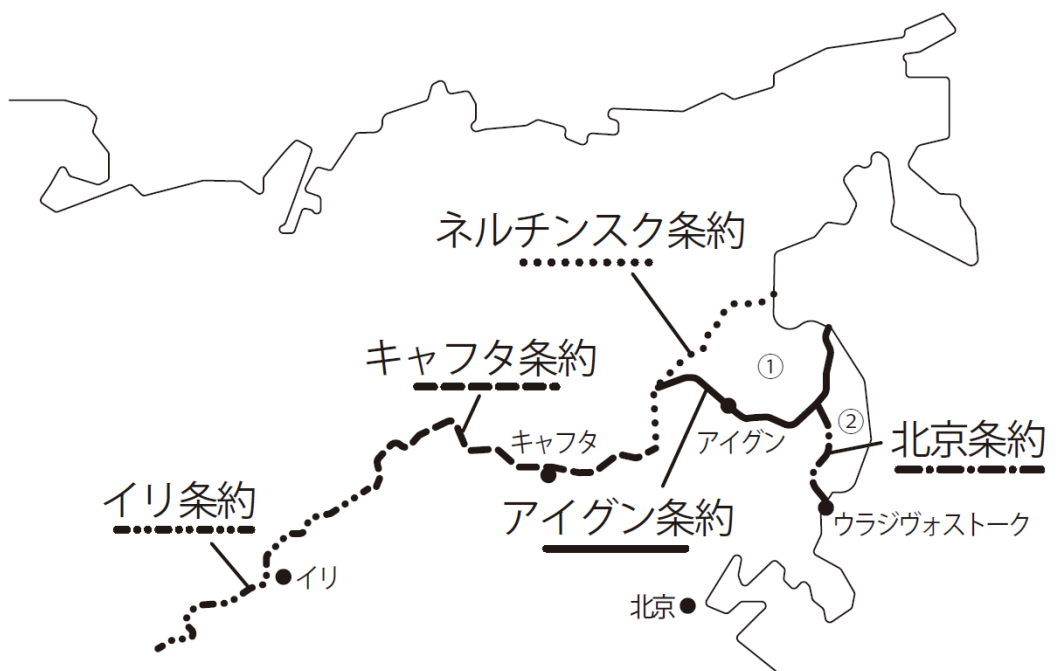
雍正帝の事績

要 請 した, 正 規 軍 の 規 律雍正帝青海
平定キャフタ
条約軍機処
設置キリスト教の
布教全面禁止

乾隆帝の事績

権 利 知 り, 行 使乾隆帝新疆
創設理藩院
設置広州一港
に港限定『四庫全書』
編纂

露・清国境と条約



- ① アイグン条約でロシアが獲得した地域
- ② 北京条約でロシアが獲得した地域 (沿海州)

26 参考

南京条約における五港の開港 * 広州に加え計五港

試 合 に フ ア ン 乞 う

上 海

^{にんぽう}
寧 波

福 州

^{あもい}
厦 門

広 州

31 参考

北京条約(1860, アロー戦争の講和条約)の内容

あ! 変 な ガ キ

アヘン貿易の公認

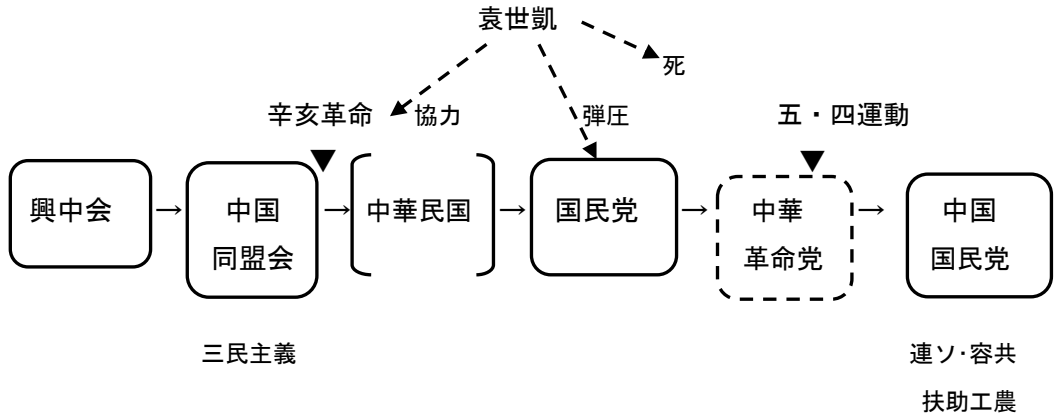
外国公使の 九竜半島の南部割譲
北京駐在

が 来 た か い ?

外国人の キリスト教布教 開港場の増加
内地旅行の自由 の自由

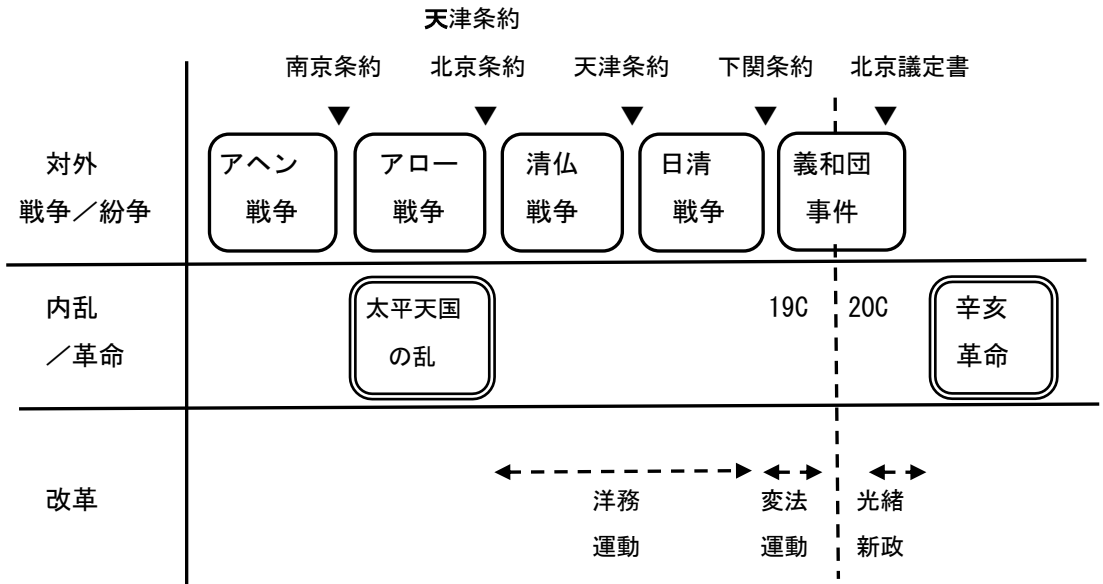
32 参考

孫文の指導した組織



36 参考

清末の情勢



37 参考

人類の発展

	猿人	原人	旧人	新人
例	アウストラロピテクス	ジャワ原人 北京原人 ホモ=ハビリス ホモ=エレクトゥス	ネアンデルタール人	クロマニヨン人 周口店上洞人
新たな文化・風習	打製石器	火・言語 握斧(ハンドアックス)	埋葬 剥片石器	洞穴絵画 骨角器 女性裸像

39 参考

お フ ロ に, い い ド ア
 オーストリア ↓ フランス
 ロシア 日本 イギリス ↓ イタリア
 ↓ ドイツ ↓ アメリカ

令和4年度 一般入試 前期A日程 [1月29日実施問題]解答と配点

世界史「1/29」(法学部・経済学部・経営学部・文芸学部・総合社会学部・国際学部・農学部[農業生産科・水産・環境管理・生物機能科]・産業理工学部・短期大学部)

問題番号	I																				II																			
解答番号	1	2	3	4	5	6	7	8	9	10	11	12	13	14	15	16	17	18	19	20	21	22	23	24	25	26	27	28	29	30	31	32	33	34	35	36	37	38	39	40
正解	3	2	1	4	3	3	2	4	1	4	3	1	2	1	2	1	2	3	3	1	4	4	1	1	2	1	4	4	3	3	2	1	1	1	4	2	1	3	4	2
配点	2	2	2	2	2	2	2	3	3	2	2	3	3	3	2	3	3	3	3	3	2	2	2	2	3	2	3	2	2	3	3	3	2	3	3	3	2	2	3	3