

# 日 本 史

( 解答番号  ~  )

I 次の文を読み、下の問い（問1～10）に答えよ。

592年に崇峻天皇が暗殺されるが、その後に即位した  のもとで、国際的緊張のなか新しい国家組織の形成が進められた。<sup>(a)</sup> その中心となった厩戸皇子（聖徳太子）が法隆寺や四天王寺を創建したことは有名であるが、河内にも聖徳太子と縁の深い「上の太子」「中の太子」「下の太子」と呼ばれる寺院が存在する。

「上の太子」は太子町の叡福寺のことで、622年に亡くなった厩戸皇子の磯長墓に建立されたと伝えられる寺院である。現在でも、叡福寺境内にある7世紀前半に築造されたと考えられる古墳が、<sup>(c)</sup> 聖徳太子廟として祀られている。寺伝では  が創建し、<sup>(d)</sup> 後に聖武天皇が伽藍を整備したとされる。

「中の太子」は羽曳野市に所在する野中寺で、聖徳太子が建立した48寺の一つといわれている。金銅製の弥勒菩薩半跏像が残されており、その銘文に「丙寅年」に「中宮天皇」の病氣平癒を祈願して造像した旨が記されている。「丙寅年」は666年にあてられているが、「中宮天皇」の解釈についてさまざまな見解がある。中宮が女性ということで齊明天皇にあてる説があるが、「丙寅年」にはすでに亡くなっており、<sup>(e)</sup> 天智天皇とする説でもまだ即位しておらず、いまだに定説がない。<sup>(f)</sup>

「下の太子」は八尾市の大聖勝軍寺のことで、崇仏排仏をめぐる戦いに由来する寺院である。東大阪から八尾にかけての地域は、 から公伝した仏教の受容に反対する物部守屋の本拠地であり、崇仏派の  が守屋と最後の戦いをおこなった場所でもあった。崇仏派として戦いに参加した厩戸皇子が四天王に祈願して戦勝をおさめたことから、寺伝ではこの地に太子堂が建立され、大聖勝軍寺が創建されたとする。

問1 空欄  に入れる天皇名として最も適当なものはどれか。次の①～④のうち一つをマークせよ。

- ① 敏達天皇      ② 孝徳天皇      ③ 舒明天皇      ④ 推古天皇

問2 空欄  に入れる語句として最も適当なものはどれか。次の①～④のうち一つをマークせよ。

- ① 百濟      ② 新羅      ③ 高句麗      ④ 隋

問3 空欄  に入れる人名として最も適当なものはどれか。次の①～④のうち一つをマークせよ。

- ① 蘇我入鹿      ② 蘇我馬子      ③ 蘇我稲目      ④ 蘇我蝦夷

問4 下線部(a)についての文として誤りを含んでいるものはどれか。次の①～④のうち一つをマークせよ。

- ① 加耶諸国を次々に支配下におさめ、その支配拠点として屯倉を設けた。  
② 氏族でなく個人の才能・功績に対して冠位を与える冠位十二階を制定した。  
③ 遣隋使として小野妹子を隋に派遣した。  
④ 豪族たちに国家の官僚としての自覚を求めるとともに、仏教を新しい政治理念として重んじる憲法十七条を定めた。

問5 下線部(b)が所在する旧国名として最も適当なものはどれか。次の①～④のうち一つをマークせよ。

- ① 大和      ② 和泉      ③ 摂津      ④ 山背

問6 下線部(c)に関連して、終末期古墳についての文として最も適当なものはどれか。次の①～④のうち一つをマークせよ。

- ① 大規模な前方後円墳を造営するようになり、墳丘には円筒埴輪が多く並べられた。
- ② 竪穴式石室が広く採用され、須恵器や土師器が棺内に納められた。
- ③ 副葬品には甲冑や刀剣などが著しく増え、被葬者の軍事的性格が強まった。
- ④ ごく一部の有力層が円墳や方墳を築造し、大王墓を中心に八角墳が営まれるようになった。

問7 下線部(d)の在位中のできごととして適当でないものはどれか。次の①～④のうち一つをマークせよ。

- ① 国分寺建立の詔の発布
- ② 東大寺大仏の開眼供養
- ③ 藤原広嗣の乱
- ④ 長屋王の変

問8 下線部(e)についての文として最も適当なものはどれか。次の①～④のうち一つをマークせよ。

- ① 蝦夷支配のため阿倍比羅夫を日本海沿いに派遣し、秋田地方など北方の蝦夷と関係を結んだ。
- ② 改新の詔を出し、豪族の田荘・部曲を廃止して公地公民制への移行を目指した。
- ③ 白村江の戦いで唐・新羅連合軍に大敗し、防衛政策として水城などを造営した。
- ④ 孝謙天皇が重祚した天皇である。

問9 下線部(f)の即位前のできごととして最も適当なものはどれか。次の①～④のうち一つをマークせよ。

- ① 庚午年籍の作成
- ② 壬申の乱
- ③ 近江大津宮への遷都
- ④ 飛鳥浄御原令の施行

問10 下線部(g)が公式に伝えられた時の天皇として最も適当なものはどれか。次の

①～④のうち一つをマークせよ。

10

① 継体天皇

② 欽明天皇

③ 雄略天皇

④ 仁徳天皇

II 次のA～Cの史料を読み、下の問い（問1～10）に答えよ。

A 尾張国郡司百姓等解し申し請ふ官裁の事。

裁断せられむことを請ふ、当国の  藤原朝臣元命、三箇年の内に責め取る非法の  并せて濫行横法三十一箇条の  <sup>(整状)</sup>  
(『尾張国郡司百姓等解』)

B 鹿子木の事

- (a) 一 当寺の相承は、開発領主沙弥寿妙嫡々相伝の次第なり。
- 一 寿妙の末流高方の時、權威を借らむがために、実政卿を以て  と号し、 四百石を以て割り分ち、高方は庄家領掌進退の  職となる。
- 一 実政の末流願西微力の間、<sup>(b)</sup> 国衛の乱妨を防がず、この故に願西、 の得分二百石を以て、<sup>(c)</sup> 高陽院内親王<sup>(d)</sup>に寄進す。  
(『東寺百合文書』)

C 下す 茜部御庄住民等

早く地頭請所として御  を進済せしむべき事<sup>(e)</sup>

右、当御庄は、是れ  の沙汰としては、百疋千兩を弁じ難きに依て、地頭の沙汰として、請文の状に任せ、御  を進済せしむべきなり。住民等宜しく承知し、違失すべからざるの状、件の如し。故に下す。  
(『東大寺文書』)<sup>(f)</sup>

問1 空欄  に入れる語句として最も適当なものはどれか。次の①～④のうち一つをマークせよ。

- ① 卿                      ② 大領                      ③ 帥                      ④ 守

問2 空欄   に入れる語句の組み合わせとして最も適当なものはどれか。次の①～④のうち一つをマークせよ。

- ① ア=公 事      ウ=官 物      ② ア=公 事      ウ=年 貢  
③ ア=年 貢      ウ=公 事      ④ ア=官 物      ウ=年 貢

問3 空欄   に入れる語句の組み合わせとして最も適当なものはどれか。次の①～④のうち一つをマークせよ。

- ① イ=領 家      エ=本 家      ② イ=領 家      エ=預 所  
③ イ=預 所      エ=領 家      ④ イ=本 家      エ=領 家

問4 下線部(a)が所在する旧国名として最も適当なものはどれか。次の①～④のうち一つをマークせよ。

- ① 紀 伊      ② 備 前      ③ 伯 耆      ④ 肥 後

問5 下線部(b)に関連して、11世紀頃の国衙についての文として最も適当なものはどれか。次の①～④のうち一つをマークせよ。

- ① 開発領主は、目代として国衙の行政事務を担った。  
② 国内を郡・郷・保などの新たな単位に再編成し、豪族や開発領主に徴税を請け負わせた。  
③ 国衙が租税の免除を認めた荘園を、官省符荘という。  
④ 国衙の使者を引き入れ、租税の減免を訴える荘園が増加した。

問6 下線部(c)の父で、皇女八条院に荘園群を伝えた上皇として最も適当なものはどれか。次の①～④のうち一つをマークせよ。

- ① 白河上皇      ② 堀河上皇      ③ 鳥羽上皇      ④ 後白河上皇

問7 下線部(d)についての文として最も適当なものはどれか。次の①～④のうち一つをマークせよ。 17

- ① 平安京の右京に所在する。
- ② 空海が長者をつとめ、台密の拠点とした。
- ③ 東寺が所蔵する風信帖は、最澄が空海に宛てた書状である。
- ④ 東寺に残る両界曼荼羅は、大日如来を中心とした密教の世界を構図化したものである。

問8 下線部(e)の内容として最も適当なものはどれか。次の①～④のうち一つをマークせよ。 18

- ① 地頭が徴税し、東大寺に納める。
- ② 地頭が徴税し、国衙に納める。
- ③ 東大寺が徴税し、地頭に納める。
- ④ 東大寺が徴税し、国衙に納める。

問9 下線部(f)の再建にあたり、勧進の責任者をつとめた人物として最も適当なものはどれか。次の①～④のうち一つをマークせよ。 19

- ① 叡尊                  ② 重源                  ③ 忍性                  ④ 運慶

問10 Aの訴えが出された後のできごととして最も適当なものはどれか。次の①～④のうち一つをマークせよ。 20

- ① 刀伊の入寇    ② 延喜の荘園整理令の発布
- ③ 平将門の乱    ④ 安和の変

Ⅲ 次のA～Dの文を読み、下の問い（問1～10）に答えよ。

A 1725年、大坂の儒学者の家に生まれる。父の穂積以貫は伊藤東涯<sup>(a)</sup>の門人であった。二世竹田出雲の門に入って、竹本座の作者となり、『本朝二十四孝』『妹背山婦女庭訓』など、現在も上演されている  の脚本を著した。1783年没と<sup>(b)</sup>されている。

B 1728年、高松藩の足軽の家に生まれる。本草学、医学、儒学を学び、また長崎にも遊学した。エレキテルの実験や、寒暖計、耐火織物、毛織物を作ったことで知られるが、福内鬼外の名で  の脚本を、また『風流志道軒伝』等の小説を著し、さらに、西洋画の技法を小田野直武<sup>(c)</sup>に伝えるなど、博学多才の人であった。1779年没。

C 1744年生まれ。駿河小島藩の家臣の家の養子となる。藩の役人を務める一方で、絵を学んで戯作小説の挿絵を描き、自画自作の『金々先生栄花夢』は  と呼ばれる新しいスタイルの小説の始まりとなった。また、狂歌の世界でも活躍した。1789年没。

D 1767年、旗本の家臣の家に生まれる。14歳で主家を飛び出したのち、24歳で山<sup>(d)</sup>東京伝入門、文筆で身を立てることを志した。京伝の代作をしたり、本屋耕書堂を始めた<sup>(e)</sup>蔦屋重三郎の番頭となったりしたのち、30歳ごろから本格的な執筆活動を始める。代表作『南総里見八犬伝』を1814年から28年をかけて完成させたが、1834年頃から視力が衰え、最後の2年間は完全に失明していた。1848年没。

問1 空欄  に入れる語句として最も適当なものはどれか。次の①～④のうち一つをマークせよ。

- ① 狂言                      ② 能                      ③ 人形浄瑠璃                      ④ かぶき踊り



問2 空欄  に入れる語句として最も適当なものはどれか。次の①～④のうち一つをマークせよ。

- ① 浮世草子      ② 洒落本      ③ 合 卷      ④ 黄表紙

問3 下線部(a)と同じ古学派の儒学者として最も適当なものはどれか。次の①～④のうち一つをマークせよ。

- ① 木下順庵      ② 柴野栗山      ③ 荻生徂徠      ④ 中江藤樹

問4 下線部(b)に起きたできごととして最も適当なものはどれか。次の①～④のうち一つをマークせよ。

- ① 宝暦事件      ② 富士山の噴火  
③ 明和事件      ④ 浅間山の噴火

問5 下線部(c)はオランダ語の医学書の訳述書に、原書の扉絵と解剖図を描き写して載せた。その書物として最も適当なものはどれか。次の①～④のうち一つをマークせよ。

- ① 歳 志      ② 蘭学事始      ③ ハルマ和解      ④ 解体新書

問6 下線部(d)についての文として最も適当なものはどれか。次の①～④のうち一つをマークせよ。

- ① 『仕懸文庫』を著し、寛政の改革で処罰された。  
② 大田南畝、石川雅望らとともに川柳を文学の1つの分野として定着させた。  
③ 上田秋成に始まった読本の作品として『雨月物語』を著した。  
④ 恋愛ものの作品『春色梅児誉美』を著し、天保の改革で処罰された。

問7 下線部(e)が刊行した錦絵を描いた人物として最も適当なものはどれか。次の①～④のうち一つをマークせよ。

- ① 菱川師宣      ② 俵屋宗達      ③ 東洲斎写楽      ④ 円山応挙

問8 Cの人物が生きた時代に幕府がおこなった政策として最も適切なものはどれか。次の①～④のうち一つをマークせよ。 28

- ① 末期養子の禁止を緩和した。                      ② 服忌令を出した。  
③ 南鐐二朱銀を鑄造させた。                      ④ 株仲間の解散を命じた。

問9 Dの人物が生きた時代に幕府がおこなった政策として適当でないものはどれか。次の①～④のうち一つをマークせよ。 29

- ① 異国船打払令を出した。                      ② 薪水給与令を出した。  
③ 五品江戸廻送令を出した。                      ④ 寛政異学の禁を発した。

問10 A・B・C・Dの人物の組み合わせとして最も適切なものはどれか。次の①～④のうち一つをマークせよ。 30

- ① A = 近松門左衛門      B = 塙保己一      C = 恋川春町      D = 鶴屋南北  
② A = 近松半二              B = 塙保己一      C = 為永春水      D = 曲亭馬琴  
③ A = 近松門左衛門      B = 平賀源内      C = 為永春水      D = 鶴屋南北  
④ A = 近松半二              B = 平賀源内      C = 恋川春町      D = 曲亭馬琴

Ⅳ 次の文を読み、下の問い（問1～10）に答えよ。

1911年、国家財政が悪化する中で組閣された西園寺公望内閣は、朝鮮に常駐する二個師団の増設をもとめる陸軍と対立した。陸軍大臣  は単独で天皇に辞表を提出し、軍部大臣現役武官制を盾に内閣を総辞職に追い込んだ。

元老会議は  を後継首相としたが、藩閥や軍部に対する国民の不満が爆発した。立憲政友会の 、立憲国民党の  らが「閥族打破、憲政擁護」をスローガンに倒閣運動を起こすと、運動はたちまち全国にひろがった。

は、新党を組織して対抗しようとしたが、内閣はわずか50日余りで倒れた。その後、 が立憲政友会を与党に組閣したが、 で批判をあびて退陣すると、国民や言論界に人気のあった  が後継首相に指名された。

問1 空欄  に入れる人名として最も適当なものはどれか。次の①～④のうち一つをマークせよ。

- ① 斎藤実                      ② 上原勇作                      ③ 宇垣一成                      ④ 米内光政

問2 空欄  に入れる語句として最も適当なものはどれか。次の①～④のうち一つをマークせよ。

- ① 虎の門事件                      ② 米騒動  
③ シーメンス事件                      ④ 亀戸事件

問3 空欄    に入れる人名の組み合わせとして最も適当なものはどれか。次の①～④のうち一つをマークせよ。

- ① ア＝清浦奎吾      エ＝山本権兵衛      オ＝原 敬  
② ア＝桂太郎      エ＝寺内正毅      オ＝山本権兵衛  
③ ア＝清浦奎吾      エ＝加藤高明      オ＝原 敬  
④ ア＝桂太郎      エ＝山本権兵衛      オ＝大隈重信

問4 空欄   に入れる人名の組み合わせとして最も適当なものはどれか。次の①～④のうち一つをマークせよ。

- ① イ = 犬養毅      ウ = 尾崎行雄
- ② イ = 犬養毅      ウ = 加藤高明
- ③ イ = 尾崎行雄      ウ = 犬養毅
- ④ イ = 尾崎行雄      ウ = 高橋是清

問5 下線部(a)に起きたできごととして最も適当なものはどれか。次の①～④のうち一つをマークせよ。

- ① 工場法が施行された。
- ② 前年の大逆事件で有罪判決を受けた26名のうち、12名の死刑が執行された。
- ③ 朝鮮総督府が設置された。
- ④ 東京美術学校が設立された。

問6 下線部(b)として適当でないものはどれか。次の①～④のうち一つをマークせよ。

- ① 松方正義      ② 大久保利通      ③ 井上馨      ④ 山県有朋

問7 下線部(c)の結成年として最も適当なものはどれか。次の①～④のうち一つをマークせよ。

- ① 1891年      ② 1898年      ③ 1900年      ④ 1910年

問8 下線部(d)がおこなった議会演説として最も適当なものはどれか。次の①～④のうち一つをマークせよ。 38

- ① 政治上一般民衆を重んじ、其間に貴賤上下の別を立てず、而かも国体の君主制たると共和制たるとを問はず、普く通用する所の主義たるが故に、民本主義といふ比較的新しい用語が一番適当であるかと思ふ。
- ② 歳ハ庚子に在り八月某夜、金風浙瀝として露白く天高きの時、一星忽焉として墜ちて声あり、嗚呼自由党死す矣、而して其光荣ある歴史ハ全く抹殺されぬ。
- ③ 今回欧州ノ大禍乱ハ、日本国運ノ發展ニ対スル大正新時代ノ天祐ニシテ、日本国ハ直ニ挙国一致ノ團結ヲ以テ、此天祐ヲ享受セザルベカラズ。
- ④ 彼等ハ常ニ口ヲ開ケバ直ニ忠愛ヲ唱へ、恰モ忠君愛国ハ自分ノ一手専売ノ如ク唱ヘテアリマスルガ、其為ストコロヲ見レバ、常ニ玉座ノ蔭ニ隠レテ、政敵ヲ狙撃スルガ如キ挙動ヲ執ッテ居ルノdealル。

問9 下線部(e)に関連して、加藤高明を総裁として1913年末に結党をみた政党として最も適当なものはどれか。次の①～④のうち一つをマークせよ。 39

- ① 進歩党            ② 立憲同志会        ③ 立憲帝政党        ④ 政友本党

問10 下線部(f)の内閣についての文として最も適当なものはどれか。次の①～④のうち一つをマークせよ。 40

- ① 軍部大臣現役武官制を改正し、予備役・後備役でも陸海軍大臣になれるようにした。
- ② 二個師団増設を実現した。
- ③ 選挙権の納税資格を引き下げ、小選挙区制を導入した。
- ④ シベリア出兵を宣言した。

令和3年度 一般入試 前期B日程 [2月13日実施問題] 解答と配点

日本史「2/13」(法学部・経営学部・建築学部・文芸学部)

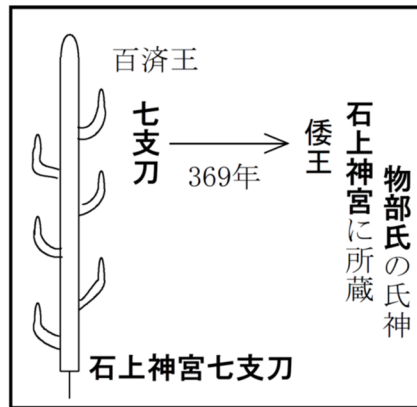
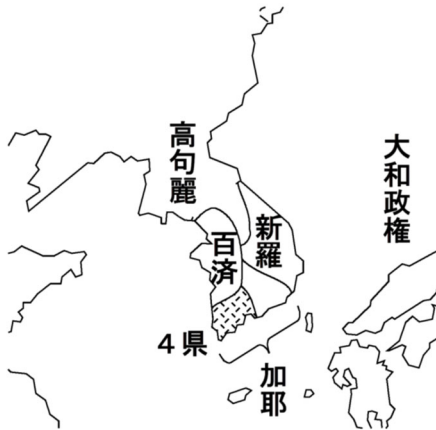
問題番号	I										II										III										IV									
解答番号	1	2	3	4	5	6	7	8	9	10	11	12	13	14	15	16	17	18	19	20	21	22	23	24	25	26	27	28	29	30	31	32	33	34	35	36	37	38	39	40
正解	4	1	2	1	3	4	2	1	3	2	4	4	2	4	2	3	4	1	2	1	3	4	3	4	4	1	3	3	3	4	2	3	4	3	2	2	3	4	2	1
配点	2	2	2	2	2	2	2	2	2	2	3	3	3	3	3	3	3	3	3	3	3	3	3	3	3	3	3	3	3	3	2	2	2	2	2	2	2	2	2	2

# 解説（参考資料）

## I

問2

6世紀の朝鮮情勢

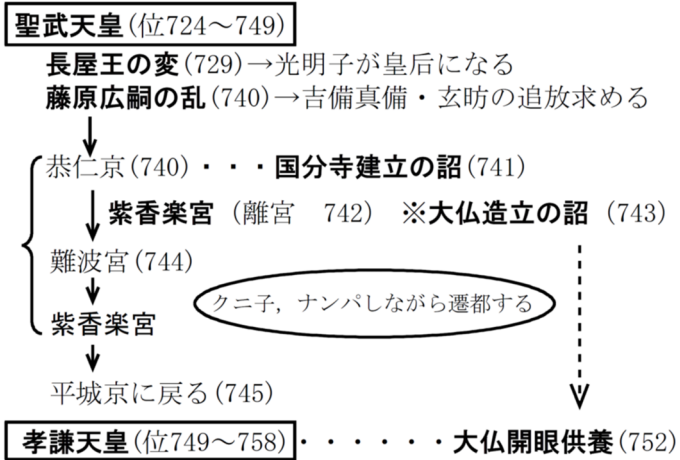


問4

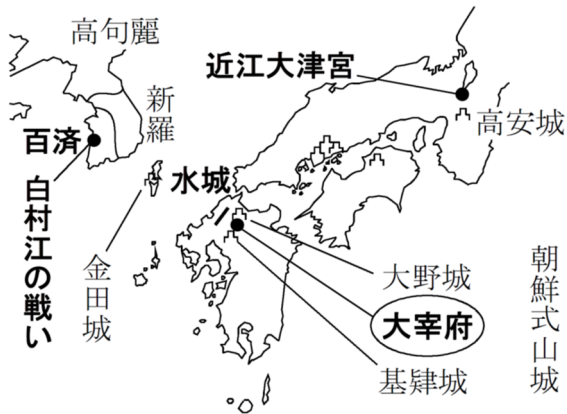


加耶諸国(任那)—562年新羅に滅ぼされる

問7



問8





## II

### 問1

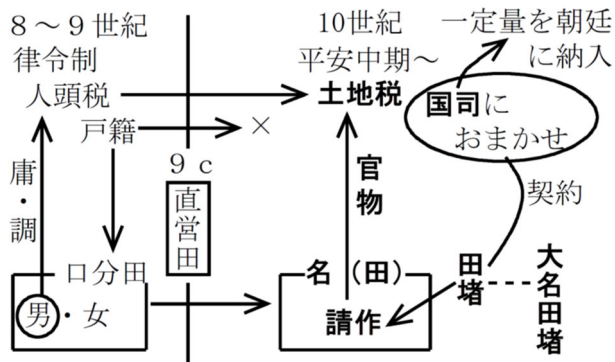
#### 国司の徴税請負人化(10世紀半)

一国の統治権が付与され、一定額の税を朝廷に納入  
 有力農民の田堵に名〔名田〕の耕作を請負わせ課税する  
 官物(租・庸・調)・臨時雑役(雑徭など)

受領一國司の最上級者(守) 徴税強化・苛政

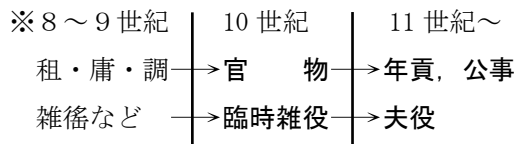
藤原元命(988年「尾張国郡司百姓等解」で訴えられる)

藤原陳忠(信濃国守, “受領は倒れるところに土つかめ” 『今昔物語集』)

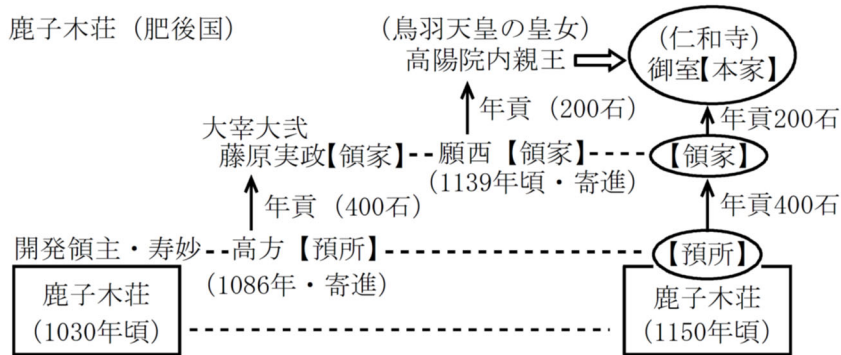
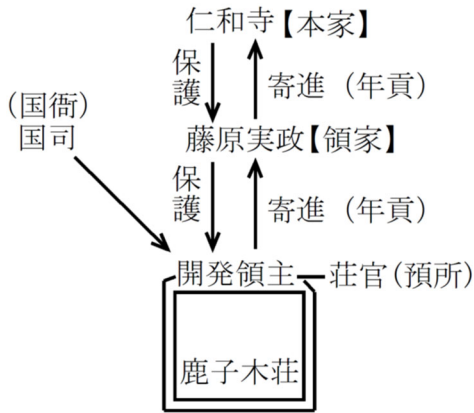


### 問2

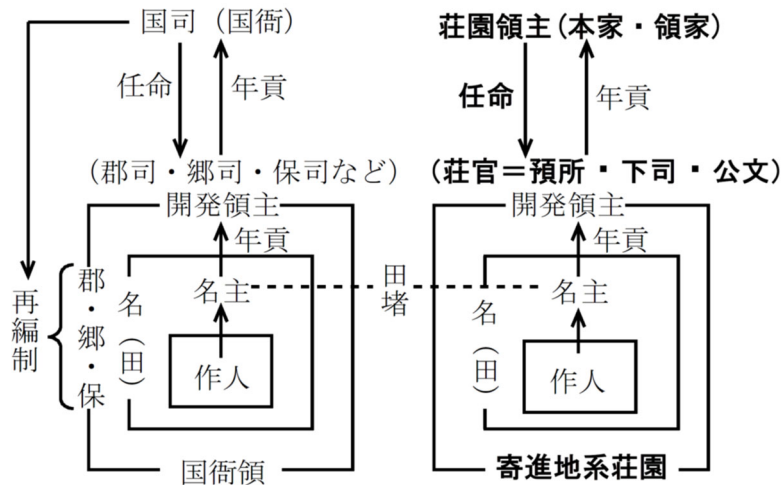
#### 租税の変遷



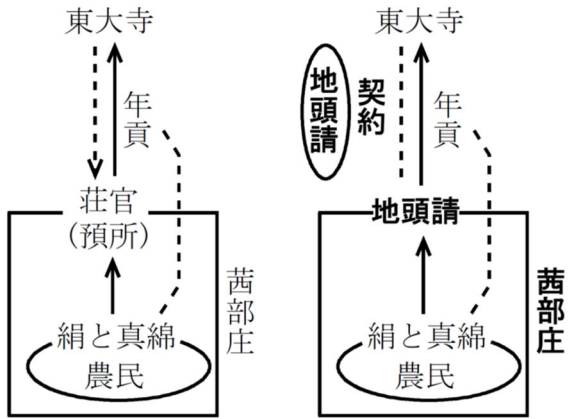
問 4



問 5



問8



### III

#### 問1

元禄文化

近松門左衛門 『曾根崎心中』『国姓爺合戦』 ※竹本義太夫(竹本座)

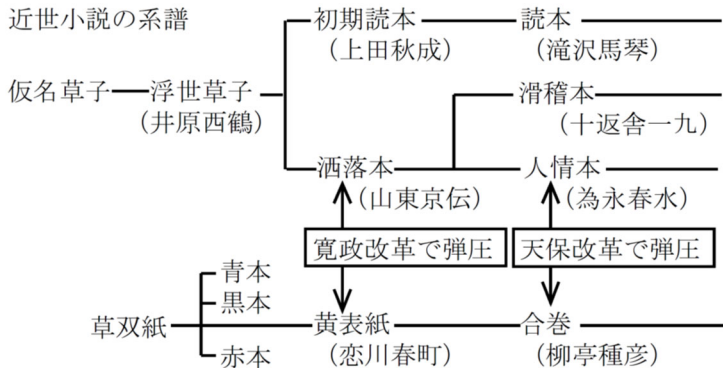
宝暦・天明期

竹田出雲(二世) 『仮名手本忠臣蔵』

近松半二 『本朝二十四孝』 近松門左衛門に私淑

#### 問2

近世小説の系譜



#### 問3

**古学** = 孔子・孟子の古典にたち帰ろうとする立場

聖学 山鹿素行 『聖教要録』(朱子学批判, 赤穂に配流)

古義学 伊藤仁斎・東涯 私塾: 古義堂(堀川塾)

古文辞学 荻生徂徠 『政談』(武士土着論) — 吉宗の政治顧問  
護園塾(江戸)

太宰春台 『経済録』(藩営専売制)

問7

- ① 菱川師宣 元禄期・浮世絵版画の創始者 『見返り美人図』(肉筆画)
- ② 俵屋宗達 寛永期・『風神雷神図屏風』
- ④ 円山応挙 宝暦・天明期, 写生画・『雪松図屏風』『保津川図屏風』

蔦屋重三郎=宝暦・天明期の出版業者(田沼時代)

文芸

山東京伝(洒落本)

恋川春町(黄表紙)

大田南畝(狂歌)

曲亭(滝沢)馬琴(読本)

浮世絵(錦絵)

喜多川歌麿 大首絵

東洲斎写楽 大首絵

問8

- ① 末期養子の禁止を緩和した。 1651年 4代将軍・家綱
- ② 服忌令を出した。 1684年 5代将軍・綱吉
- ③ 南鐮二朱銀を鑄造させた。 1772年老中田沼意次(10代将軍・家治)
- ④ 株仲間の解散を命じた。 1841年天保の改革(老中水野忠邦:12代将軍・家慶)

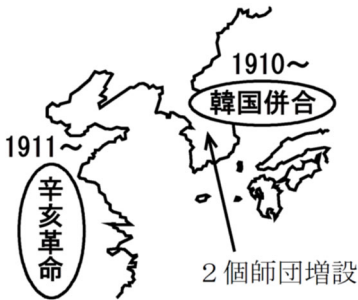
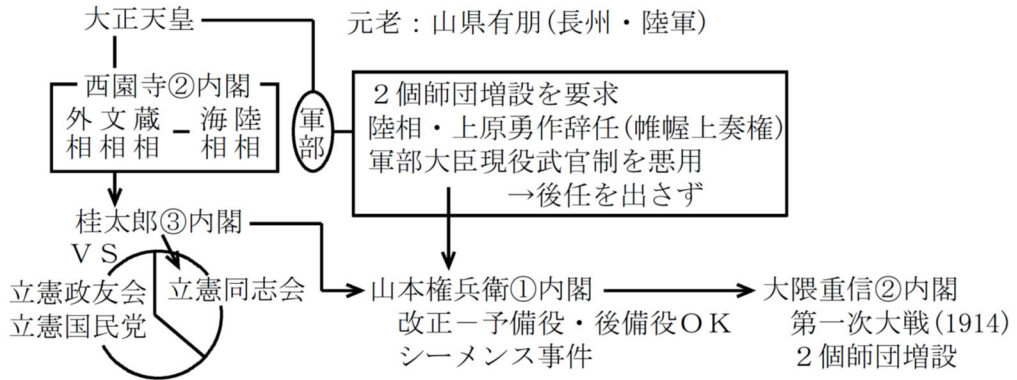
問9

- ① 異国船打払令を出した。 1825年(11代将軍家斉)
- ② 薪水給与令を出した。 1842年 天保改革
- ③ 五品江戸廻送令を出した。 1860年
- ④ 寛政異学の禁を発した。 1790年 寛政改革

日米修好通商条約(1858年)→日常品の輸出増大(物価高騰)

五品江戸廻送令(1860年)→輸出抑制

# IV



軍部大臣現役武官制＝陸海軍大臣は現役の大將・中將に限る

尾崎行雄(立憲政友会)の桂太郎内閣弾劾演説(1913年2月5日)

彼等ハ常ニ口を開ケバ直ニ忠愛ヲ唱ヘ、恰モ忠君愛國ハ自分ノ一手専売ノ如ク唱ヘテ居リマスルガ、其為ストコロヲ見レバ、常ニ玉座ノ蔭ニ隠レテ、政敵ヲ狙撃スルガ如キ挙動ヲ執ツテ居ルノデアル。

・・・彼等ハ玉座ヲ以テ胸壁トナシ、詔勅ヲ以テ弾丸ニ代ヘテ政敵ヲ倒サントスルモノデハナイカ。

問6

元老：黒田清隆・伊藤博文・山県有朋・松方正義・井上馨・西郷従道・大山巖  
桂太郎・西園寺公望

問9

憲政の常道(政党内閣の時代)

憲政会(のち立憲民政党)・立憲政友会

問10

- ② 二個師団増設を実現した。 大隈重信内閣② 1915年議会で可決
- ③ 選挙権の納税資格を引き下げ、小選挙区制を導入した。  
1919年 原敬内閣 10円→3円, 立憲政友会に有利な小選挙区制を導入
- ④ シベリア出兵を宣言した。 1918年 寺内正毅内閣

動画教材「ベリタスアカデミー」を受講してみたい方は  
info@veritas.bz または info@v-a-l.jp までお問い合わせ下さい。

