

地 理(解答番号 ~)

I 次の図と文を読み、下の問い（問1～10）に答えよ。



人類を骨格・皮膚・毛髪などの外見の特徴で分類した区分は人種と呼ばれ、民族は、言語、宗教、生活様式のような文化的特徴によって分類された区分である。言語は、文法や単語の類似性から語族や語派に分類される。宗教は、イスラーム、キリスト教、仏教の三大宗教である世界宗教と、特定の地域や民族と結びついた民族宗教に分類されている。

問1 下線部 a に関連して述べた次の文(1)・(2)の正誤として最も適当なものを、下の①～④のうちから一つ選びマークせよ。

(1) オーストラロイドはオーストラリアなどの南方に、コーカソイドはヨーロッパに分布している。

(2) モンゴロイドはアジア系人種と呼ばれ西アジアに、ネグロイドはアフリカ系人種と呼ばれ北アフリカに分布している。

① (1)のみ正しい

② (2)のみ正しい

③ (1)・(2)とも正しい

④ (1)・(2)とも正しくない

問2 下線部 b に関連して先住民について述べた文として最も適当なものを、次の①～④のうちから一つ選びマークせよ。

① アボリジニは、オーストラリア大陸の先住民である。

② マオリは、アフリカ大陸の先住民である。

③ ムラートは、ヨーロッパ大陸の先住民である。

④ メスチーソは、南アメリカ大陸の先住民である。

問3 下線部 c に関連して、世界の言語人口の多い順として最も適当なものを、次の①～⑥のうちから一つ選びマークせよ。

① 英語→スペイン語→中国語

② 英語→中国語→スペイン語

③ スペイン語→英語→中国語

④ スペイン語→中国語→英語

⑤ 中国語→英語→スペイン語

⑥ 中国語→スペイン語→英語

問4 下線部cに関連して、旧宗主国の言語が公用語でない国として最も適当なものを、次の①～④のうちから一つ選びマークせよ。

- ① アルジェリア
- ② アルゼンチン
- ③ コートジボワール
- ④ メキシコ

問5 下線部dに関連して述べた文として最も適当なものを、次の①～④のうちから一つ選びマークせよ。

- ① アラビア語は、アフロ=アジア語族のケルト語派である。
- ② イタリア語は、インド=ヨーロッパ語族のゲルマン語派である。
- ③ フランス語は、インド=ヨーロッパ語族のラテン語派である。
- ④ ロシア語は、アフロ=アジア語族のスラブ語派である。

問6 図中のA地域で見られる紛争について述べた次の文中の（ア）（イ）に当てはまる最も適当なものを、下の①～⑥のうちから一つずつ選び、アは に、イは にマークせよ。

チェチェンでは、（ア）が多数を占める民族が、（イ）が多数を占めるロシアからの分離独立を求めて戦った。カスピ海沿岸と黒海を結ぶパイプラインの経由地でもあるため、ロシアは独立を認めず、紛争が生じた。

- ① キリスト教徒
- ② チベット仏教徒
- ③ ヒンドゥー教徒
- ④ 仏教徒
- ⑤ ムスリム
- ⑥ ユダヤ教徒

問7 図中のB地域で見られた紛争について述べた次の文中の（ウ）（エ）に当てはまる最も適当なものを、下の①～⑥のうちから一つずつ選び、ウは に、エは にマークせよ。

1948年に独立したスリランカ（当時のセイロン）では、多数派である（ウ）に対して政府が優遇政策を進めてきた。そのため、北部に多い（エ）との間で内戦状態が続いたが、2009年に終結した。

- ① ヒンドゥー教徒のシンハラ人 ② ヒンドゥー教徒のタミル人
- ③ ヒンドゥー教徒のムーア人 ④ 仏教徒のシンハラ人
- ⑤ 仏教徒のタミル人 ⑥ 仏教徒のムーア人

問8 図中のC地域で見られる紛争について述べた次の文中の（オ）に当てはまる最も適当なものを、下の①～④のうちから一つ選びマークせよ。

南シナ海に位置する（オ）では、中国・ベトナム・フィリピン・マレーシアのほか、ブルネイなどが領有権を主張している。特に中国が人工島の建設など実効支配を強めてきたことで、より一層緊張が高まっている。

- ① 東沙群島 ② 西沙群島 ③ 中沙群島 ④ 南沙群島

問9 民族問題について述べた文として適当でないものを、次の①～④のうちから一つ選びマークせよ。

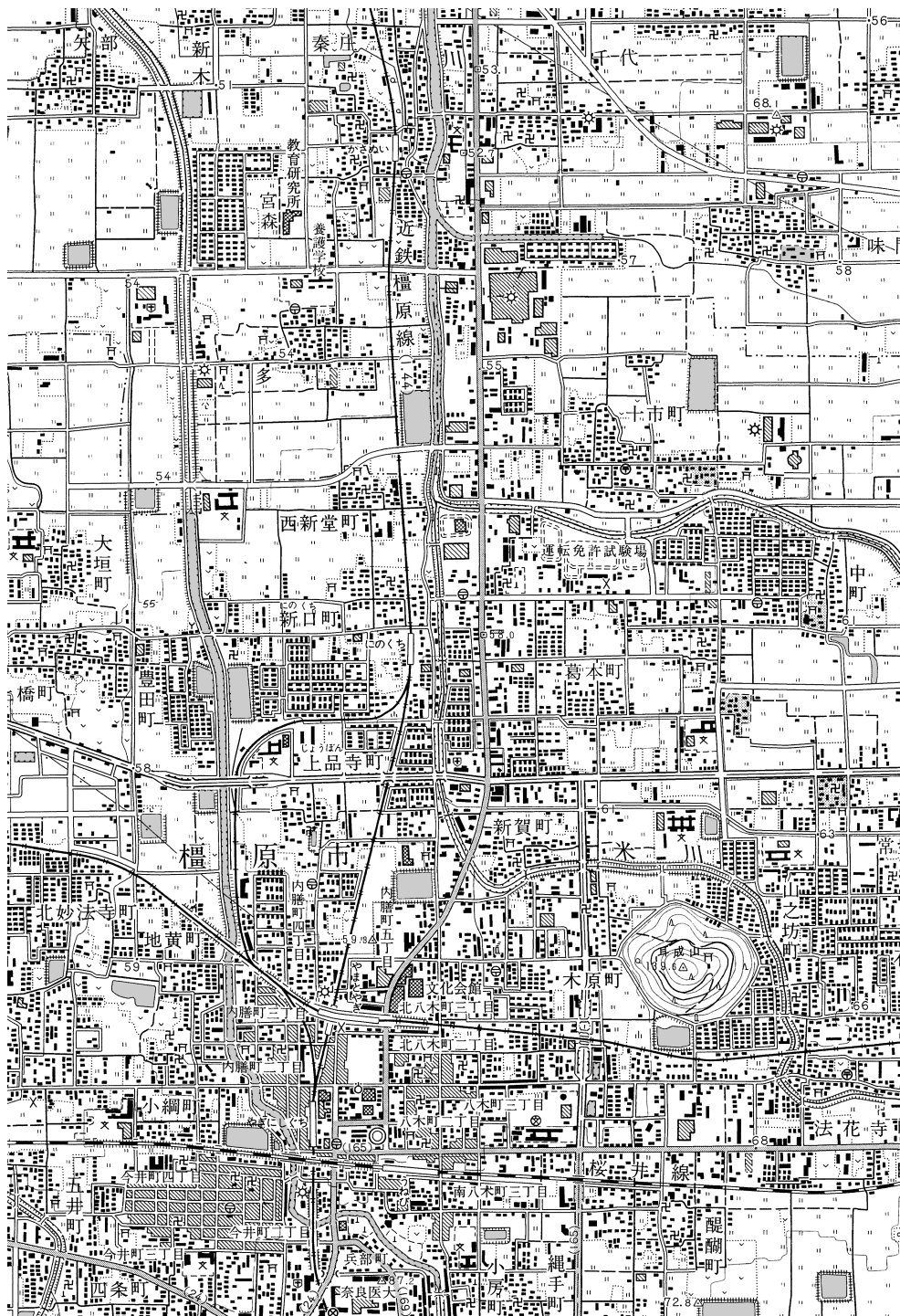
- ① パレスチナ問題は、ユダヤ教徒とキリスト教徒の対立である。
- ② アフリカにおける民族対立の一因は、植民地時代の境界を国境として用いることにある。
- ③ クルド人は、トルコやイラクなどに対して自治や独立を求めている。
- ④ カシミール問題は、ムスリムとヒンドゥー教徒の対立を中心とする問題である。

問10 次の(1)~(3)は図中のD~Mのいずれかにおいて生じた民族・宗教・国家に関する問題について述べた文である。(1)~(3)に該当する最も適切な位置(D~M)を、下の①~⑩のうちから一つずつ選び、(1)は に、(2)は に、(3)は にマークせよ。

- (1) 植民地時代の部族対立に起因する内戦が続き、多くの難民が発生した。治安が不安定なため、周辺海域での海賊行為が国際航路に影響を与えている。
- (2) 多数派のギリシャ正教のギリシャ系と少数派のイスラームのトルコ系とが対立し、現在はギリシャ系を中心とする国家のみが独立国として承認されている。
- (3) 少数派のツチ人と多数派のフツ人の主導権争いが招いた内戦であり、大量虐殺や深刻な難民問題が発生している。

- ① D ② E ③ F ④ G ⑤ H
⑥ I ⑦ J ⑧ K ⑨ L ⑩ M

II 次の地形図（平成14年発行）とヒトミさんのメモを読み、下の問い（問1～14）に答えよ。



今週の日曜も奈良県内の地理探訪に出た。今日は橿原だ。「やまとやぎ」駅で近鉄橿原線を降り、まずはレンタサイクルで耳成山に行ってみる。地形図によれば、盆地にぽっかり浮かぶ標高140mほどの（ア）山である。^a麓との標高差は約（イ）mほどだから、等高線の数から、図の縮尺は（ウ）とわかる。ため池近くの上り口から、（エ）を通り、（オ）を抜けて、左回りに山を一周して8合目の神社まで登った。由緒書きで「正倉院文書」にも出てくる古い社であることを知り、悠久の時に思いを馳せた。

次に訪ねたのは、東西に走る（カ）のすぐ南側に広がる、今井町の街並みだ。ここは重要伝統的建造物群保存地区（重伝建地区）に指定されており、往時の面影がよく残る。^b寺内町を起源とする町であり、重要文化財に指定されている家屋も多い。重伝建地区は、奈良県にはここを含めて3か所あるが、志望大学のある大阪府では唯一（キ）があるだけで、それも今井町と同じ寺内町を起源とするものらしい。ここでは耳成山とはまた違う、近世の奈良の姿を垣間見た。

来週は五條の重伝建地区を見学して、名物の柿の葉ずしでも食べてみようかな。^d

問1 （ア）に当てはまる最も適当なものを、次の①～④のうちから一つ選びマークせよ。

- ① 円錐形の
- ② 切り立った
- ③ 釣鐘状の
- ④ 二つの山頂を持つ

問2 （イ）に当てはまる最も適当なものを、次の①～④のうちから一つ選びマークせよ。

- ① 55
- ② 65
- ③ 75
- ④ 85

問3 （ウ）に当てはまる最も適当なものを、次の①～④のうちから一つ選びマークせよ。

- ① 5千分の1
- ② 1万分の1
- ③ 2万5千分の1
- ④ 5万分の1

問4 (エ) に当てはまる最も適切なものを、次の①～④のうちから一つ選び
マークせよ。 18

- ① 1車線の道路
- ② 軽車道
- ③ 庭園路
- ④ 徒歩道

問5 (オ) に当てはまる最も適切なものを、次の①～④のうちから一つ選び
マークせよ。 19

- ① 広葉樹林
- ② 針葉樹林
- ③ 竹林
- ④ ハイマツ地

問6 (カ) に当てはまる最も適切なものを、次の①～④のうちから一つ選び
マークせよ。 20

- ① 単線でJR線の鉄道
- ② 単線でJR線以外の鉄道
- ③ 複線でJR線の鉄道
- ④ 複線でJR線以外の鉄道

問7 (キ) に当てはまる最も適切なものを、次の①～④のうちから一つ選び
マークせよ。 21

- ① 天保山
- ② 堂島
- ③ 富田林
- ④ 難波津

問8 下線部aについて述べた文として最も適切なものを、次の①～④のうちから
一つ選びマークせよ。 22

- ① 国土交通省国土地理院が発行する、小縮尺の主題図である。
- ② 測量には膨大な労力を要するため、日本全国は網羅できていない。
- ③ 地図記号や図式はずっと受け継がれ、明治時代から変更されていない。
- ④ 地理院地図もその一種であり、地形図を3D表示することもできる。

問9 下線部 b について述べた文として最も適当なものを、次の①～④のうちから一つ選びマークせよ。

- ① 世界自然遺産の日本版ともいわれ、全国の産業遺産が指定されている。
- ② 公園が併設されているものはジオパークと呼ばれ、ハイキング客が多い。
- ③ 国宝級の建物を保存するのが目的で、国内に2,000件以上の登録がある。
- ④ 地域の地理や歴史を活かした、まちづくりへの可能性を秘めている。

問10 下線部 c について述べた文として最も適当なものを、次の①～④のうちから一つ選びマークせよ。

- ① 同じ性格を持つ町として、神社の参道に発達したものに鳥居前町がある。
- ② 寺院への参詣客を相手にする、宿屋や土産物屋を中心にして発達した。
- ③ 全国の代表例として、長野市や成田市に見られるものが挙げられる。
- ④ 仏教寺院を中心にした自治集落で、防御機能を持つものも少なくない。

問11 下線部 d に関連して述べた文として最も適当なものを、次の①～④のうちから一つ選びマークせよ。

- ① 柿の生産量（2017年）は奈良県が全国最多で、国内総生産量の約8割を占めている。
- ② 柿の葉には殺菌作用があるといわれ、たんぱく源となる海産物を保存する知恵として受け継がれてきた。
- ③ 酢飯に刻んだ柿の葉とぶつ切りした魚貝を混ぜ合わせ、のりで巻いて一口大にしたものである。
- ④ 木製のわっぱに柿の葉を敷きつめ、燻製した魚と酢飯をのせて葉できつく包んだものである。

問12 図中の農業について述べた文として最も適当なものを、次の①～④のうちから一つ選びマークせよ。

- ① 荒地が多く見られるが、そのほとんどは耕作放棄地だと考えられる。
- ② 農業用水として、ため池の水がおもに使われているようである。
- ③ 標高が高い土地より、低い土地で畑作がよりさかんな傾向がある。
- ④ 北部に広がる果樹園で柿が栽培され、柿の葉が出荷されている。

問13 図中の集落について述べた文として最も適当なものを、次の①～④のうちから一つ選びマークせよ。

- ① 今井町二丁目では、密集する家屋に混じって病院や警察署が見られる。
- ② 近鉄橿原線の東に並行して、南北に細長く街村が続いている。
- ③ 道路網の形状や間隔から、条里制の遺構が残存すると考えられる。
- ④ 矢部や大垣町など、散村を起源とする集落が見られる。

問14 図中に見られる地図記号として最も適当なものを、次の①～④のうちから一つ選びマークせよ。

- ① 敷地面積 1 km^2 を超える工場
- ② 市役所と町役場
- ③ 有料道路と料金所
- ④ 路線が立体交差する駅

Ⅲ 次の図1を見て、下の問い（問1～11）に答えよ。

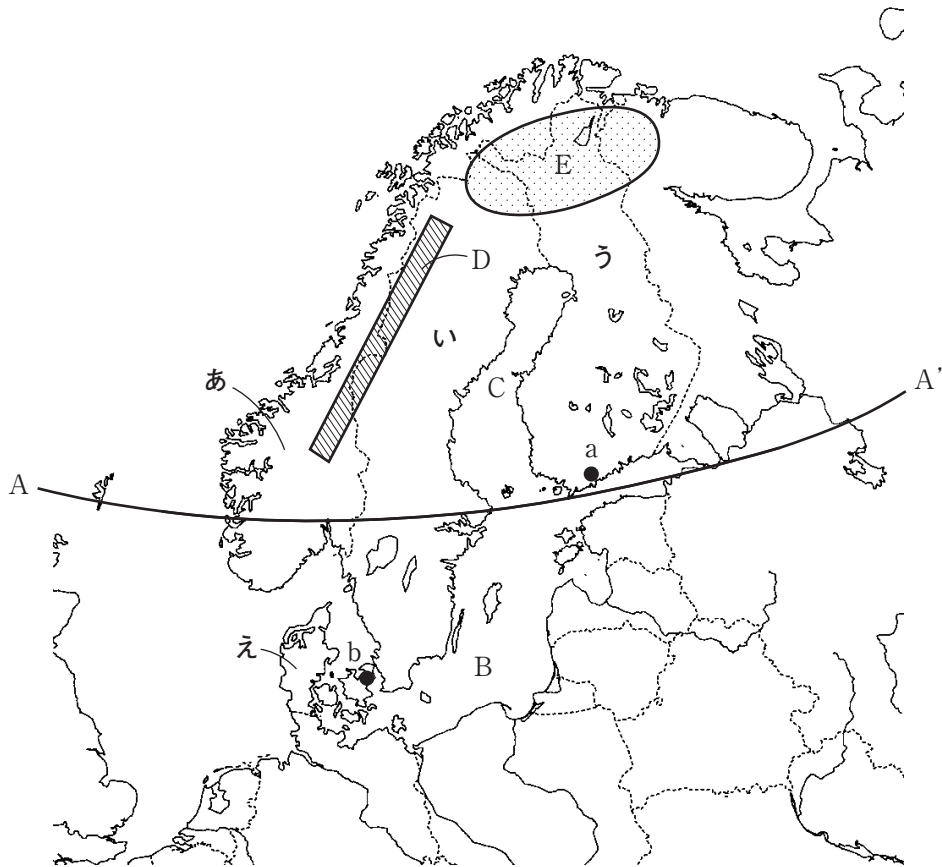


図1

問1 図1中のA-A'の緯線（北緯）として最も適当なものを、次の①～④のうちから一つ選びマークせよ。

- ① 55度 ② 60度 ③ 65度 ④ 70度

問2 図1中のBの海域とCの湾の最も適当な組合せを、次の①～④のうちから一つ選びマークせよ。

- ① B：白海 C：ビスケー湾 ② B：白海 C：ボスニア湾
 ③ B：バルト海 C：ビスケー湾 ④ B：バルト海 C：ボスニア湾

問3 図1中のあ国西海岸で典型的に発達した地形と同じ形態を持つ地域の例として**適当でないもの**を、次の①～④のうちから一つ選びマークせよ。 31

- ① アラスカ州南岸
- ② グリーンランド南岸
- ③ チリ南部西岸
- ④ ニュージーランド北島東岸

問4 図1中のDの山脈とその周辺について述べた文として最も**適当なもの**を、次の①～④のうちから一つ選びマークせよ。 32

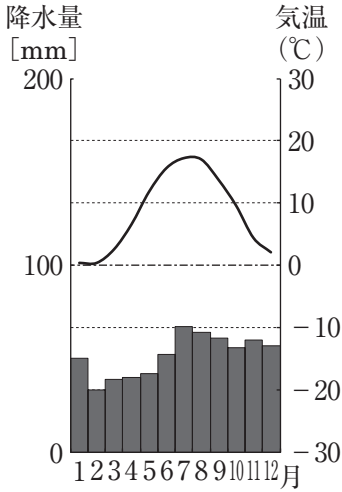
- ① あ国とい国の数理的国境をなしている。
- ② 中生代以降に造山運動を受けてきた古期造山帯に分類される。
- ③ 東側のい国からう国にかけて楕状地が広がっている。
- ④ 北部のイエーテボリは良質な鉄鉱石の産地である。

問5 図1中のEの地域に居住している先住民と、おもに飼育される家畜の最も**適当な組合せ**を、次の①～⑥のうちから一つ選びマークせよ。 33

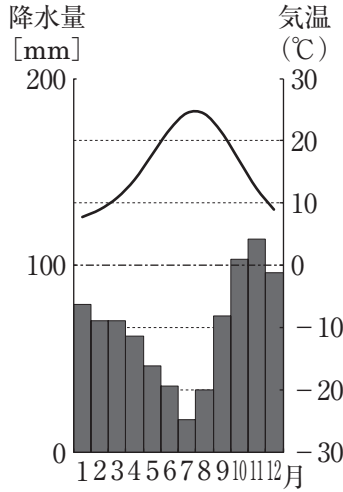
	先住民	家畜
①	イヌイット	アルパカ
②	イヌイット	トナカイ
③	イヌイット	ヤク
④	サーミ	アルパカ
⑤	サーミ	トナカイ
⑥	サーミ	ヤク

問6 図1中のa・bの都市の雨温図として最も適当なものを、次の①～⑥のうちから一つずつ選び、aは に、bは にマークせよ。

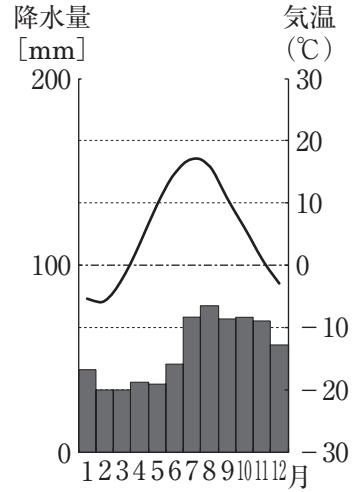
①



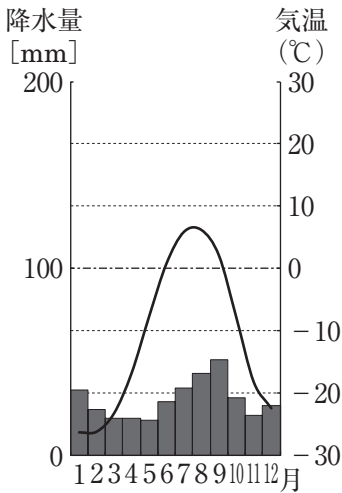
②



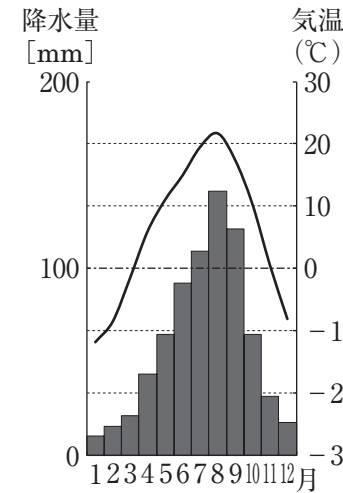
③



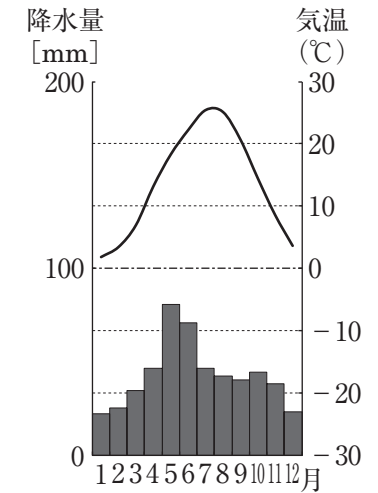
④



⑤



⑥



問7 次の表1は、図1中のあ～え国における土地利用の内訳（2016年）を示したものであり、c～eはそれぞれ耕地、牧場・牧草地、森林のいずれかである。c～eに該当する土地利用の最も適当な組合せを、下の①～⑥のうちから一つ選びマークせよ。

36

表1

(%)

土地利用	あ	い	う	え
c	33.2	68.9	73.1	14.7
d	0.5	1.1	0.1	5.4
e	2.2	6.3	7.4	56.6

(『データブック オブ・ザ・ワールド 2020年版』による)

	c	d	e
①	耕地	森林	牧場・牧草地
②	耕地	牧場・牧草地	森林
③	森林	耕地	牧場・牧草地
④	森林	牧場・牧草地	耕地
⑤	牧場・牧草地	耕地	森林
⑥	牧場・牧草地	森林	耕地

問8 次の表2は、水産物の輸出量上位5か国の国別内訳（2016年、金額ベース）を示したものであり、表2中の①～④は、図1中のあ国、アメリカ合衆国、中国、ベトナムのいずれかである。図1中のあ国に該当するものを、①～④のうちから一つ選びマークせよ。 37

表2

①	1位	14.2%
②	2位	7.6%
③	3位	5.1%
タイ	4位	4.1%
④	5位	3.9%
	世界計(百万ドル)	142,773

（『世界国勢図会 2019/20年版』による）

問9 次の表3中のf～iは、図1中のあ～え国いずれかの主要輸出品の品目別内訳（2017年、金額ベース）を示したものである。fに該当する国として最も適当なものを、下の①～④のうちから一つ選びマークせよ。 38

表3

(%)

f		g		h		i	
機械類	22.8	原油	25.4	機械類	24.6	機械類	22.7
紙類	10.9	天然ガス	22.8	自動車	13.5	医薬品	13.8
石油製品	7.7	魚介類	10.9	医薬品	5.9	衣類	4.4
自動車	6.2	機械類	6.6	石油製品	5.6	肉類	4.3
鉄鋼	5.5	石油製品	5.1	紙類	5.3	金属製品	3.5

（『世界国勢図会 2019/20年版』による）

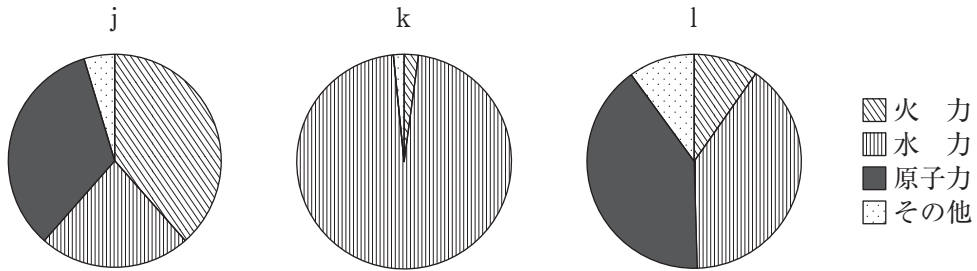
① あ

② い

③ う

④ え

問10 次の図2中のj～lは、図1中のあ～う国いずれかの電力構成の内訳（2016年）を示したものである。j～lに該当する国の最も適切な組合せを、下の①～⑥のうちから一つ選びマークせよ。 39



（『世界国勢図会 2019／20年版』による）

図2

	①	②	③	④	⑤	⑥
j	あ	あ	い	い	う	う
k	い	う	あ	う	あ	い
l	う	い	う	あ	い	あ

問11 図1中のあ～え国について述べた文として最も適切なものを、次の①～④のうちから一つ選びマークせよ。 40

- ① あ国はEUの加盟国である。
- ② い国はOECDの非加盟国である。
- ③ う国の通貨はユーロである。
- ④ え国はNATOの非加盟国である。

動画教材「ベリタスアカデミー」を受講してみたい方は
info@veritas.bz または info@v-a-l.jp までお問い合わせ下さい。

